


Esc. Primaria "Centenario de la Revolución Mexicana"
Ciclo Escolar 22-23


Nombre: _____ Grado/grupo: _____

INSTRUCCIÓN. Selecciona el nombre para cada figura geométrica
(select:yes/no).



Círculo

Cuadrado




Triángulo

Círculo



Rectángulo

Cuadrado



Cuadrado

Círculo