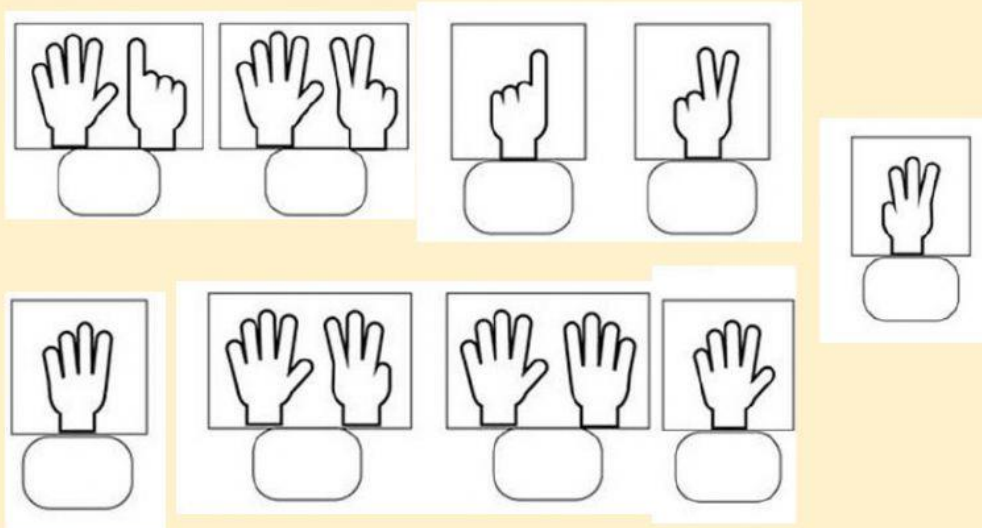


EVALUACIÓN DE MATEMÁTICAS

1. Cuenta y escribe el número correcto en cada recuadro



2. Lee atentamente y une cada número con su nombre

| | | |
|------------|----|-------|
| Dieciséis | 12 | Cinco |
| Quince | 19 | Diez |
| Diecinueve | 5 | Doce |
| Once | 15 | Tres |
| | 8 | Ocho |
| | 10 | |
| | 3 | |
| | 11 | |
| | 16 | |


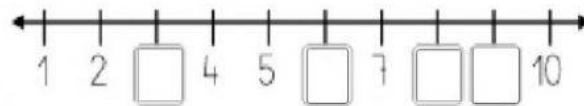
3. Recuerda el Cocodrilo Dante siempre quiere el número más grande



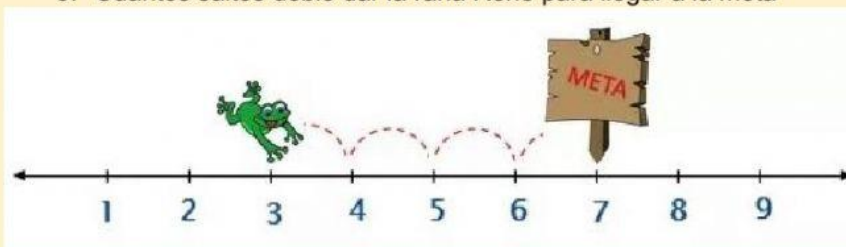
| | | | | | |
|----|--|----|----|--|----|
| 16 | | 19 | 14 | | 15 |
| 17 | | 17 | 7 | | 7 |
| 17 | | 10 | 13 | | 5 |
| 9 | | 9 | 11 | | 12 |
| 17 | | 12 | 19 | | 19 |
| 9 | | 11 | 8 | | 12 |



4. Escribe los números que faltan en cada recta numérica

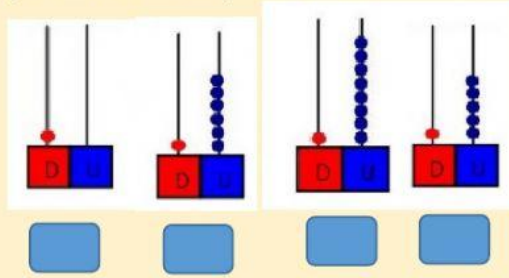


5. Cuántos saltos debió dar la rana René para llegar a la meta



| | |
|---|---|
| — | 4 |
| — | 3 |
| — | 5 |

6. Observa el ábaco, cuenta las bolitas de la **U**, luego cuenta las bolitas de la **D** y ubica el número que se formó



10

18


15

16

7. El veterinario debe revisar a cada animalito, ubica el orden en que los atenderá.



8. Todos los animalitos subieron al árbol y se ubicaron en un lugar. Observa la imagen y escribe en letras el número ordinal que corresponde:



RECUERDA: TODO LO QUE TE PROPONGAS LO PUEDES LOGRAR. ERES MUY INTELIGENTE