

Lembar Kerja Peserta Didik

MATEMATIKA

Materi : nilai tempat bilangan



NAMA :

KELAS :



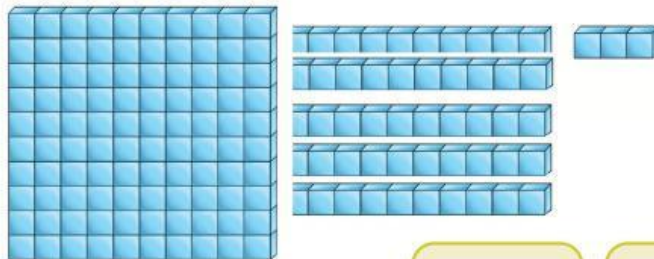
Nilai Tempat Bilangan



Ayo Berlatih

1. Isilah titik-titik di bawah ini berdasarkan gambar berikut!

a.



Ratusan

.....

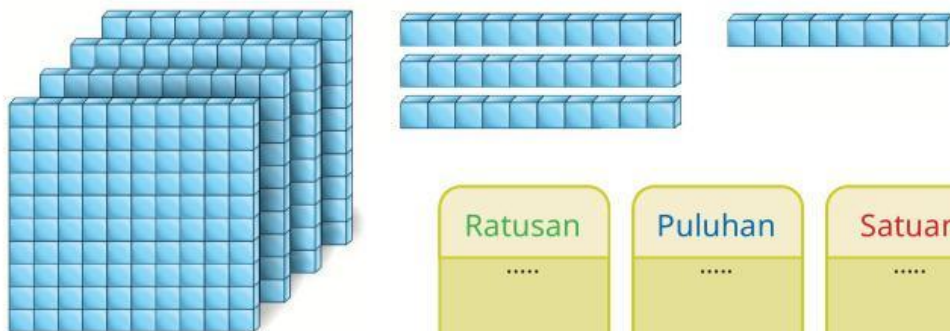
Puluhan

.....

Satuan

.....

b.



Ratusan

.....

Puluhan

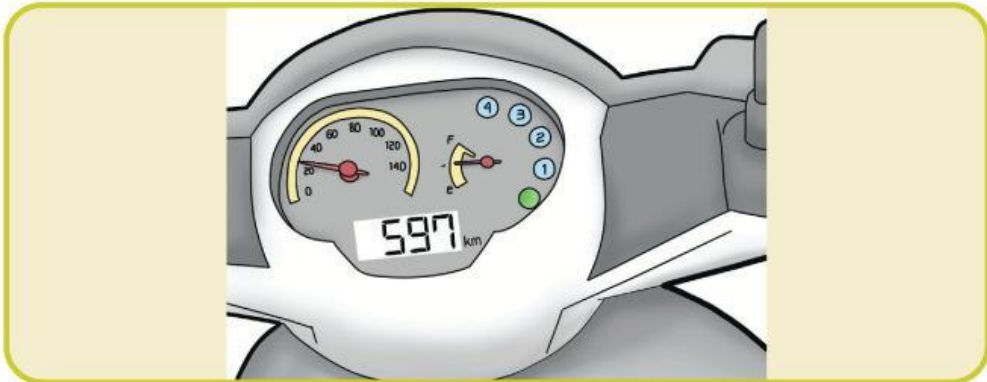
.....

Satuan

.....

2. Tuliskan lambang bilangan dan cara membaca bilangan yang terdapat pada gambar berikut.

a.



..... dibaca

b.



..... dibaca

c.




..... dibaca

3. Pasangkan lambang bilangan dan cara membacanya dengan cara menarik garis lurus.



● Sembilan ratus lima puluh



● Sembilan ratus tiga



● Seratus empat puluh lima



● Enam ratus dua

4. Tuliskan bilangan yang terdiri atas 3 angka dan letakkan setiap angka sesuai nilai tempatnya.

a.

835

Ratusan

8

Puluhan

Satuan

b.

724

Ratusan

2

Puluhan

Satuan

c.

683

Ratusan

3

Puluhan

Satuan

5. pindahkanlah bilangan dan isi titik-titik di bawah ini dengan bilangan yang tepat!

a. $\boxed{6}$ ratusan + $\boxed{3}$ puluhan + $\boxed{9}$ satuan
↓ ↓ ↓
..... + + =

b. $\boxed{8}$ ratusan + $\boxed{7}$ puluhan + $\boxed{6}$ satuan
↓ ↓ ↓
..... + + =

c. $\boxed{2}$ ratusan + $\boxed{5}$ puluhan + $\boxed{1}$ satuan
↓ ↓ ↓
..... + + =

**semoga mendapatkan
hasilnya memuaskan**

