


RELACIÓN ENTRE LA ADICIÓN Y LA MULTIPLICACIÓN

1 Cuenta y completa.

■ ¿Cuántos lazos hay en total?

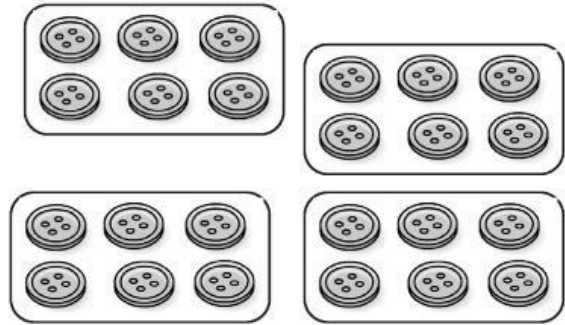


$$\square + \square + \square = \square$$

$$\square \times \square = \square$$

Hay _____.

■ ¿Cuántos botones hay en total?




$$\square + \square + \square + \square = \square$$

$$\square \times \square = \square$$


Hay _____.

2 ¿Cuántas flores hay de cada tipo? Observa y calcula.



 ▶ $5 + \square = \square \times \square = \square$

 ▶ $\square + \square + \square + \square + \square = \square \times \square = \square$

 ▶ $\square + \square + \square + \square + \square + \square = \square \times \square = \square$