

# Bangun Ruang Sisi Datar



# VIDEO PEMBAHASAN MATERI BANGUN RUANG SISI DATAR



Simak Video di bawah ini!



Klik link di bawah ini



yuk baca materi di atas







## LATIHAN SOAL



Pasangkanlah bangun di bawah ini yang sesuai dengan cara menarik garis!



PRISMA



LIMAS



BALOK



KUBUS



## LATIHAN SOAL

Jawablah pertanyaan di bawah ini dengan benar!

Banyak titik sudut kubus adalah...

Canva

Banyak rusuk kubus adalah...

Canva

Banyak sisi kubus adalah...

Canva

Banyak rusuk balok adalah...

Canva

Banyak sisi balok adalah...

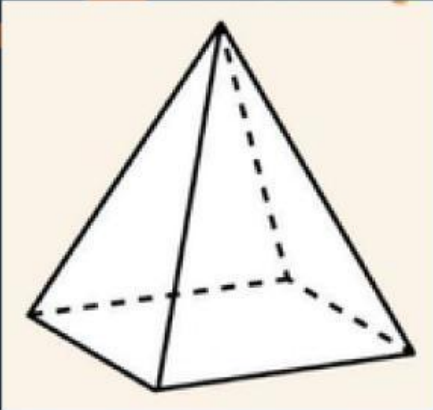
Canva

Banyak titik sudut balok adalah...

Canva

## LATIHAN SOAL

Pilihlah jawaban dari pertanyaan dibawah ini dengan tepat!



1. Nama bangun di samping adalah.....

☐ Prisma

☐ Limas

2. Banyak rusuk pada gambar di atas adalah.....

☐ 5

☐ 8

☐ 12

3. Banyak titik sudut adalah.....

☐ 5

☐ 8

☐ 12

4. Banyak sisi adalah.....

☐ 5

☐ 8

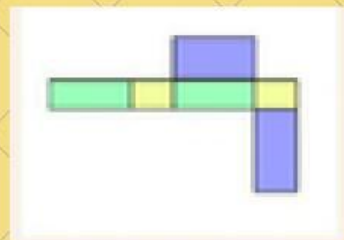
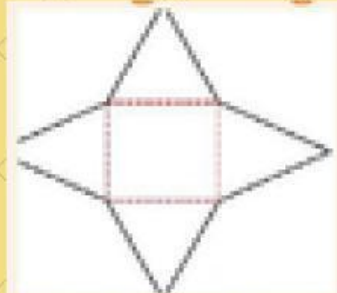
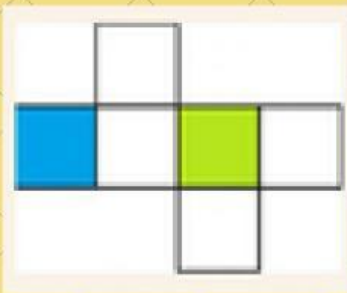
☐ 12



## LATIHAN SOAL



Geser dan pindahkan gambar jaring-jaring di bawah ini pada tempat yang sesuai



Kubus

Balok

Prisma

Limas

## LATIHAN SOAL



Pilihlah jawaban yang paling tepat!

Perhatikan gambar berikut!



1. Nama bangun di samping adalah.....

- A. Prisma Segitiga
- B. Prisma segiempat
- C. Prisma segilima
- D. Prisma segienam

2. Banyak Rusuknya adalah.....

- A. 5
- B. 6
- C. 9
- D. 12