

Guía de refuerzo para evaluación

Observas las figuras.



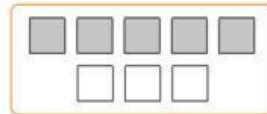
a. Escribe la razón entre la cantidad de estrellas y la cantidad de triángulos. ►

b. Escribe la razón entre la cantidad de triángulos y la cantidad de cuadrados. ►

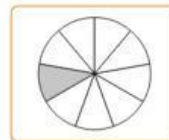
c. Escribe la razón entre la cantidad de cuadrados y la cantidad total de figuras. ►

**Relaciona** cada razón de la izquierda con su posible representación de la derecha.  
Usa líneas.

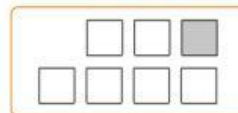
5 : 6



1 : 6



8 : 1



3 : 5

