



UNIDAD EDUCATIVA "MAHANAYM"

AÑO LECTIVO
2024-2025

EVALUACIÓN DIAGNÓSTICA

DOCENTES

ÁREA

GRADO/NIVEL

JORNADA

CIENCIAS NATURALES

QUINTO

MATUTINA

ESTUDIANTE:








FECHA:

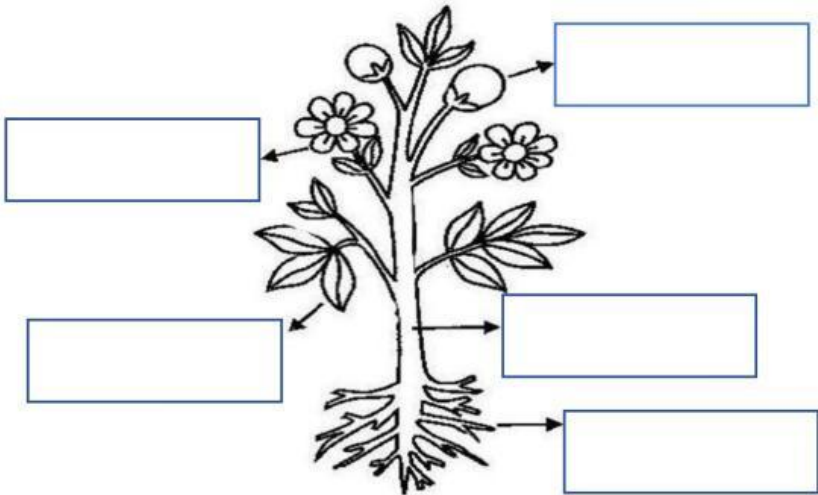
INSTRUCCIONES.

Evaluación de conocimientos y habilidades en el Área de Ciencias Naturales. Mucha concentración para que puedas resolverla correctamente.

PARA RESPONDER:

- ❖ Lea cuidadosamente la pregunta.
- ❖ Si la pregunta contiene gráficos, obsérvelos detenidamente.
- ❖ Escoja la respuesta correcta.

Nº	PLANTEAMIENTO	PUNT AJE
1	<p>Relaciona usando líneas, cada estado físico de la materia con su respectivo ejemplo.</p> <div><div><ul style="list-style-type: none">• Sólido• Líquido• Gaseosa</div><div><ul style="list-style-type: none">- agua, leche, yogur- hielo- vapor de agua</div></div>	1
2	<p>Escoja los que son recursos renovables.</p> <div><div>Agua</div><div>Gas Natural</div><div>Plantas</div><div>Carbón</div><div>Mineral</div><div>Suelo</div><div>Petróleo</div></div>	1
3	<p>Relaciona las clases de los animales vertebrados con cada ejemplo.</p> <div><div><div>1.- Mamíferos</div><div>2.- Reptiles</div><div>3.- Peces</div><div>4.- Anfibios</div><div>5.- Aves</div></div><div><div>- cocodrilo</div><div>- vaca</div><div>- rana</div><div>- tilapia</div><div>- gallina</div></div></div>	2,5
4	<p>Identifica y marque los animales invertebrados.</p> <div><div></div><div></div><div></div><div></div><div></div></div>	1
5	<p>Marque la imagen que representa una amenaza que afecta a los hábitats locales.</p> <div><div></div><div></div></div>	1

6	<p>Relaciona el origen de los alimentos con sus ejemplos.</p> <ul style="list-style-type: none"> • Mineral verduras, legumbres, frutas • Vegetal sal y agua • Animal carne, pollo, leche, huevos 	1
7	<p>Escribe las partes de la planta.</p>  <p>raíz tallo hoja flor fruto</p>	2,5