

# Lembar Kerja Peserta Didik (LKPD)

## “IPAS”

Kelompok belum mahir

**RELIEF BUMI (LITOSFER, HIDROSFER, ATMOSFER)**



## FASE C - KELAS 5

**NAMA ANGGOTA : 1**\_\_\_\_\_

**2**\_\_\_\_\_

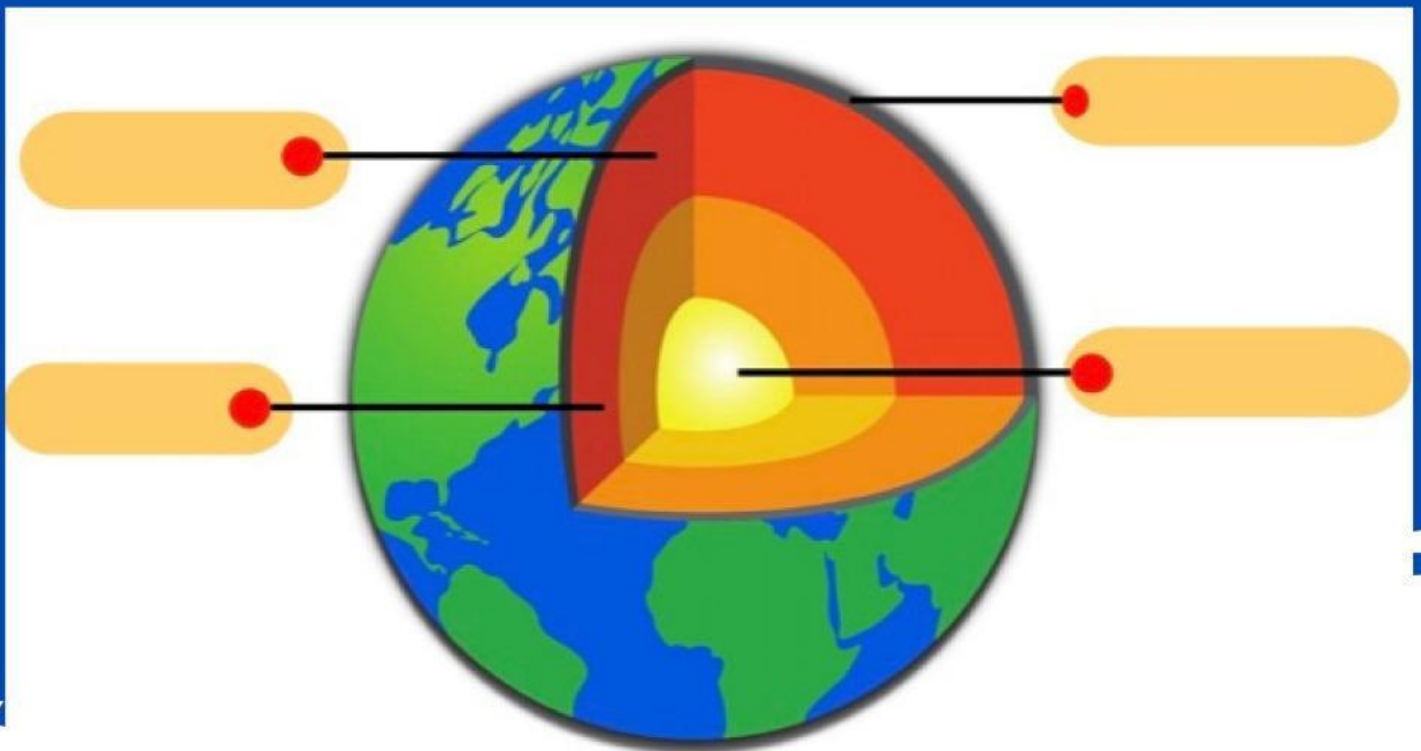
**3**\_\_\_\_\_

**4**\_\_\_\_\_

**5**\_\_\_\_\_

**KELAS :**

Pilihlah nama bagian lapisan bumi di bawah ini yang sesuai dengan struktur lapisan bumi yang tepat!



Kerak Bumi

Mantel Bumi

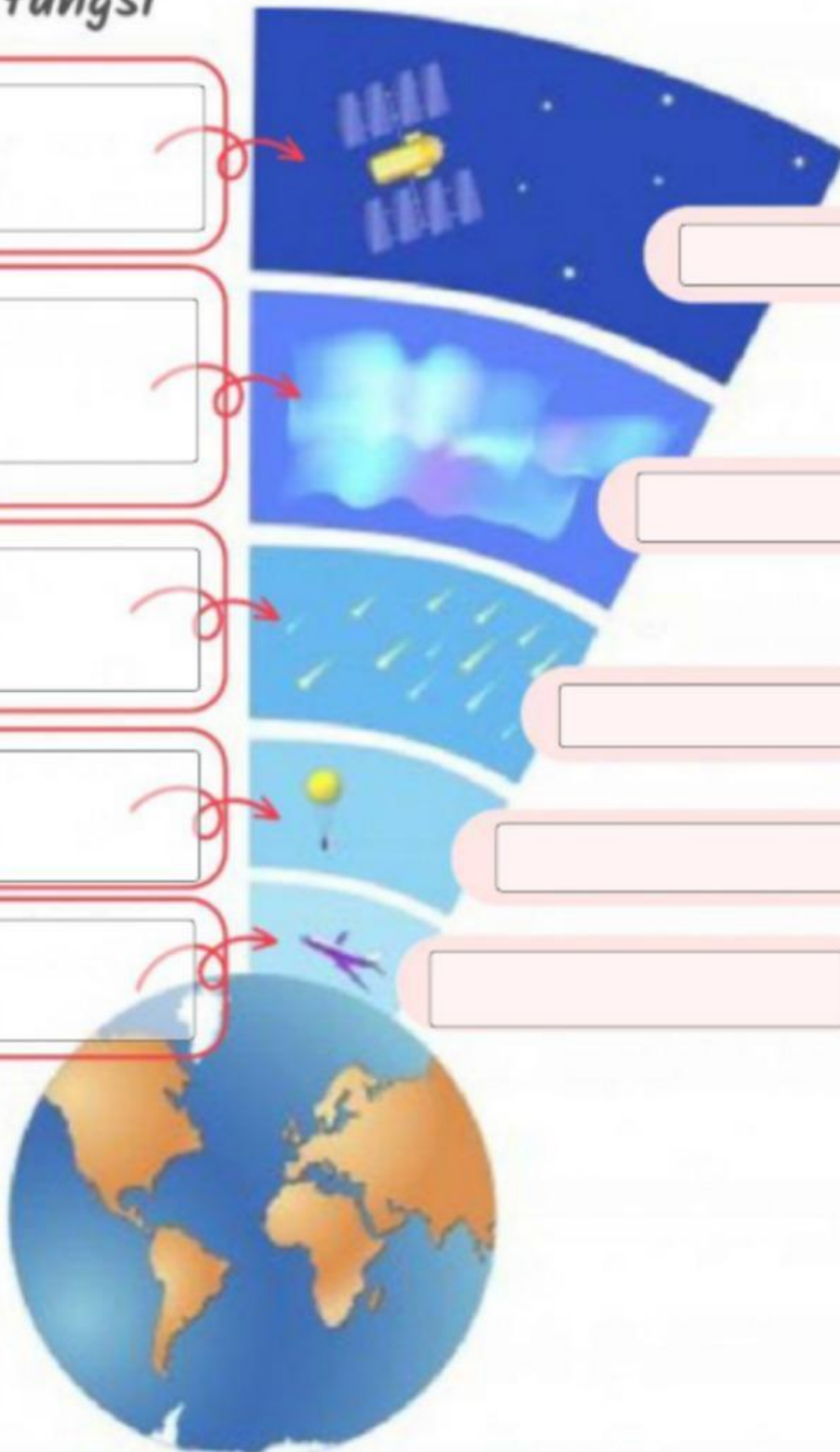
Inti Luar

Inti Dalam

Perhatikan skema lapisan Atmosfer berikut! Beri nama dan jelaskan masing-masing peranan/fungsi dari lapisan Atmosfer tersebut!

Peranan / fungsi

Nama Lapisan





# Lembar Kerja Peserta Didik (LKPD)

## “IPAS”

Kelompok mahir

**RELIEF BUMI (LITOSFER, HIDROSFER, ATMOSFER)**



## FASE C - KELAS 5

**NAMA ANGGOTA : 1**\_\_\_\_\_

**2**\_\_\_\_\_


**3**\_\_\_\_\_

**4**\_\_\_\_\_

**5**\_\_\_\_\_

**KELAS :**

Isilah teka-teki silang dibawah ini!



### Menurun :

1. Lapisan udara yang menyelimuti permukaan bumi
2. Lapisan perairan yang menyelimuti permukaan bumi
3. Lapisan daratan yang menyelimuti bumi
8. Lapisan terluar bumi tempat kita hidup karena tersedianya oksigen dan air
9. Tanah basah yang sering digenangi air karena letaknya yang rendah

### Mendatar :

4. Dataran yang ketinggiannya lebih dari 200 meter diatas permukaan laut
5. Lapisan atmosfer yang melindungi bumi dari radiasi sinar ultraviolet
6. Lapisan atmosfer yang melindungi bumi dari hujan meteor
7. Daratan yang terdapat di antara dua bagian yang lebih tinggi
10. Lapisan terluar atmosfer