


# Ficha de Trabalho de Matemática – Resolução de Problemas

## 1 – Observa e calcula.



Vou comer 4  
bolachas !!!



Quantas bolachas vão sobrar?

Vão sobrar \_\_\_\_\_ bolachas.

## 2 – Numa quinta há 4 vacas, 5 ovelhas e 3 galinhas.

Quantos animais há no total?

\_\_\_\_\_ + \_\_\_\_\_ + \_\_\_\_\_ = \_\_\_\_\_

No total há \_\_\_\_\_ animais.






## DESAFIO....

O Nuno, A Ana e o Ivo gostam muito de fruta. Descobre qual o fruto preferido de cada um. Segue as pistas!!

- O fruto preferido do Nuno é morango.

- A Ana não gosta de banana.

- Cada menino gosta de um fruto diferente.

|      |  |  |  |
|------|---|--|---|
| Nuno |   |  |   |
| Ana  |   |  |   |
| Ivo  |   |  |   |