





Jawablah Pertanyaan di bawah ini dengan benar!

1.

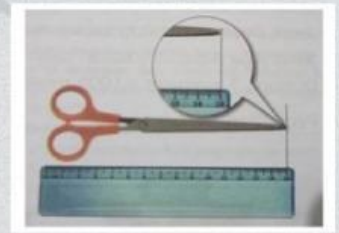
A.



B.



C.




Panjang pensil =cm. Panjang krayon =cm. Panjang gunting =cm.

2. Jawablah soal berikut berdasarkan soal nomor 1


- Antara pensil dan krayon, yang lebih panjang adalah....
- Antara pensil dan gunting, yang lebih pendek adalah...
- Urutan benda dari yang terpendek....,

3. Ukurlah panjang ketiga garis berikut menggunakan penggaris.

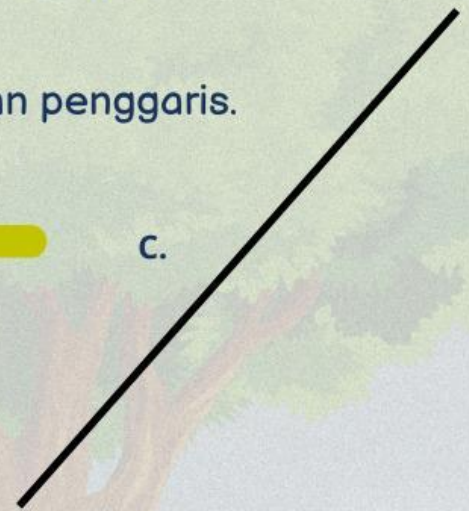
A.



B.



C.



Jawablah berdasarkan hasil pengukuran tersebut.

- Panjang garis A adalah...
- Panjang garis B adalah...
- Panjang garis C adalah...
- Garis yang terpanjang adalah...
- Urutkan ketiga garis dari yang terpanjang...

Kerjakan

