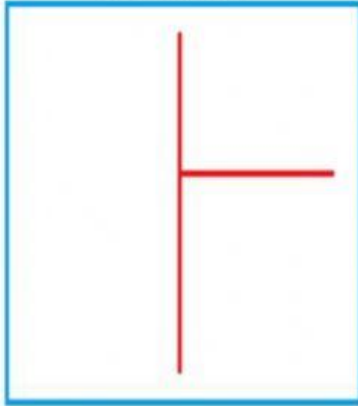


❖ Resuelva los siguientes problemas.

En un videojuego, Marta ha conseguido 36 450 puntos capturando 11 monedas de oro. ¿Cuántos puntos vale cada moneda de oro?

Resuelve el problema




Respuesta:

En la estantería del salón de mi casa hay 1280 libros en total colocados en 10 estantes. Sabiendo que cada estantería tiene el mismo número de libros, calcula ¿cuántos libros hay en cada estantería?




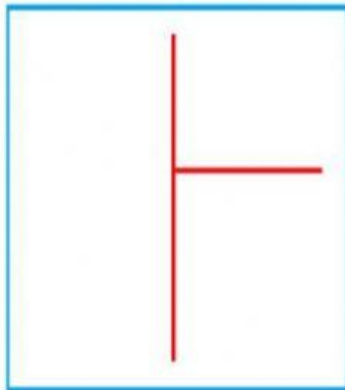
Resuelve el problema



Respuesta:

Las gallinas de una granja pusieron 3 675 huevos en una semana. Si cada gallina puso 13 huevos, ¿cuántas gallinas hay en la granja?


Resuelve el problema



Respuesta:

Al vivero de Federico llegaron 25 camiones cargados con un total de 18 052 plantas. Si cada camión traía la misma cantidad de plantas, ¿cuántas cargaba cada camión?

Resuelve el problema



Respuesta: