

## LEMBAR KERJA PESERTA DIDIK (LKPD)

Nama: \_\_\_\_\_

Kelas: \_\_\_\_\_

**Ayo simak video bersama-sama!**



**Power point materi**



**Link materi pembelajaran**



## Ayo selesaikan tugas dengan benar!

1. Kita harus bersikap...kepada orangtua

- ☐ Kesal
- ☐ Sopan
- ☐ Ketus

2. Membantu ayah dan ibu membersihkan rumah adalah perbuatan yang...

- ☐ Percuma
- ☐ Baik
- ☐ Buruk

3.  -  -  -  -

Susunan kalimat yang tepat dari kata-kata di atas adalah...


    


4. Deni setiap hari menyapu halaman rumah agar selalu...



Gambar di atas merupakan gambar..

- ☐ Peta dunia
- ☐ Denah pernikahan
- ☐ Denah rumah





6. Rumah Meli berada di jalan...

- ☐ Jalan M.Nasir
- ☐ Jalan Moh. Hatta
- ☐ Jalan A. Hakim

7. Rumah yang berada diantara jalan W. Jhon dan A. Halim adalah rumah...

- ☐ Beni
- ☐ Siti
- ☐ Lani

8. Rumah Rudi Rumah Anita Rumah Karin Rumah Sinta Rumah Bayu



Rumah yang berada di ujung kiri adalah rumah....

- ☐ Bayu
- ☐ Karin
- ☐ Rudi

9. Mata uang negara Indonesia adalah....

- ☐ Rupiah
- ☐ Ringgit
- ☐ Dollar

10.



Uang di atas disebut dengan uang...

- ☐ Kertas
- ☐ Koin
- ☐ Receh

///





///



///

///

///



11.



Gambar di samping adalah uang yang bernilai...

12.

Danu memiliki uang seribu rupiah

Eri memiliki uang dua ribu rupiah

Alan memiliki uang lima ratus rupiah

Urutkanlah mereka bertiga dari yang memiliki uang terkecil..



13. Uang Rp. 5.000,00 dapat ditukar dengan...

- ☐ 5 lembar Rp.500,00
- ☐ 2 lembar Rp. 2.000,00
- ☐ 5 lembar Rp.1000,00

14. Ningning memiliki uang dua ribu rupiah

Winter memiliki uang lima ribu rupiah

Jadi uang milik Ningning...dari uang milik Winter

- ☐ Sama denga
- ☐ Lebih besar
- ☐ Lebih kecil


15.

No.	Barang	Harga
1.	Buku gambar	Rp2.500,00
2.	Pensil warna	Rp5.000,00
3.	Pensil	Rp2.000,00

Urutan harga barang dari yang paling murah adalah..







16. Tarik garis pada mata uang yang setara



17. Bunyi yang teratur berulah disebut...

- ☐ Nada
- ☐ Suara
- ☐ Irama

18. Banyak ketukan dalam setiap ruas disebut...

- ☐ Birama
- ☐ Irama
- ☐ Nada

19. Birama tiga artinya....

- ☐ Satu pola nada ada tiga hitungan
- ☐ Satu pola nada ada dua hitungan
- ☐ Satu pola nada ada satu hitungan

20. Suara gelas kaca yang dipukul adalah...

