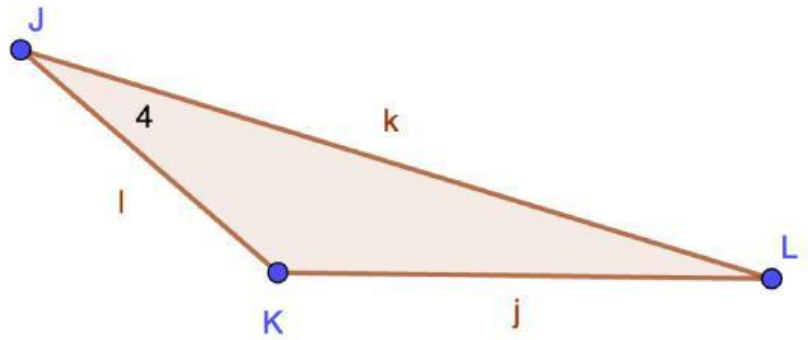
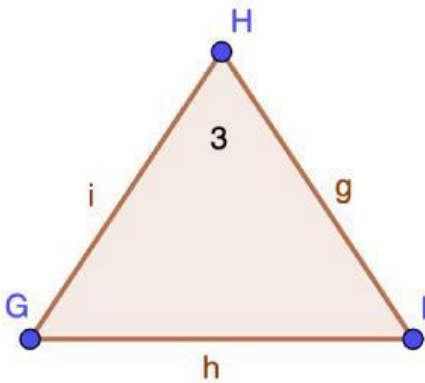
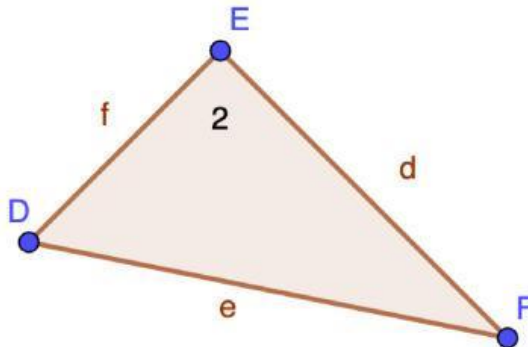
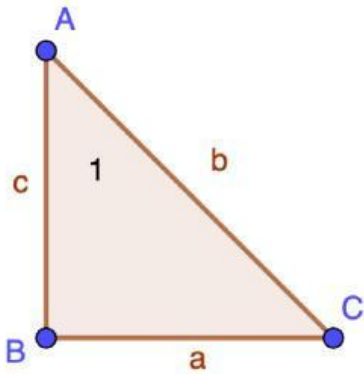


¿Y dónde están los catetos?, ¿Quién será la hipotenusa?

Observa los siguientes polígonos e identifica los lados de acuerdo al Teorema de Pitágoras.

1. Selecciona cual de los triángulos es rectángulo dando click en ellos.



Identifica en los siguientes triángulos cuales son los catetos y la hipotenusa seleccionando con una palomita.

Triángulo	Hipotenusa	Cateto	Cateto
1	a	b	c
2	e	d	f
3	h	i	g
4	l	j	k

Argumenta tus respuestas