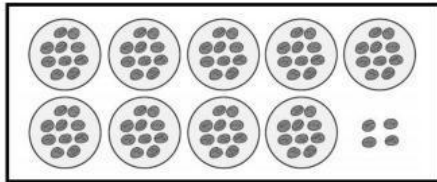


NAMA :

KELAS :

I. Tulis jawabnya pada kolom yang tersedia dengan menuliskan pilihan a,b, atau c !

1. Perhatikan gambar berikut!



Jumlah kerikil di atas ada ...

- a. 94 b. 84 c. 49

JAWAB :

2. Hasil operasional penjumlahan di bawah adalah ...

$$\begin{array}{r} 43 \\ 16 \\ \hline + \\ \hline \end{array}$$

- a. 49 b. 59 c. 95

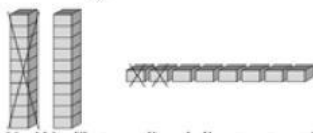
JAWAB :

3. $20 + 14 + 15 = n$, nilai untuk n adalah

- a. 39 b. 46 c. 49

JAWAB :

4. Perhatikan gambar di bawah ini!



Hasil operasional gambar di atas adalah ...

- a. 12 b. 16 c. 28

JAWAB :

5. Hasil operasional bilangan di bawah ini adalah ...

$$\begin{array}{r} 47 = 4 \text{ puluhan} + 7 \text{ satuan} \\ 22 = 2 \text{ puluhan} + 2 \text{ satuan} \\ \hline = 2 \text{ puluhan} + 5 \text{ satuan} \\ = \dots \end{array}$$

- a. 25 b. 52 c. 7


JAWAB :

6. Yang merupakan satuan panjang tidak baku adalah

- a. meter b. centimeter c. jengkal

JAWAB :

7. Perhatikan gambar berikut !



Panjang meja tersebut adalah ...

- a. 7 jengkal b. 8 jengkal c. 9 jengkal

JAWAB :

8. Perhatikan tabel hasil pengukuran berikut!

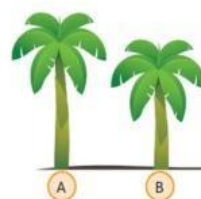
No	Nama benda	Ukuran panjang
1	buku gambar	12 korek api
2	penggaris	10 korek api
3	kotak pensil	5 korek api
4	kalender	17 korek api

Pernyataan yang paling tepat untuk tabel di atas adalah ...

- a. penggaris lebih panjang dari pada buku gambar.
b. buku gambar lebih pendek daripada kalender.
c. kalender sama panjang dengan buku gambar.

JAWAB :

9. Perhatikan gambar berikut!



Pohon A dari pohon B

- a. lebih pendek b. lebih tinggi c. sama tinggi

JAWAB :

10. Yang bukan termasuk alat pengukuran panjang adalah

- a. penggaris b. timbangan c. meteran

JAWAB :