



PEMERINTAH PROVINSI NUSA TENGGARA TIMUR
DINAS PENDIDIKAN DAN KEBUDAYAAN

SMK NEGERI 1 KEFAMENANU

JL. EL TARI KM. 09 KEFAMENANU

Tlp/Fax : (0388) 2433019 Email : admin@[smknegeri1kefamenanu.sch.id](mailto:admin@smknegeri1kefamenanu.sch.id)

Website : <http://smknegeri1kefamenanu.sch.id>



PENILAIAN AKHIR TAHUN T.P 2023/2024

Mata Pelajaran : PEMBUATAN HIASAN BUSANA
Kelas/Semester : XI /4
Bentuk Soal : Pilihan Ganda, Pilihan Ganda Kompleks,
Menjodohkan, Singkat Dan Essay Atau Uraian.
Kompetensi Keahlian : TATA BUSANA

Nama	:
Kelas	:
Hari / Tanggal	:

BENTUK SOAL : PILIHAN GANDA (Nomor 1 dan 2)

PETUNJUK : Jawablah Pertanyaan atau Pernyataan dibawah ini dengan cara memilih pilihan jawaban yang tepat dan menuliskan huruf A/B/C/D//E yang sesuai dengan pilihan tersebut dan tuliskan jawaban pada Lembar Jawaban yang di sediakan

- Motif yang sesuai diterapkan untuk menghias corak adalah....
 - berkotak besar
 - berbintik
 - berbunga kecil
 - berserak
 - polos
- Penyelesaian ragam hias melekatkan benang menggunakan tusuk :
 - Festoon
 - Jelujur

- c. rantai terbuka
- d. lilit
- e. pipih

BENTUK SOAL : **PILIHAN GANDA KOMPLEKS** (Benar atau Salah Nomor 3 sampai 4)

PETUNJUK : Nyatakan Pernyataan dibawah ini dengan Benar atau Salah dengan cara menulis huruf B jika Benar dan huruf S jika Salah dan tuliskan Jawaban pada Lembar Jawaban yang di sediakan

- 3. Pola hiasan sering disebut juga motif hiasan. (BENAR / SALAH)
- 4. Letak hiasan pusat dimana letak ragam hiasnya berada di pinggiran dari benda tersebut (BENAR / SALAH)

BENTUK SOAL : **PILIHAN GANDA KOMPLEKS** (Jawaban Benar lebih dari satu Nomor 5 sampai...)

PETUNJUK : Pililah beberapa Jawaban yang dianggap paling Benar dengan dengan menuliskan huruf atau Angka yang sesuai dengan pilihan tersebut dan tuliskan Jawaban pada Lembar Jawaban yang disediakan.

- 5. Letak hiasan akan sangat menentukan besar kecilnya motif ataupun bentuk dari motif hiasan. Letak hiasan yang lazim diterapkan pada busana adalah pada :
 - a. bagian panggul
 - b. bagian sisi badan
 - c. bagian belakang
 - d. bagian tepi busana
 - e. bagian kerah



BENTUK SOAL : **MENJODOHKAN** (Nomor 6 sampai 7)




PETUNJUK : Hubungkanlah Pernyataan disebelah kiri dan respon disebelah kanan dengan cara menuliskan huruf atau Angka yang sesuai dengan pilihan tersebut dan tuliskan Jawaban pada Lembar Jawaban yang disediakan.

6.

Pernyataan	Respon
1. Hal perlu di perhatikan dalam memperindah bidang yang dihias.	A. Meningkatkan mutu/ kualitas busana.
2. Fungsi hiasan pada busana, yaitu untuk	B. Dekoratif
3. Bentuk yang dibuat berdasarkan bentuk-bentuk yang ada di alam sekitar seperti bentuk tumbuh-tumbuhan	C. Geometris
4. Bentuk-bentuk yang mempunyai bentuk teratur dan dapat diukur menggunakan alat ukur.	D. Naturalis
5. Bentuk yang berasal dari bentuk naturalis dan bentuk geometris yang sudah distilasi atau direngga	E. Tidak berlebihan

7.

Pernyataan	Respon
<p>Gambar 1</p> 	A. Sulaman Inggris
<p>Gambar 2</p> 	B. Bidal

<p>Gambar 3</p> 	<p>C. Motif pingiran tegak</p>
<p>Gambar 4</p> 	<p>D. Motif pingiran bergantung</p>
<p>Gambar 5</p> 	<p>E. Sulaman bebas</p>

BENTUK SOAL : **ISIAN SINGKAT** (Nomor 8 sampai...)

PETUNJUK : Jawablah pertanyaan dibawah ini dengan singkat dan jelas berupa kata, frase, angka, simbol, tempat atau waktu pada Lembar Jawaban yang disediakan.

8. Efek garis motif dengan arah diagonal memberikan kesan

BENTUK SOAL : **ESSAY ATAU URAIAN** (Nomor 9 sampai 10)

PETUNJUK : Jawablah pertanyaan dibawah ini dengan cara menguraikan atau menjelaskan pada Lembar Jawaban yang disediakan.

9. Dasar pertimbangan apa saja yang dapat dijadikan pedoman pembuatan desain hiasan busana. Sebutkan !

10. Bagaimanakah cara mengetahui tekstur bahan !