


1- OS ALUNOS DO 2º ANO FORAM ASSISTIR AO JOGO DE FUTEBOL. ELES COMBINARAM QUE O PRIMEIRO QUE CHEGASSE AO LOCAL COMPRARIA OS



A) QUANTOS MENINOS ESTÃO NA FILA? _____

B) QUEM FOI O PRIMEIRO A CHEGAR? _____

C) QUANTOS INGRESSOS ELE TEVE QUE COMPRAR? _____

D) QUEM FOI O ÚLTIMO A CHEGAR? _____

E) QUEM FOI O SEGUNDO A CHEGAR? _____

F) QUEM OCUPA O 8º LUGAR NA FILA? _____

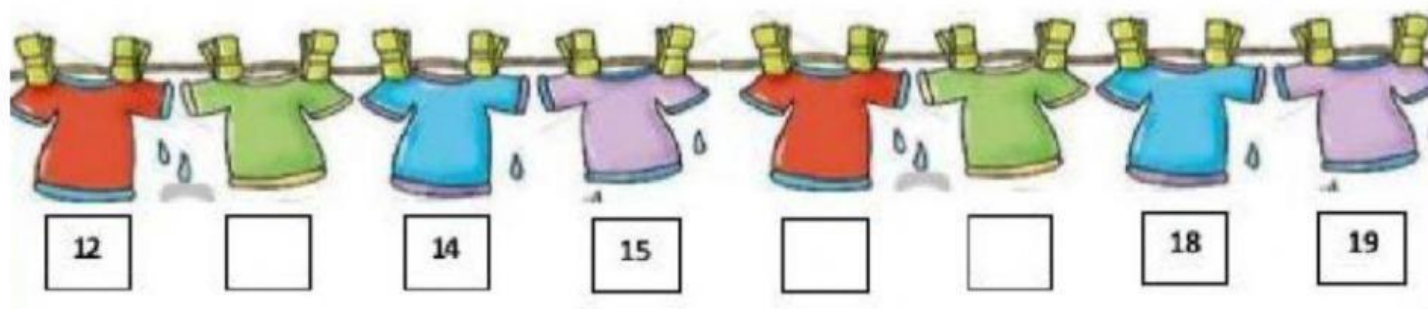
G) QUAL A POSIÇÃO DO ENZO NA FILA? _____

H) DEPOIS DO ENZO VEM O _____ QUE OCUPA O
_____ LUGAR NA FILA.

I) QUEM CHEGAR DEPOIS DO YURI, OCUPARÁ QUE POSIÇÃO? _____

J) QUANTOS MENINOS ESTÃO ANTES DO PEDRO? _____ E DEPOIS
DELE? _____

2- OBSERVE AS CAMISA DE FUTEBOL DO RONALDO.



A) QUAIS NÚMEROS ESTÃO FALTANDO NE SEQUÊNCIA? _____


B) NA SEQUÊNCIA NUMÉRICA, QUAL É O PRÓXIMO NÚMERO?

_____ 29

_____ 10

54 _____

3- TREM DOS ANIMAIS.



A) QUEM ESTÁ NO 3º VAGÃO? _____

B) QUAL É O VAGÃO DO PORCO? _____

C) QUEM ESTÁ NO 2º VAGÃO? _____

D) QUEM ESTÁ NO ÚLTIMO VAGÃO? _____

E) QUEM ESTÁ NO 6º VAGÃO? _____

F) QUAL VAGÃO ESTÁ VAZIO? _____

G) QUANTOS VAGÕES O TREM POSSUI? _____

4- OBSERVE O PLACAR E PREENCHA AS COLOCAÇÕES.

TIME	GOLS
AZUL 	10
AMARELO 	5
VERDE 	8
PRETO 	12
VERMELHO 	7

COLOCAÇÃO	
1ª	
2ª	
3ª	
4ª	
5ª	

5 – OBSERVE E RESPONDA:



H) QUAL É A CRIANÇA QUE CHEGOU EM 1º LUGAR? _____

I) QUEM ESTÁ EM 3º LUGAR? _____

J) QUAL A COLOCAÇÃO DE MARIA? _____

K) QUEM CHEGOU EM ÚLTIMO LUGAR? _____

L) QUEM CHEGOU EM PENÚLTIMO LUGAR? _____

M) QUEM É A CRIANÇA QUE CHEGOU EM 4º LUGAR? _____

N) QUAL A COLOCAÇÃO DE TIAGO? _____