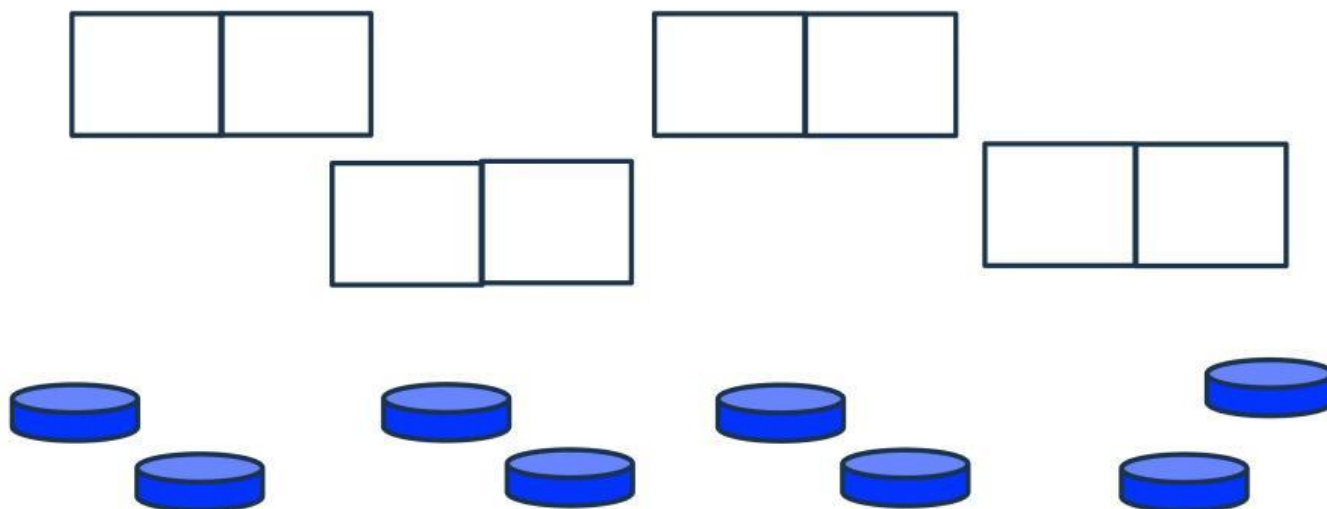




Observa el video y contesta.

NOMBRE: _____ GRUPO: _____

1. Arrastra las fichas y forma grupos de 2.



2. Escribe cuántos pingüinos hay en total.



Respuesta
LIVEWORKSHEETS

3. Une con líneas el grupo de estrellitas con su número. Toma en cuenta que sobra un número



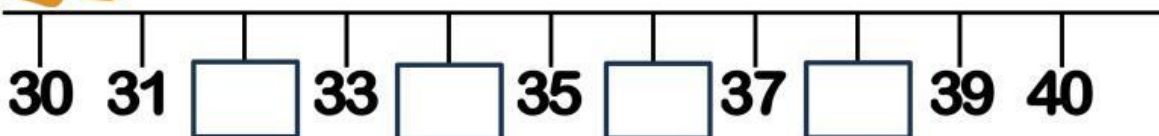
4

2

6

8


3. Escribe los números que faltan en la siguiente recta:



4. Escribe una numeración de 2 en 2 que inicie en el 30 y termine en el 50.

| | | | | | | | | | | | | | | |
|---|--|--|--|--|--|--|--|--|--|--|--|--|--|--|
| • | | | | | | | | | | | | | | |
| • | | | | | | | | | | | | | | |
| X | | | | | | | | | | | | | | |
| • | | | | | | | | | | | | | | |
| • | | | | | | | | | | | | | | |
| X | | | | | | | | | | | | | | |
| • | | | | | | | | | | | | | | |
| • | | | | | | | | | | | | | | |
| X | | | | | | | | | | | | | | |
| • | | | | | | | | | | | | | | |
| • | | | | | | | | | | | | | | |
| X | | | | | | | | | | | | | | |
| | | | | | | | | | | | | | | |

4. ¿Cuántas naranjas faltan para completar 20?



Respuesta