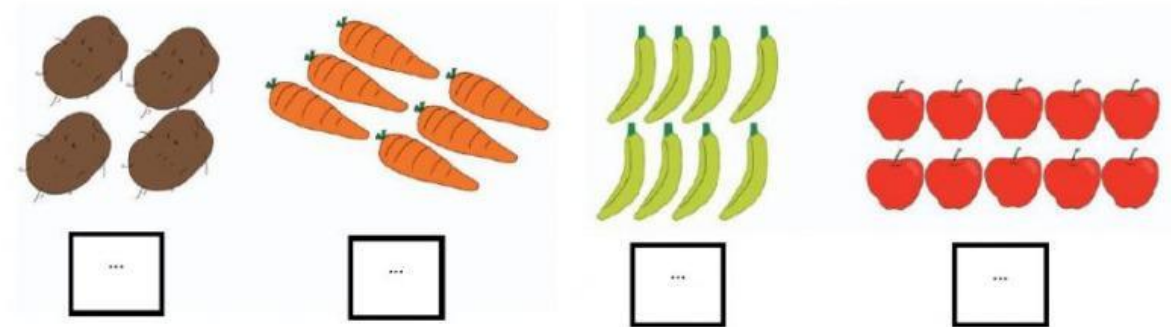






## Matematika Tema 4 Subtema 2

A. Hitunglah banyak sayur dan buah di bawah ini sesuai gambar !




B. Susunlah dari bilangan yang kecil ke besar !

6	4	10	8
---	---	----	---

--	--	--	--

C. Hitunglah banyak peralatan makan di bawah ini sesuai gambar !

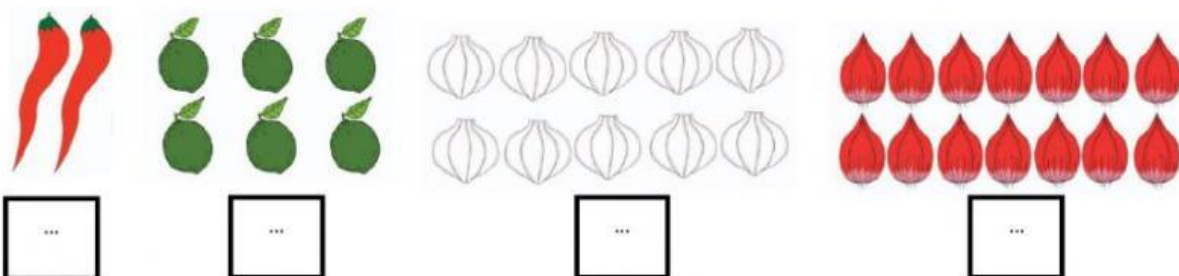


D. Susunlah dari bilangan yang kecil ke besar !

7	1	4	10
---	---	---	----

--	--	--	--

E. Hitunglah banyak bumbu dapur di bawah ini sesuai gambar !



F. Susunlah dari bilangan yang kecil ke besar !

14	6	2	10
----	---	---	----

--	--	--	--