



PEMERINTAH PROVINSI NUSA TENGGARA TIMUR
DINAS PENDIDIKAN DAN KEBUDAYAAN

SMK NEGERI 1 KEFAMENANU

JL. EL TARI KM. 09 KEFAMENANU

Tlp/Fax : (0388) 2433019 Email : admin@[smknegeri1kefamenanu.sch.id](mailto:admin@smknegeri1kefamenanu.sch.id)

Website : <http://smknegeri1kefamenanu.sch.id>



SOAL PENILAIAN SEMESTER GENAP TP. 2023/2024

Mata Pelajaran : PEMBUATAN BUSANA COSTUMMADE
Kelas/Semester : XI/II
Bentuk Soal : Pilihan Ganda, Pilihan Ganda Kompleks,
Menjodohkan, Isian Singkat, Uraian.
Kompetensi Keahlian : Jurusan Tata Busana.

Nama :

Kelas :

SELAMAT BEKERJA

PETUNJUK KHUSUS

BENTUK SOAL : **PILIHAN GANDA** (nomor 1 Sampai 2)

PETUNJUK : Jawablah Pertanyaan atau Pernyataan dibawah ini dengan cara memilih pilihan jawaban yang tepat dan menuliskan huruf A/B/C/D/E yang sesuai dengan pilihan tersebut dan tuliskan jawaban pada Lembar Jawaban yang disediakan.

1. Pesta-pesta yang diadakan di gedung dengan mengundang teman dan keluarga adalah ajang pertemuan sangat berarti. Sehingga kita akan menampilkan yang sempurna seperti, dekorasi gedung, sajian makanan, busana yang dipakai baik yang punya acara ataupun tamunya. Busana yang dipakai oleh pria kebanyakan busana resmi seperti jas. Sedangkan wanitanya memakai busana yang lebih unik, glamour, supaya tampilannya terkesan anggun dan menarik. Busana yang dipilih wanita tersebut untuk dating kepesta tersebut adalah
 - A. Gamis
 - B. Tunik
 - C. Blouse
 - D. Bustier dress
 - E. Dress

2. Usaha penjahitan yang khusus menerima jahitan busana wanita adalah....

- A. Butik
- B. Konfeksi
- C. Tailor
- D. Modiste
- E. Garment

PETUNJUK KHUSUS

BENTUK SOAL : **PILIHAN GANDA KOMPLEKS** (Benar atau Salah. nomor ... sampai ...)

PETUNJUK : Nyatakan pernyataan dibawah ini Benar atau Salah dengan cara menulis huruf **B** jika Benar dan huruf **S** jika salah dan tuliskan Jawaban pada Lembar Jawaban yang disediakan.

3. Pola busana dikelompokkan menjadi 2 (dua) yaitu pola bahan utama dan pola furing.

(BENAR / SALAH)

4. Untuk mendesain gambar busana wanita ukuran yang dipakai adalah 8 x tinggi kepala .

(BENAR / SALAH)

PETUNJUK KHUSUS

BENTUK SOAL : **PILIHAN GANDA KOMPLEKS** (Jawaban Benar Lebih dari Satu. nomor 5)

PETUNJUK : Pililah beberapa Jawaban yang dianggap paling Benar dengan menuliskan huruf atau angka yang sesuai dengan pilihan tersebut dan tuliskan Jawaban pada Lembar Jawaban yang disediakan.

5. Gaun adalah salah satu model busana yang dirancang khusus untuk dikenakan pada kesempatan acara pesta. Bahan yang sesuai untuk pembuatan busana pada gambar desain dibawa adalah:

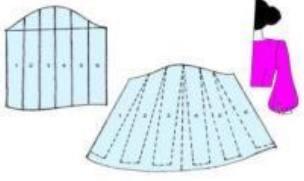
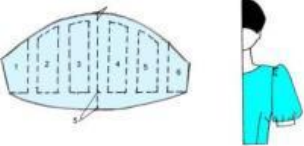
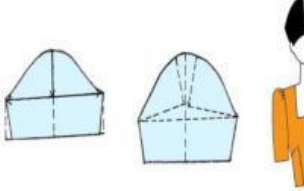
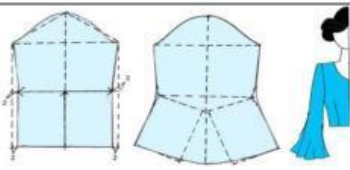



Bahan	Benar	Salah
Kain Katun, kain Satin dan kain katun bambu	<input type="checkbox"/>	<input type="checkbox"/>
Kain satin, kain Drill dan kain katun bambu	<input type="checkbox"/>	<input type="checkbox"/>
Kain Katun ,kain Brokat dan kain sutera	<input type="checkbox"/>	<input type="checkbox"/>
Kain kaos, kain Silk dan kain Hero	<input type="checkbox"/>	<input type="checkbox"/>
Kain satin, kain katun,kain sutera dan kain kaos	<input type="checkbox"/>	<input type="checkbox"/>

PETUNJUK KHUSUS

BENTUK SOAL : **MENJODOHKAN** (nomor 6 sampai 7)

PETUNJUK : Hubungkanlah Pernyataan disebelah kiri dan respon disebelah kanan dengan cara menuliskan huruf atau angka yang sesuai dengan pilihan tersebut dan tuliskan Jawaban pada Lembar Jawaban yang disediakan.

6.	Pernyataan	Jawaban
1		A. Lengan poff
2		B. Lengan Bishop
3		C. Lengan sayap
4		D. Lengan berkepala

5		E. Lengan panjang lonceng
---	---	---------------------------

7.	Pernyataan	Jawaban
1	Alat yang dipakai untuk melicinkan permukaan kain	A. Pattern Making
2	Membuat pola berdasarkan suatu ukuran dan desain tertentu	B. Seterika
3	Siluet dengan bagian belakang yang berekor disebut siluet	C. Bahan penguat untuk melapisi jacket/blazer berperangkat
4	Tutup tarik	D. Siluet L
5	Kufner	E. Zipper/ Ritsluiting

PETUNJUK KHUSUS

BENTUK SOAL : **ISIAN SINGKAT** (nomor 8)

PETUNJUK : Jawablah pertanyaan dibawah ini dengan singkat dan jelas berupa kata, frase, angka, simbol, tempat atau waktu pada Lembar Jawaban yang disediakan.

8. Saat membuat gaun pesanan pelanggan, anda menggunakan. supaya mengetahui banyaknya kain yang diperlukan.

PETUNJUK KHUSUS

BENTUK SOAL : **URAIAN** (nomor 9 Sampai 10)

PETUNJUK : Jawablah pertanyaan dibawah ini dengan cara menguraikan atau menjelaskan, pada lembar jawaban yang disediakan.

9. Di ruang desain “Rumah Mode Kiara” ada karyawatnya bernama Nisa, ia akan membuat desain Gaun pesanan Diana. Sebelum Nisa menggambar desain, yang harus disiapkan Nisa yaitu

10. Sebut dan jelaskan hal-hal yang perlu diperhatikan dalam memilih bahan busana pesta !