


Lembar Kerja Peserta Didik

# PENJUMLAHAN

## KELAS 1



Nama:

Kelas:

## YUK AMATI GAMBAR DAN HITUNG JUMLAHNYA!

1



Ada  kucing.


Lalu, datang

kucing lainnya ikut bergabung.

Jadi, jumlah kucing semuanya ada

.

2



Abian memiliki

pensil.

Ibu memberi Abian

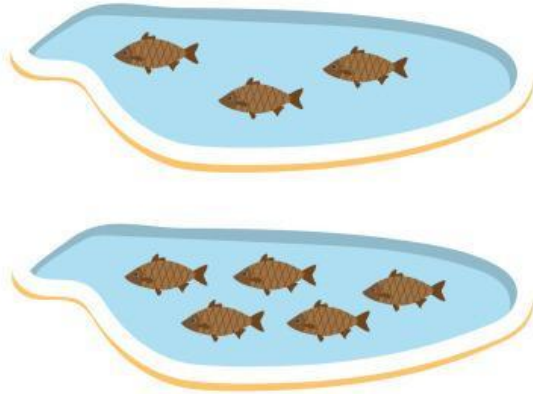
pensil lagi.

Jadi, jumlah pensil Abian ada

.

## YUK TULIS KALIMAT MATEMATIKA DENGAN TEPAT!

3




Ada 3 ikan di dalam kolam. Kemudian, ditambahkan 2 ikan lagi ke dalam kolam.

Jadi, sekarang ada 5 ikan.

Kalimat matematika:

$$\underline{\hspace{2cm}} + \underline{\hspace{2cm}} = \underline{\hspace{2cm}}$$

4



Ada 6 bunga tumbuh di taman. Kemudian, tumbuh lagi 2 bunga lainnya.

Jadi, sekarang ada 8 bunga.

Kalimat matematika:

$$\underline{\hspace{2cm}} + \underline{\hspace{2cm}} = \underline{\hspace{2cm}}$$

Pasangkan penjumlahan dengan hasil yang benar !

$2+9 =$

$3+7 =$

$5+8 =$

$7+7 =$

●  
13●  
14●  
11●  
10

$1+3 =$

$4+4 =$

$1+4 =$

$3+6 =$

●  
5●  
9●  
4●  
8

$2+4 =$

$5+4 =$

$6+1 =$

$2+1 =$

●  
7●  
3●  
9●  
6



# Belajar Berhitung

Geser jawaban yang benar pada jumlah buah yang tepat!



10

9



14

12



5

8



5

4



2

3