

nama  
kelompok :  
kelas :

kelompok 4 (x.5)

## prinsip kimia hijau

pasangkan simbol dan pasanglah  
selesaikanlah soal pada soal berikut

### soal 1

molekul

neutron  
/proton

atom

unsur  
molekul

adalah bagian terkecil dari senyawa yang tersusun dari gabungan dua atau lebih dari atom

adalah bagian terkecil yang terdiri dari inti atom serta elektron yang melindungi inti atom yaitu neutron & proton

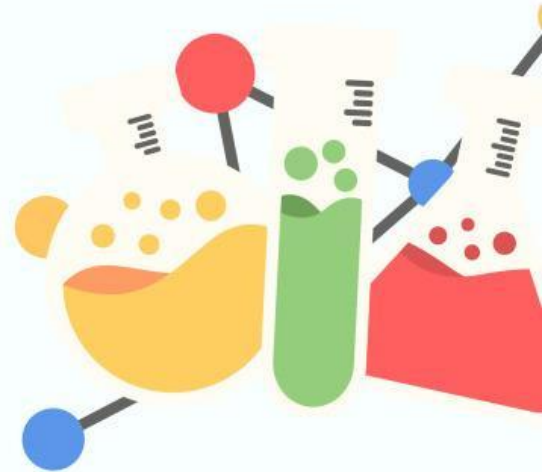
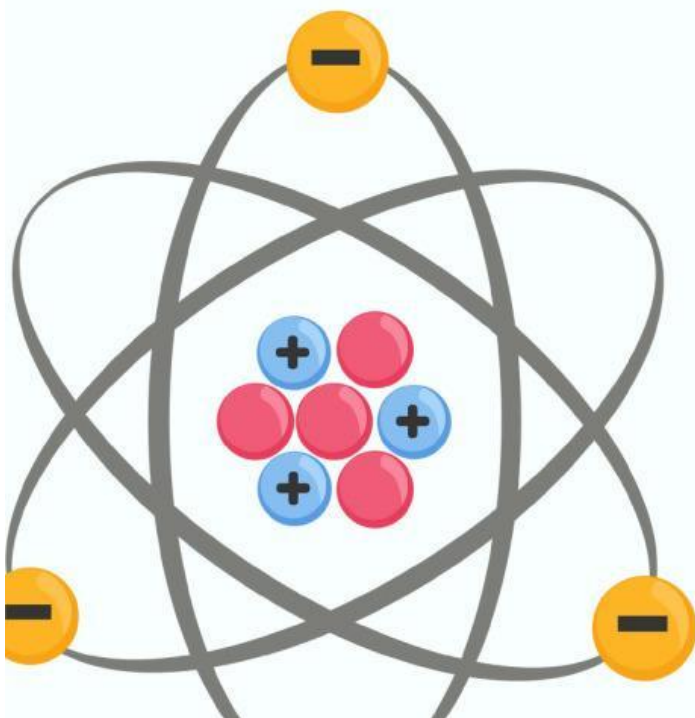
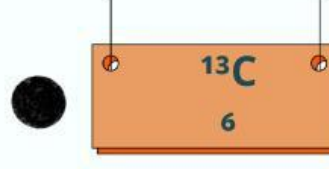
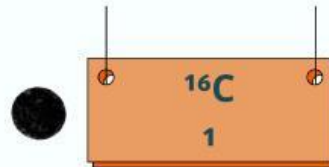


adalah salah satu jenis molekul yang berdasarkan unsur pembentukannya tersusun dari atom/unsur yang sama/satu jenis





## soal 2

pasangkan yang termasuk isoton, isotop, isobar  
pada berikut?



# SOAL 3

SALAH SATU JENIS MOLEKUL YANG BERDASARKAN UNSUR PEMBENTUKAN NYA TERSUSUN DARI ATOM-ATOM ATAU UNSUR YANG SAMA ATAU SEJENIS ADALAH.....

\_\_\_\_\_

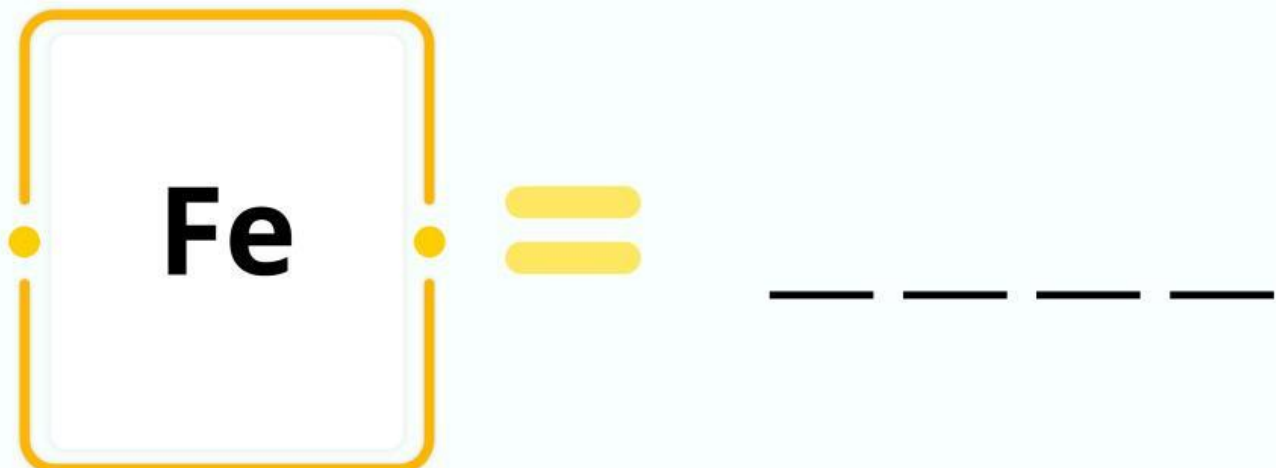
\_\_\_\_\_

ATOM BERASAL DARI BAHASA YUNANI YAITU  
ATOMOL YANG ARTINYA?

\_\_\_\_\_

\_\_\_\_\_

APA NAMA UNSUR PADA GAMBAR DI BAWAH INI



## SOAL 4

susunlah huruf acak menjadi kata yang benar

1

I K H I J M U I A A



--	--	--	--	--	--	--	--	--	--

2

A A N Y O N I E W S



--	--	--	--	--	--	--	--	--	--

L U R K U L N M S E U O

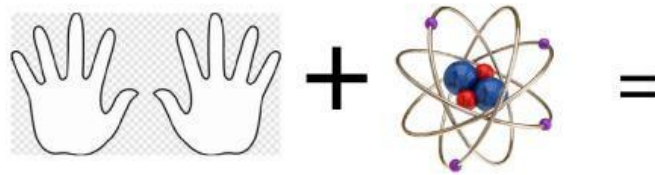
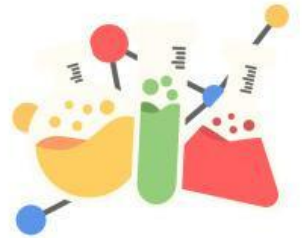


--	--	--	--	--	--	--	--	--	--	--	--




## SOAL 5


isilah titik-titik pada tabel tersebut



-----



-----



-----

		1 1.00794 <b>H</b> Hydrogenium
20 40.08 <b>Ca</b> Calcium	8 15.999 <b>O</b> Oxygenium	
29 63.546 <b>Cu</b> Cuprum	47 107.868 <b>Ag</b> Argenium	26 55.847 <b>Fe</b> Ferrum

keluar

selesai