


Lembar Kerja Peserta Didik

KEBUTUHAN MANUSIA

Nama:

Kelas:



Kebutuhan Manusia

A. Capaian Pembelajaran

Pada akhir fase E siswa mampu menjelaskan konsep kebutuhan manusia

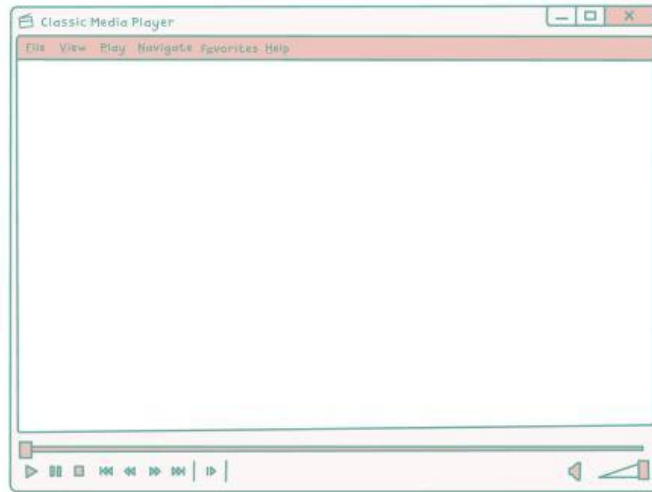
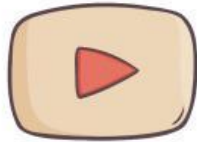
B. Indikator Capaian Pembelajaran

1. Menjelaskan konsep kebutuhan manusia
2. Menjelaskan macam-macam kebutuhan manusia
3. Mengkategorikan faktor yang mempengaruhi kebutuhan manusia
4. Mengklasifikasikan penyebab kebutuhan manusia tidak terbatas
5. Mengklasifikasikan alat pemuas kebutuhan manusia

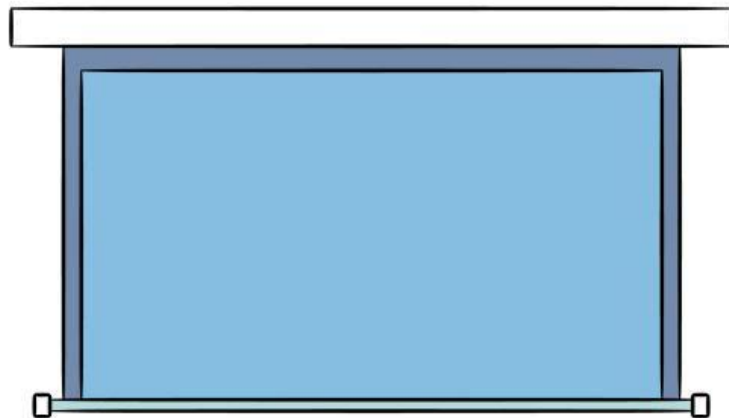
C. Tujuan Pembelajaran

1. Peserta didik dapat memahami konsep kebutuhan manusia
2. Peserta didik dapat memahami macam-macam kebutuhan manusia
3. Peserta didik dapat memahami faktor yang mempengaruhi kebutuhan manusia
4. Peserta didik dapat memahami penyebab kebutuhan manusia tidak terbatas
5. Peserta didik dapat memahami alat pemuas kebutuhan manusia

Perhatikan video berikut ini!



Perhatikan materi presentasi berikut



Materi



Materi

“Kebutuhan Manusia”

Jawablah pertanyaan dibawah ini dengan benar!

1. Jelaskan apa yang dimaksud dengan kebutuhan manusia...

2. Sebutkan apa saja macam-macam kebutuhan manusia...

3. Mengapa kebutuhan manusia itu begitu banyak...

4. Apakah kebutuhan manusia dipengaruhi oleh situasi...

5. Apa saja yang menjadi kebutuhan manusia untuk bertahan hidup...


Drag and Drop

Gerakkan gambar tersebut kedalam kolom yang disediakan sesuai dengan kebutuhan manusia berdasarkan intensitasnya.

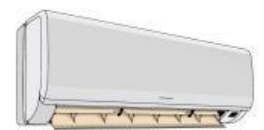

primer



sekunder



tersier





KEBUTUHAN MANUSIA

WORD SEARCH

Carilah kata kunci terkait materi hari ini.

N	Q	B	I	D	J	A	S	A	K
B	C	T	E	R	S	I	E	R	E
A	L	T	O	Z	E	I	K	E	B
R	W	V	A	P	K	R	Y	Z	U
A	T	D	T	R	U	P	D	F	T
N	W	O	L	I	N	L	N	T	U
G	L	Y	Z	M	D	A	I	N	H
Z	X	B	W	E	E	N	T	O	A
M	O	C	O	R	R	E	R	F	N

- PRIMER
- SEKUNDER
- TERSIER
- KEBUTUHAN
- BARANG
- JASA

Mengkategorikan Gambar



● Primer




● Primer



● Tersier



● Sekunder



● Tersier

CHECKBOX

KEBUTUHAN MANUSIA

Dibawah ini manakah yang termasuk kebutuhan primer



Dibawah ini manakah yang termasuk kebutuhan sekunder



Dibawah ini manakah yang termasuk kebutuhan tersier

