

Nama :


Kelas :

Mengukur Sudut

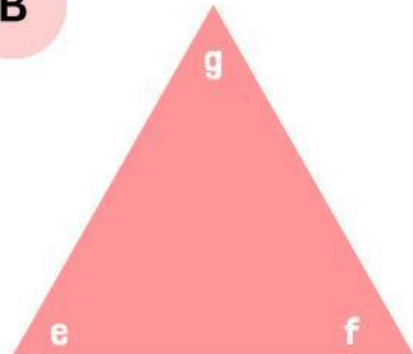
Petunjuk Pengerjaan

Ukurlah masing-masing sudut pada bangun berikut menggunakan busur. Tuliskan hasilnya pada tabel


A



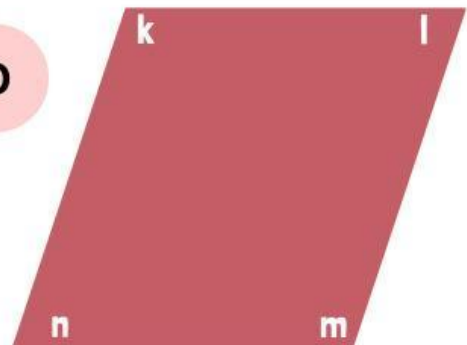
B



C



D



Gambar	Sudut	Besar Sudut
A	a	
	b	
	c	
	d	
B	e	
	f	
	g	
C	h	
	i	
	j	
	k	
D	l	
	m	
	n	