


L K P D

Matemáticas



LEMBAR KERJA PESERTA DIDIK

Mata Pelajaran : Matematika

Alokasi Waktu : 120 menit

Kelas / Semester : XI / gasal

Materi : Program Linear

capaian pembelajaran

3. 4 Menentukan nilai maksimum dan nilai minimum permasalahan kontekstual yang berkaitan dengan program linear dua variabel

Tujuan Pembelajaran

- Peserta didik dapat mengetahui yang mana nilai maksimum dan minimum dari suatu fungsi
- Peserta didik dapat memecahkan masalah nyata yang berkaitan dengan nilai optimum dari fungsi tujuan dengan mensubstitusikan beberapa titik kritis sebagai penyelesaian program linier
- Menganalisis dari masalah kontekstual yang berkaitan dengan program linear dua variabel dengan rasa tanggung jawab, dan aktif selama proses pembelajaran, serta bekerja sama dengan baik
- Peserta didik dapat menjelaskan dan mengerti dari apa yang telah diberi

petunjuk pengerjaan

1. isilah identitas pada tempat yang telah disediakan
2. bacalah setiap petunjuk pengerjaan soal dengan seksama
3. perhatikan waktu pengerjaan
4. tanyakan pada guru apabila terdapat kesulitan dalam pengerjaan LKPD

Nama :

kelas :





AKTIVITAS 1



diketahui suatu fungsi yang dibatasi oleh $2x + 3y \leq 6$;
 $2x + y \leq 4$; $x \geq 0$; $y \geq 0$ Tentukan nilai maksimum dan minimum dari fungsi objektif $f(x,y) = x + y$

- coba anda identifikasi apa saja yang diketahui dari soal tersebut
- apa saja langkah-langkah untuk mencari nilai maksimum dan minimum yang anda ketahui



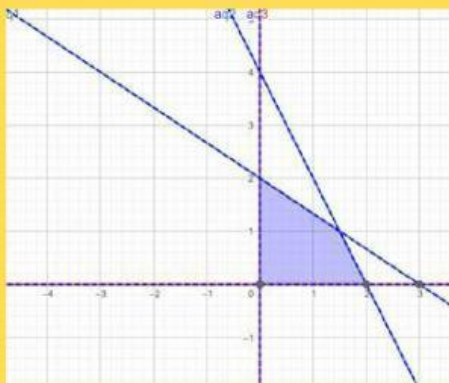
- dari permasalahan diatas carilah titik-titik koordinat dari x dan y dari batasan-batasan tersebut

	$2x + 3y \leq 6$		$2x + y \leq 4$	
x	0		0	
y		0		0
(x,y)				

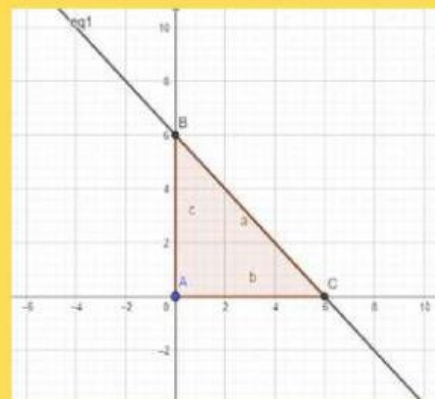


- setelah mendapatkan titik (x,y) dari kedua persamaan diatas, menurut anda manakah gambar grafik yg sesuai dengan persamaan diatas?

a.



b.



- untuk mendapatkan titik potong (x,y) lakukanlah eliminasi pada titik x dan substitusi pada titik y dibawah ini

$$2x + 3y = 6$$

$$2x + y = 4$$

$$\begin{array}{r} 2x + 3y = 6 \\ 2x + y = 4 \\ \hline \end{array} \quad \begin{array}{r} | \\ | \\ - \end{array}$$

=

=

- $2x + y = 4$

$$2(\quad) + y = 4$$

$$+ y = 4$$

$$y =$$

$$y =$$





- dari gambar grafik yang menurut anda benar, tuliskan titik-titik yang memenuhi daerah hasil penyelesaian dalam gambar tersebut

- dari titik- titik yang memenuhi daerah hasil penyelesaian carilah nilai maksimum dan minimum dari fungsi objektif $f(x, y) = x + y$



- dari penyelesaian yang telah anda kerjakan, tuliskan kesimpulan dari nilai maksimum dan minimum yang didapatkan

nilai maksimum

nilai minimum



THANK YOU!!