

KURIKULUM MERDEKA

LEMBAR KERJA PESERTA DIDIK



NAMA : _____

KELAS : _____




LKPD


TATA SURYA



PERHATIKAN VIDEO BERIKUT INI



PERHATIKAN MATERI PRESENTASI BERIKUT



MATERI



LKPD

TATA SURYA

1

TEXT FIELD

Planet yang memiliki cincin yang sangat samar dan hampir tidak terlihat adalah...

2

SINGLE CHOICE

Planet yang dikenal sebagai "Planet Merah" karena permukaannya yang berwarna kemerahan adalah:

3

CHECK BOXES

berilah ceklis yang sesuai dengan pernyataan tentang tata surya

1. Matahari adalah pusat dari sistem tata surya

☐

2. Mars adalah planet yang memiliki bulan terbanyak di Sistem Tata Surya

☐

3. Saturnus memiliki cincin yang sangat indah di system tata surya

☐

4. Neptunus adalah planet terdekat dengan matahari

☐



LKPD

TATA SURYA



4

SELECT

Apakah planet terbesar dalam tata surya?

☐

JUPITER

☐

SATURNUS

☐

URANUS

5

OPEN ANSWER

Apakah planet terkecil dalam tata surya?

6

WORD SEARCH

temukan nama-nama planet yang ada pada kotak dibawah ini

M	E	R	K	U	R	I	U	S	I	A
A	H	C	D	G	H	M	E	E	N	B
R	K	M	V	E	N	U	S	J	H	R
S	W	E	D	I	A	B	A	N	N	T
R	A	M	B	Y	U	U	K	O	E	K
R	T	T	S	I	N	G	A	R	P	W
R	E	J	U	P	I	T	E	R	T	U
R	M	A	N	R	A	N	I	M	U	P
R	J	L	A	M	N	G	L	K	N	W
R	S	A	R	H	P	U	D	L	U	F
R	A	M	U	U	P	M	S	O	S	G


LKPD

TATA SURYA

7

SPEAK



Rekam suaramu untuk menyebutkan nama planet berikut dengan cara menekan tombol rekam



8

LISTENING

Dengarkan suara berikut dan tuliskan jawabannya



9

DRAG AND DROP

Lengkapilah nama planet berikut dengan gambar yang sesuai



SATURNUS

BUMI

VENUS

LKPD

TATA SURYA

10

JOIN

Tentukan pasangan nama-nama planet yang sesuai



MARS



URANUS



SATURNUS



BUMI



VENUS