



PEMERINTAH KABUPATEN SUMBAWA BARAT  
DINAS PENDIDIKAN PEMUDA DAN OLAH RAGA  
KORWIL KECAMATAN MALUK  
SD NEGERI 2 MALUK  
Jalan pendidikan nomor 9 Maluk

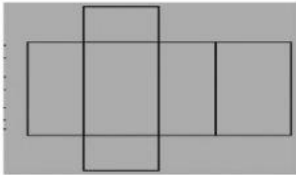


PENILAIAN TENGAH SEMESTER GENAP KELAS 5 MATEMATIKA  
TAHUN PELAJARAN 2020/2021

PILIH LAH JAWABAN DIBAWAH INI YANG KAMU ANGGAP BENAR DENGAN CARA MENKLIK KOTAK PADA PILIHAN YANG TERSEDIA

**KD 3.6**

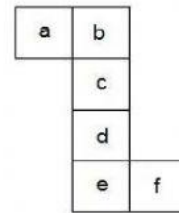
1. Jaring-jaring di bawah merupakan jaring-jaring .....



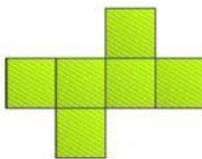
2. Perhatikan gambar disamping ini!  
Jika nomor 4 alas, maka sisi atas balok adalah nomor .....



3. Jaring – jaring kubus di bawah jika dibuat kubus sehingga sisi “c” sebagai atas, maka yang berada di sisi alas adalah .....



4. Gambar di bawah ini adalah jaring - jaring .....



5. Jika **D** adalah alas, maka yang menjadi tutup ( atas ) kubus adalah ....

