

LKPD

ILMU PENGETAHUAN ALAM DAN SOSIAL

LETAK GEOGRAFIS WILAYAH INDONESIA

Nama : _____

Kelas : _____



Capaian Pembelajaran

Peserta didik menggunakan peta konvensional/digital untuk mengenal letak dan kondisi geografis Negara Indonesia

Tujuan Pembelajaran

1. Dengan menggunakan E-LKPD, peserta didik mampu menganalisis letak geografis wilayah Indonesia dan pengaruhnya
2. Dengan E-LKPD, peserta didik mampu menganalisis geografis Indonesia sebagai negara maritim dan agraris

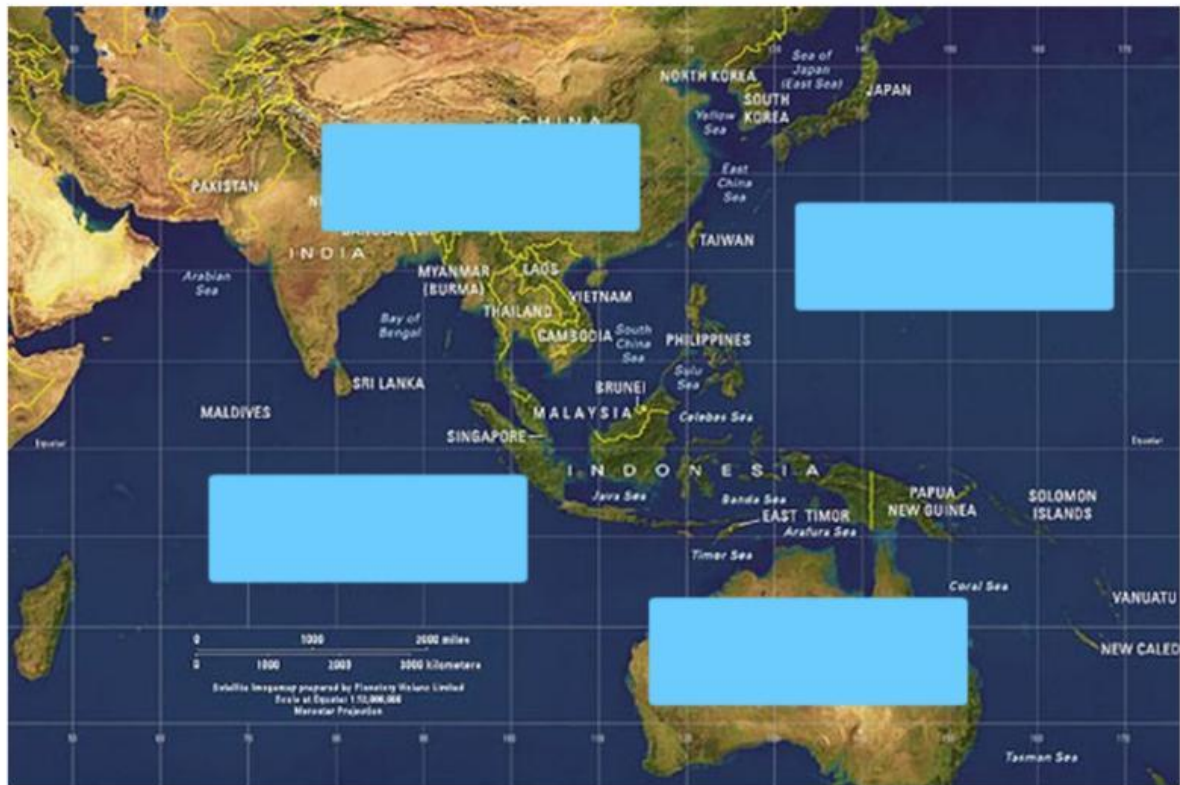
Petunjuk Kerja

1. Berdoalah sebelum memulai mengerjakan LKPD
2. Cantumkan Identitas diri pada halaman pertama LKPD
3. Bacalah secara cermat dan seksama setiap petunjuk yang ada di LKPD.
4. Lakukan setiap kegiatan yang ada dengan baik dan bertanggung jawab
5. Tanyakan kepada guru apabila ada kesulitan dalam mengerjakan LKPD.

Kegiatan 1

Amatilah peta Indonesia berikut ini!

Seret jawaban dan lepas sesuai dengan letaknya



Benua Asia

Samudera Hindia

Benua Australia

Samudera Pasifik

Benua Eropa

Samudera Arktik

Benua Amerika

Samudera Atlantik

Kegiatan 2

Perhatikan peta Indonesia yang ada di atlas!

Pasangkan garis sesuai dengan batas negara Indonesia

Timur

Selat Malaka, Laut Andaman, Laut
Tiongkok Selatan, Laut Sulawesi,
Samudera Pasifik, dan Malaysia Timur

Barat

Australia, Samudera Hindia,
Laut Timur, dan Laut Arafuru

Utara

Samudera Hindia

Selatan

Samudera Pasifik dan
Papua Nugini Hindia



Kegiatan 3

Simaklah teks berikut ini dengan cermat!
Kemudian jawablah pertanyaan di bawah ini.

Tahukah Kamu?

Secara letak geografis, wilayah Indonesia berada di antara dua benua yaitu Benua Asia dan Benua Australia serta dua samudera yaitu Samudera Hindia dan Pasifik.

Dari segi ekonomi, letak geografis Indonesia sangat menguntungkan. Indonesia menjadi salah satu jalur dunia yang sering dilewati. Jalur perdagangan yang paling efisien untuk mengangkut barang adalah jalur laut. Jalur perdagangan dunia di wilayah Indonesia adalah Selat Sunda, Selat Malaka dan Selat Makassar. Oleh karena itu, pelabuhan pelabuhan di wilayah tersebut sangat ramai karena menjadi tempat persinggahan kapal-kapal pengangkut barang

Dari segi sosial, karena Indonesia menjadi jalur perdagangan dunia maka terjadi interaksi antara pedagang-pedagang dari berbagai belahan dunia dengan penduduk asli Indonesia. Saat interaksi ini, terjadi pertukaran budaya.





Apa pengaruh letak geografis wilayah Indonesia di bidang ekonomi?

Apa pengaruh letak geografis wilayah Indonesia di bidang sosial-budaya?

Kegiatan 4

Simaklah video berikut ini dengan cermat!
Kemudian klik jawaban antara benar atau salah pada pernyataan berikut ini!



Pernyataan	Benar	Salah
Indonesia adalah negara maritim karena wilayah laut lebih luas dibandingkan wilayah darat		
Negara Indonesia disebut negara agraris karena salah satu penunjang perekonomiannya adalah sektor pelayaran		
Ciri-ciri negara agraris adalah memanfaatkan laut untuk kesejahteraan rakyat		
Pengaruh Indonesia menjadi negara maritim adalah banyak masyarakat yang bekerja di sektor pelayaran, perikanan, dan wisata bahari		
Komoditas pertanian Indonesia yang dihasilkan antara lain karet, merica, dan kopi		
Pasar ikan merupakan salah satu budaya maritim		
Petik Laut Pancer adalah festival laut yang berasal dari Mojokerto, Jawa Timur		
Naik Dango adalah festival padi yang diselenggarakan oleh masyarakat Sumatera Barat untuk mengungkapkan syukur kepada Sang Pencipta atas melimpahnya hasil panen		

Kegiatan 5

Perhatikan kotak berikut ini!

Carilah kata-kata pada kotak yang tersedia dengan menjawab pertanyaan

H	K	H	Y	J	H	N	T	G	I
A	T	P	E	T	A	N	I	A	P
M	E	E	A	M	B	P	M	T	A
L	K	N	D	A	U	A	U	L	S
U	O	A	B	R	B	A	T	A	A
M	N	I	K	I	T	I	M	U	R
B	O	L	T	T	P	G	T	A	I
A	M	I	E	I	G	I	U	W	K
L	I	T	R	M	U	K	H	U	A
U	A	S	I	A	B	G	S	S	N
M	T	R	U	P	B	A	R	A	T

1. Indonesia berada di antara Benua Australia dan Benua ...
2. Samudera Pasifik dan Papua Nugini Hindia adalah batas Indonesia disebelah ...
3. Indonesia dilalui jalur perdagangan internasional merupakan keuntungan letak geografis wilayah Indonesia di bidang ...
4. Indonesia disebut sebagai negara agraris karena sebagian besar penduduknya bermatapencarian sebagai ...
5. Memanfaatkan laut untuk kesejahteraan rakyat merupakan ciri-ciri negara ...
6. Tempat nelayan menjual hasil tangkapan laut adalah....

Bagaimana perasaanmu hari ini?



☐ Marah



☐ Tenang



☐ Senang



☐ Sedih



☐ Takut



☐ Bangga



Selamat mengerjakan!