

CUARTO EXAMEN

APELLIDOS Y NOMBRES : _____


1) Son considerados como dispositivos magnéticos.

- a) Discos rígidos o discos duros.
- b) Blu-Ray.
- c) Pendrive.
- d) N.A

2) Relate questions of.

Computer	ink
Excel	sheet
Printer	Cell
Book	Windows

3) Ordenar arrastrando las imágenes de los planetas en LIVEWORKSHEETS:



4) Relaciona la imagen son su respectivo nombre con una flecha

- La tierra
- El sol
- Plutón
- La luna




5) Cuantos planetas conforman el sistema solar?

- a) 8 Planetas
- b) 12 Planetas
- c) 9 Planetas
- d) 10 Planetas





6) relaciona los números con una flecha

1	uno
2	nueve
3	seis
4	ocho
5	cuatro
6	cinco
7	dos
8	tres
9	siete



7) relaciona los 5 sentidos

Une con flechas:

	mano	Olfato
	oreja	Gusto
	nariz	Vista
	ojo	Tacto
	boca	Oído