

# LEMBAR KERJA PESERTA DIDIK (LKPD)

**SISTEM TATA SURYA**  
Fase C / Kelas VI Mata Pelajaran IPAS

**KELAS :**

**KELOMPOK :**

**ANGGOTA :**

1.

2.

3.

4.

5.

**TUJUAN PEMBELAJARAN**













- Peserta didik mampu mendemonstrasikan sistem kerja tata surya.
- Peserta didik mampu mengidentifikasi karakteristik planet dalam sistem tata surya dengan benar.

**PETUNJUK Pengerjaan :**

1. Siapkan alat tulis dan bahan yang dibutuhkan.
2. Isilah nama kelompok, dan anggota kelompok di lembar LKPD.
3. Bacalah petunjuk di masing-masing lembar yang ada di LKPD.
4. Pastikan setiap anggota bekerja sama dalam menyelesaikan LKPD

# Sistem Tata Surya

Perhatikan gambar benda langit berikut dan tuliskan nama dari masing-masing benda langit tersebut!

 <input type="text"/>	 <input type="text"/>	 <input type="text"/>
 <input type="text"/>	 <input type="text"/>	 <input type="text"/>
 <input type="text"/>	 <input type="text"/>	 <input type="text"/>
 <input type="text"/>	 <input type="text"/>	 <input type="text"/>

# PLANET

## DI TATA SURYA

Hubungkanlah planet-planet berikut sesuai dengan karakteristiknya!

Ini satu-satunya planet yang diketahui mendukung kehidupan.

A

1



Ini adalah planet terdekat dengan Matahari.

B

2



Ini adalah planet terpanas di tata surya.

C

3



Ini adalah planet terjauh dari Matahari.

D

4



Ini adalah planet bercincin tapi biasanya tak terlihat

E

5



Ini adalah planet yang terkenal dengan cincinnya yang cantik.

F

6



Ini adalah planet yang sering disebut "Planet Merah".

G

7



Ini adalah planet terbesar di tata surya.

H

8

