

Sistem Reproduksi

Pada Manusia

Kelas :

Hari/Tanggal :

Anggota :

Alokasi Waktu : 30 menit

A. JUDUL

Sistem Reproduksi pada Manusia

B. TUJUAN

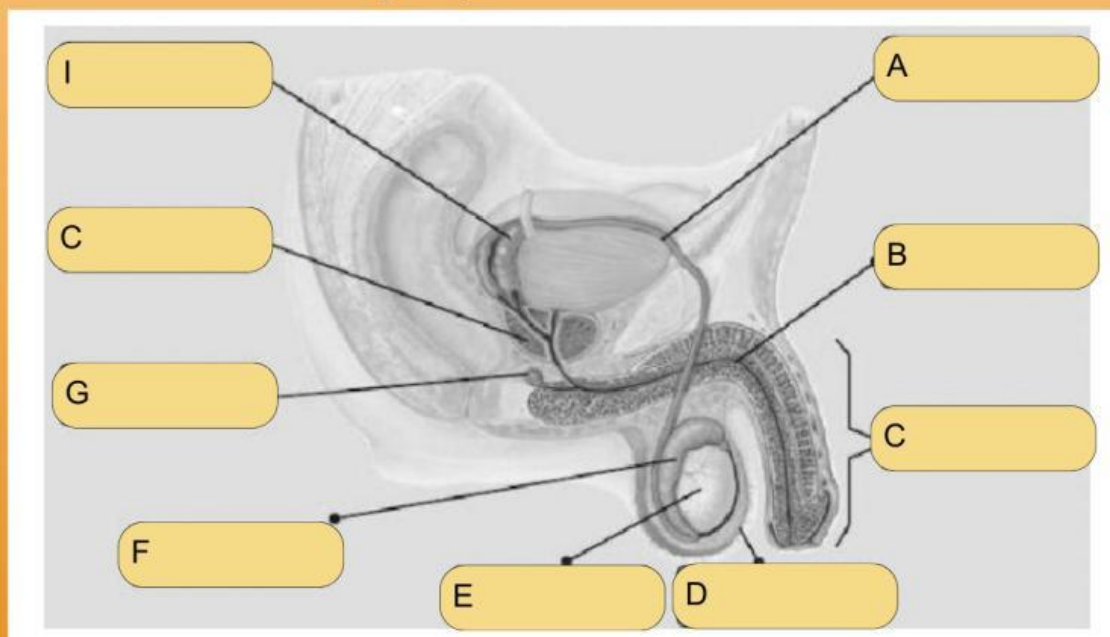
1. Peserta didik dapat mengidentifikasi struktur dan fungsi organ reproduksi laki-laki.
2. Peserta didik dapat menjelaskan proses pembentukan sperma (spermatogenesis) dan sel telur (oogenesis).

C. PETUNJUK Pengerjaan

1. Tulislah nama anggota kelompok dengan menggunakan nama lengkap.
2. Bacalah dan jawab pertanyaan dengan benar dan tepat waktu.
3. Carilah sumber literatur melalui e-book, jurnal serta artikel ataupun sumber lain yang relevan, dan catatlah setiap informasi pada LKPD.
4. Tanyakan kepada guru apabila terdapat hal yang sulit dipahami.

D. PERTANYAAN

1. Perhatikan gambar organ-organ penyusun sistem reproduksi pada laki-laki berikut ini ! Tentukan nama organ-organ tersebut berdasarkan keterangannya.



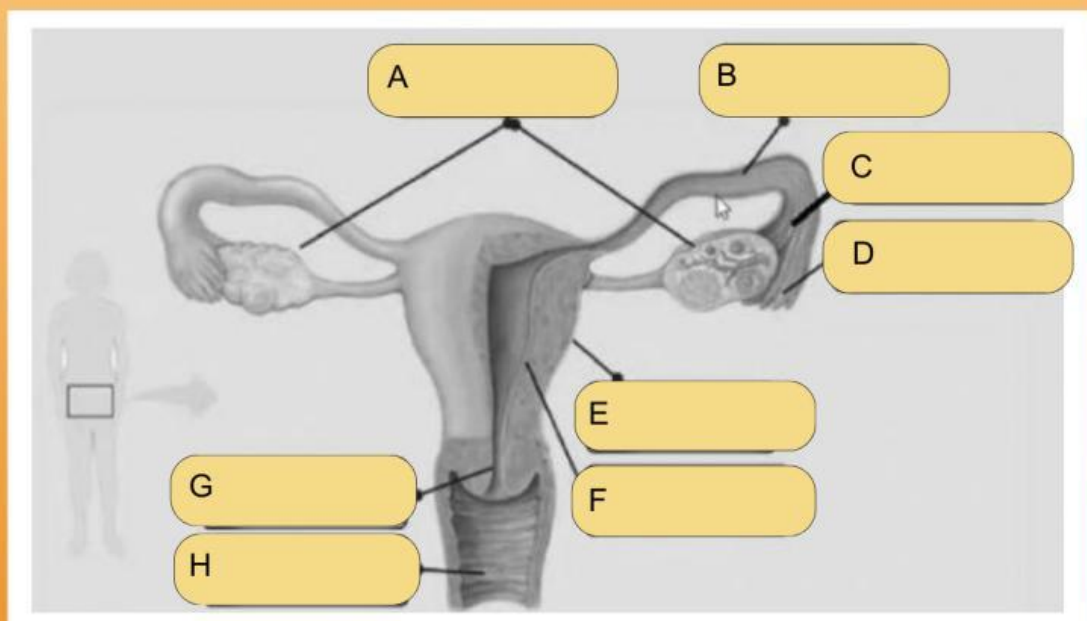
Sistem Reproduksi

Pada Manusia

2. Tuliskan fungsi dari setiap organ tersebut ! (Organ reproduksi laki-laki)

Keterangan	Nama Organ	Fungsi

3. Perhatikan gambar organ-organ penyusun sistem reproduksi pada perempuan berikut ini ! Tentukan nama organ-organ tersebut berdasarkan keterangannya.



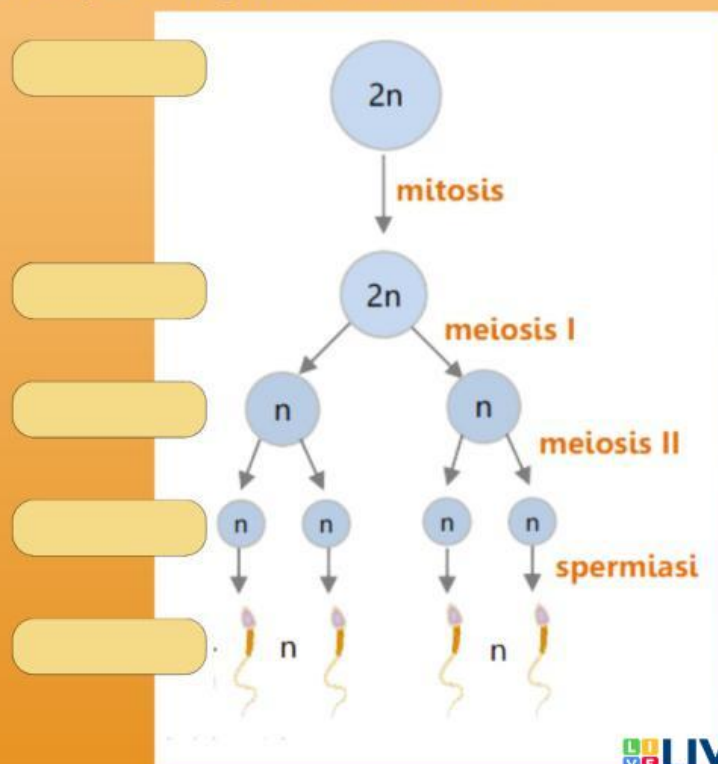
Sistem Reproduksi

Pada Manusia

4. Tuliskan fungsi dari setiap organ tersebut !
(Organ reproduksi perempuan)

Keterangan	Nama Organ	Fungsi

5. Lengkapi skema spermatogenesis berikut ini !



Sistem Reproduksi Pada Manusia

6. Lengkapi skema oogenesis berikut ini !

