

MATEMÁTICAS 4º

Nuria y su familia van a pasar las vacaciones en una playa cercana a su ciudad. Allí alquilar una sombrilla que cuesta 3,85 euros diarios, una silla 1,26 euros y una hamaca 2,08 euros.

El alquiler del apartamento cuesta 975 euros al mes.

¿Cuánto pagarán por alquilar una sombrilla, dos sillas y una hamaca? Selecciona la cantidad correcta.



- ☐ 982,19€ ☐ 983,45 € ☐ 7,19 € ☐ 8,45 €

El equipo de minibasket "LOS TRITONES" está formado por estos cuatros niños y niñas: LUIS, MARTA, ANA Y PEDRO.

Deduce la altura de cada niño con estas pistas:

Luis es más alto que Marta pero más bajo que Pedro.
Ana es la más alta.

Las alturas de los cuatro son:

- 1 m y 30 cm

- 1 m y 8 cm

- 118 cm

- 1 m y 10 cm

RESPUESTA:

LUIS mide _____

MARTA mide _____

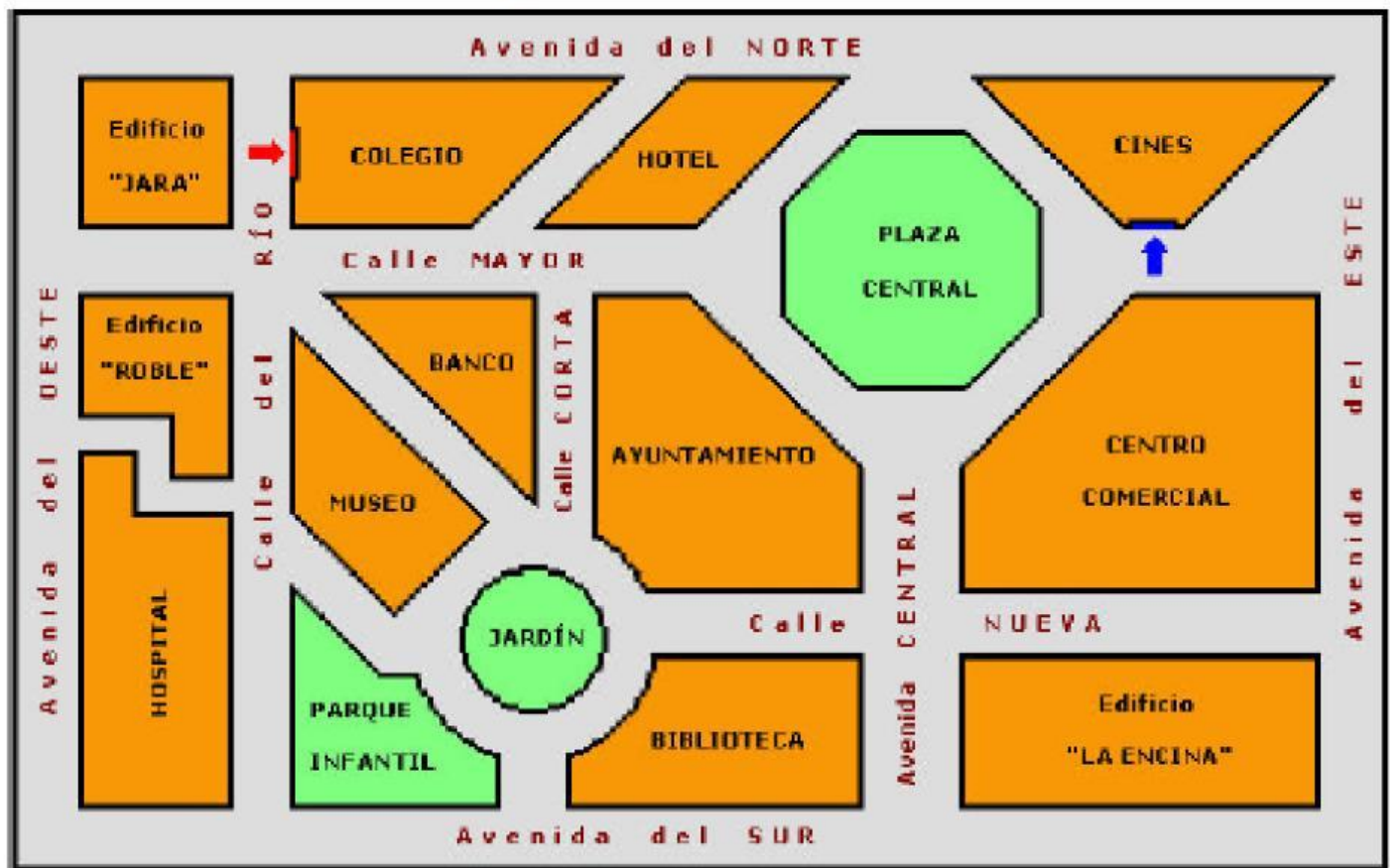
ANA mide _____

PEDRO mide _____



MIRANDO EL PLANO

En el aula de 4º han puesto el plano de una parte de la ciudad. En la clase de matemáticas han hecho algunas actividades sobre él.



Los lugares del plano tienen forma de diferentes figuras planas. Por ejemplo, el colegio (1) tiene forma de cuadrilátero (C)

1. COLEGIO

2. PLAZA CENTRAL

3. JARDÍN

4. CENTRO COMERCIAL

5. BANCO

6. HOSPITAL

7. AYUNTAMIENTO

A. OCTÓGONO

B. PENTÁGONO

C. CUADRILÁTERO

D. HEXÁGONO

E. NO ES POLÍGONO NI CÍRCULO

F. TRIÁNGULO

G. CÍRCULO

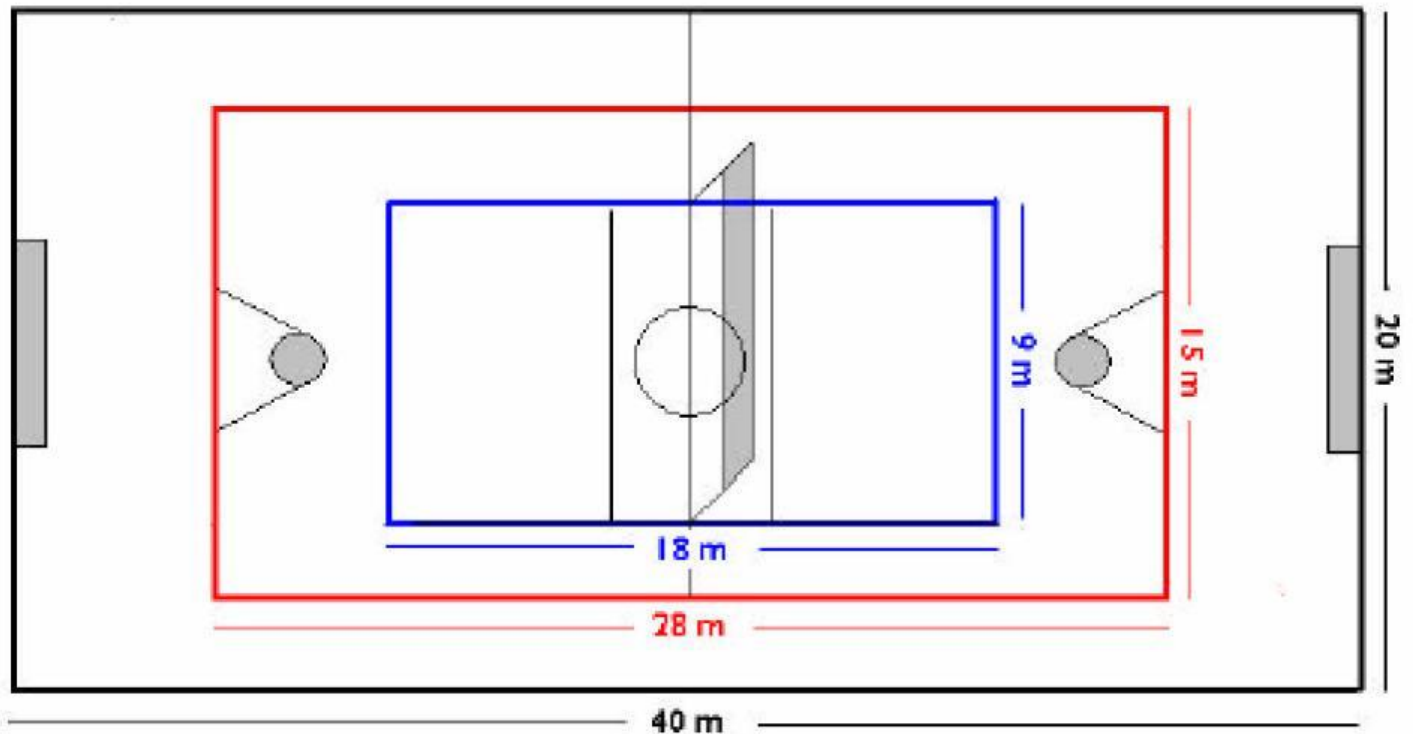
Escribe la letra correspondiente a cada lugar. Por ejemplo: 1-C

Lugar	1	2	3	4	5	6	7
Forma	C						

HACEMOS EJERCICIO FÍSICO

En el área de Educación física llevamos a cabo distintas actividades en la pista polideportiva del centro: carreras, competiciones de minibasket, juegos diversos, etc.

Nuestra pista polideportiva



En la clase del lunes hacemos carreras.

- Juan ha dado una vuelta al campo de balonmano. (Pintado de negro)
- Jesús ha dado 5 vueltas al campo de minibasket. (Pintado de rojo)
- María ha dado 10 vueltas al campo de voleibol. (Pintado de azul)
- Alicia ha dado una vuelta y media al campo de balonmano.

Alumno/a	Total metros recorridos
JUAN	
JESÚS	
MARÍA	
ALICIA	

EL RECREO



¿Qué es lo que más te gusta del cole?

A mí el recreo. Me encanta oír el sonido del timbre para bajar al patio. En mi cole suena a las 11:45 horas y tenemos media hora de recreo.

Durante el recreo se celebran actividades voluntarias que consisten en diferentes juegos y que están programadas según un horario semanal.

Los lunes nos tocan *Juegos tradicionales*.

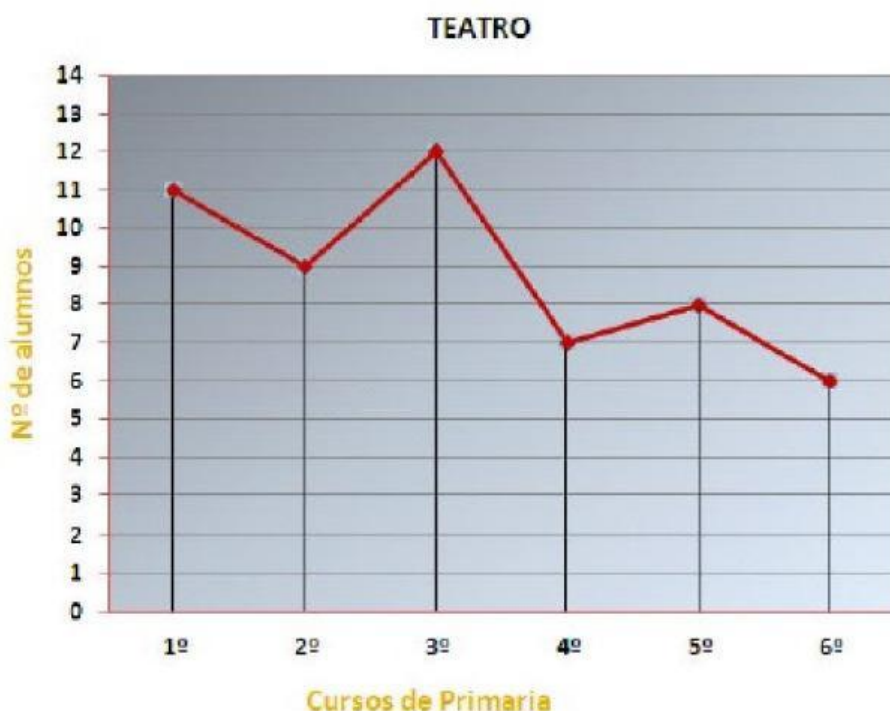
En el patio tenemos dibujados en el suelo varios modelos de "cascayu" o rayuela, a mí el que más me gusta es el de la foto.



¿Qué figuras geométricas lo forman?

- A. Cuadriláteros y un círculo.
- B. Cuadrados y rectángulos.
- C. Cuadrados y un semicírculo.
- D. Cuadriláteros y un semicírculo.

En la siguiente gráfica de líneas se representa el número de alumnos que asisten este curso en Primaria a la actividad de Teatro en las Actividades Formativas Complementarias de mi Colegio.



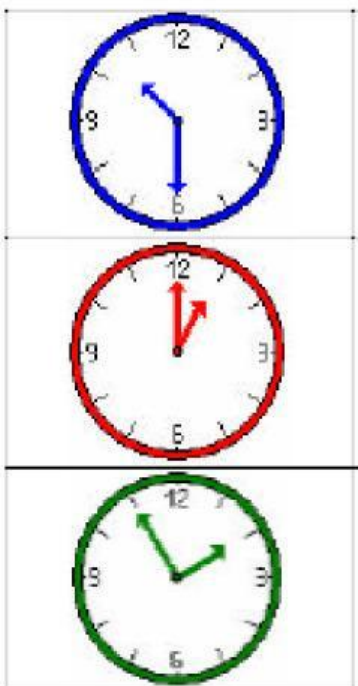
CURSOS	Nº ALUMNOS
1º	
2º	
3º	
4º	7
5º	
6º	

HORARIO

Cuando empezó el curso, a los alumnos/as de 4º de un colegio les dieron el horario incompleto y tuvieron que terminarlo con las instrucciones que les daban.

	LUNES	MARTES	MIÉRCOLES	JUEVES	VIERNES
De 9:00 a 10:00		MATEMÁTICAS	MATEMÁTICAS	LENGUA EXTRANJERA (INGLÉS)	
De 10:00 a 11:00	ED. FÍSICA	MÚSICA	LENGUA EXTRANJERA (INGLÉS)	MATEMÁTICAS	MATEMÁTICAS
De 11:00 a 11:45					
De 11:45 a 12:15	Recreo	Recreo	Recreo	Recreo	Recreo
De 12:15 a 13:15	LENGUA EXTRANJERA (INGLÉS)				ED. FÍSICA
De 13:15 a 14:00	PLÁSTICA	RELIGIÓN o ATENCIÓN EDUCATIVA	ED. FÍSICA	RELIGIÓN o ATENCIÓN EDUCATIVA	PLÁSTICA

El viernes Javier llevaba el reloj y lo miró varias veces.



A esta hora estaba en clase de

A esta hora estaba en clase de

A esta hora estaba en clase de