

Nama:

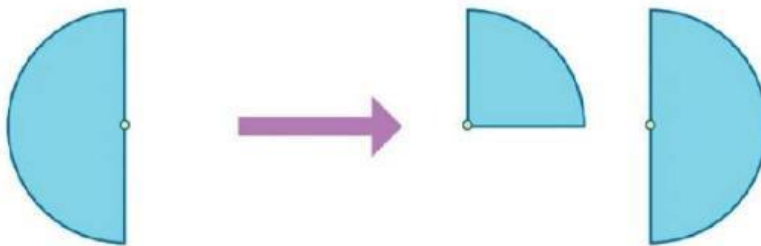
Kelas:

Asemen Formatif

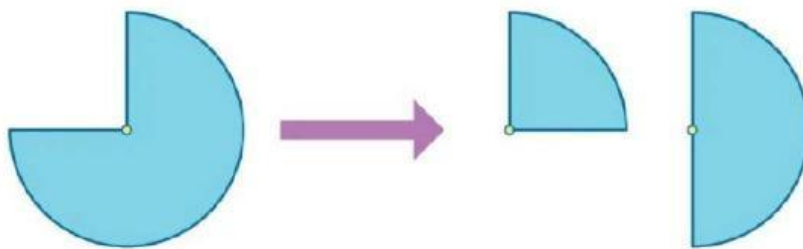
Jawablah pertanyaan di bawah ini dengan benar!

1. Lingkari di bagian lingkaran yang hilang dari gambar di kiri.

a.




b.



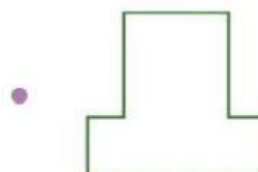
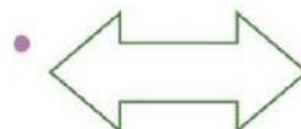

2. Susun beberapa bangun datar berikut.

Tarik garis dengan hasil susunannya.

Bangun Datar



Hasil Susunan



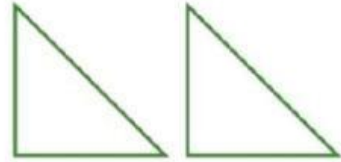
3. Urai bangun datar berikut.

Tarik garis dari bangun datar dengan hasil uraiannya.

Bangun Datar



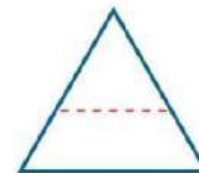
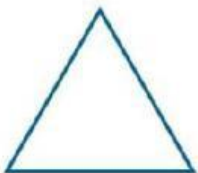
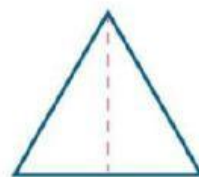
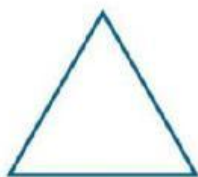
Hasil Uraian



4. Buat garis untuk mengurai setiap bangun datar berikut menjadi dua bagian.

Bentuk yang dihasilkan adalah segitiga atau segi empat.

Contoh:



a.



b.



selamat mengerjakan :")

