









Pilihlah salah satu Jawaban yang menurut kamu benar !

1.	 <p>Gambar di atas menurut pengelompokannya merupakan alat musik jenis</p> <ol style="list-style-type: none"> chordophone membranophone aerophone idiphone
2.	 <p>Gambar di atas menurut pengelompokannya merupakan alat musik jenis</p> <ol style="list-style-type: none"> chordophone membranophone aerophone idiphone
3.	 <p>Gambar di atas menurut pengelompokannya merupakan alat musik jenis</p> <ol style="list-style-type: none"> chordophone membranophone aerophone idiphone

4.	 <p>Gambar di atas menurut pengelompokannya merupakan alat musik jenis</p> <ol style="list-style-type: none"> chordophone membranophone aerophone idiphone
5.	 <p>Gambar alat musik di atas cara memainkannya dengan</p> <ol style="list-style-type: none"> dipetik digesek dipukul ditiup
6.	 <p>Gambar alat musik di atas cara memainkannya dengan</p> <ol style="list-style-type: none"> dipetik digesek dipukul ditiup
7.	<p>Dalam sebuah pementasan seni musik, alat musik yang mengatur tempo lagu dan ketukan adalah.....</p> <ol style="list-style-type: none"> drum gitar bass piano

8.	Dalam sebuah pementasan paduan suara/choir, orang yang bertugas memimpin lagu, tempo dan alur lagu disebut... a. vokalis b. pianis c. dirigen d. komposer
9.	Di bawah ini yang merupakan lagu dari daerah Jawa Tengah adalah a. Ayam den lapeh, Sajojo, kicir-Kicir b. gambang Suling, Lir-Ilir, Cublak-cublak suweng c. Gambang suling, Ampar-ampar pisang, Yamko rambe yamko d. Suwe Ora jamu, Lir-Ilir, Si patokaan
10.	Di bawah ini yang merupakan lagu dari daerah Papua adalah a. Ayam den lapeh, Sajojo, kicir-Kicir b. gambang Suling, Lir-Ilir, Cublak-cublak suweng c. Gambang suling, Ampar-ampar pisang, Yamko rambe yamko d. sajojo, Yamko rambe yamko, O ina keke
11.	Salah satu jenis alat music string, mempunyai neck panjang, biasanya digunakan untuk memainkan nada-nada rendah, dan jumlah senarnya minimal 4. Disebut.... a. Bass gitar b. Biola c. Cello d. Piano
12.	Salah satu jenis alat music string, bentuknya seperti biola yang berukuran besar, memainkannya dengan cara digesek, posisi selalu duduk saat memainkan alat music tersebut. Alat music yang dimaksud adalah a. Bass gitar b. Biola c. Cello d. Piano
13.	Sejenis alat music pukul berbentuk kotak, terbuat dari kayu/triplek. Posisi pemain selalu duduk di alat music tersebut ketika dimainkan. Alat music yang dimaksud adalah a. Darbuka b. Cajon c. Drum d. Rebana
14.	Nada pengantar atau instrument di awal/pembukaan lagu disebut a. Outro b. Reff c. Intro d. Interlude
15.	Nada/instrument yang berada di tengah-tengah lagu, biasanya alat music yang digunakan untuk lead instrumentnya adalah gitar, disebut dengan a. Outro b. Reff c. Intro d. Interlude

Jodohkan penyanyi-penyanyi di bawah ini dengan lagu yang dipopulerkannya !

No	Soal	Jawaban
16.		A. <i>Hawa tercipta di dunia Untuk menemani sang Adam Begitu juga dirimu Tercipta tuk temani aku</i>
17.		B. <i>Jika aku bisa ku ulang kembali Ku akan merubah takdir cinta Yang ku pilih Meskipun tak mungkin Walaupun ku mampu Membawa kamu Lewat mesin waktu</i>
18.		C. <i>Koe seng paling ngerti marang Kahanane ati Aku mbok semangat Ngusak iluhku seng mbrebes mili Pepujane ati kinaryo Kembange wangi</i>
19.		D. <i>Terima kasihku, padaMu Tuhanku Tak mungkin dapat terlukis Oleh kata-kata hanya DiriMu Yang tau, besar rasa cintaku padaMu</i>
20.		E. <i>Bukan ku sok taat, sebelum terlambat Ayo sama-sama kita taubat Dunia sesaat, awas kau tersesat Ingatlah masih ada akhirat استغفر الله العظيم</i>

Berilah tanda (v) pada kolom yang menurut anda benar dan kolom yang menurut anda salah dari pernyataan-pernyataan berikut !

No	Pernyataan	Benar	Salah
21.	gitar mempunyai senar berjumlah 6 , cara memainkannya dengan cara dipetik .		
22.	Senar gitar nomer 2, jika dimainkan dengan cara open string bernada G		
23.	Akor C#May terbentuk dari nada (C#-F-G#)		
24.	Jika Do = A , maka Sol bernada = G#		
25.	Akor Am terbentuk dari nada (A-C-E)		
26.	lagu Karena Kamu , dipopulerkan oleh JKT 48		
27.	<i>Trompet, saxophone, recorder, dan trombone</i> termasuk kategori alat musik jenis Aerophone		
28.	Jika La = E , maka Re bernada = G		
29.	Akor BMay terbentuk dari nada (B-D-F#)		
30.	Drum yang sering dipakai orchestra/marawis/open house adalah alat musik jenis Membranophone		