



**KEMENTERIAN AGAMA KABUPATEN MAGETAN  
MADRASAH IBTIDAIYAH NURUL HUDA SETUGU  
ASESMEN MADRASAH ( AM )  
TAHUN PELAJARAN 2023/2024**

LEMBAR SOAL	
Mata Pelajaran	: Pendidikan Pancasila dan Kewarganegaraan
Jenjang	: Madrasah Ibtidaiyah
Hari/Tanggal	: Rabu, 8 Mei 2024
Waktu	: 09,30 s/d 11,00

PETUNJUK UMUM
<ol style="list-style-type: none"><li>1. Berdo'a kepada Allah SWT sebelum memulai mengerjakan paket soal</li><li>2. Isikan identitas Anda ke dalam Lembar Jawaban Ujian Madrasah dengan menggunakan pensil 2B</li><li>3. Isikan jawaban soal ke dalam Lembar Jawaban sesuai petunjuk</li><li>4. Tersedia waktu 120 menit untuk mengerjakan soal</li><li>5. Jumlah soal sebanyak 50 butir yang terdiri dari 35 butir pilihan ganda, 10 butir soal isian singkat, dan 5 butir uraian</li><li>6. Periksa dan bacalah soal-soal sebelum Anda menjawabnya</li><li>7. Laporkan kepada pengawas ujian apabila terdapat lembar soal yang kurang jelas, rusak, atau tidak lengkap</li><li>8. Periksalah pekerjaan Anda sebelum diserahkan kepada pengawas ujian.</li></ol>

**I. PILIHLAH SALAH SATU JAWABAN YANG BENAR !**

1. Agenda sidang kedua BPUPKI yang dilakukan pada tanggal 10-16 Juli 1945 adalah ....
  - A. perumusan dasar negara
  - B. membentuk panitia perancang Undang-Undang Dasar
  - C. mengesahkan Undang-Undang Dasar 1945
  - D. memilih Ir. Soekarno sebagai presiden dan Drs. Moh. Hatta sebagai wakil presiden
  
2. Perhatikan pernyataan berikut!
  - 1) Menetapkan wilayah Indonesia terdiri atas delapan provinsi
  - 2) Mengesahkan Undang -Undang Dasar 1945
  - 3) Pembentukan Komite Nasional (daerah)
  - 4) Pembentukan Partai Nasional Indonesia

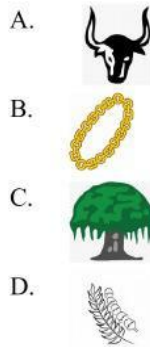
Pernyataan tersebut yang merupakan salah satu tugas Panitia Persiapan Kemerdekaan Indonesia (PPKI) yang dihasilkan pada sidang pertama 18 Agustus 1945 ditunjukkan oleh nomor ....

  - A. 1
  - B. 2
  - C. 3
  - D. 4
  
3. Salah satu tugas Panitia Persiapan Kemerdekaan Indonesia (PPKI) yang dihasilkan pada sidang pertama 18 Agustus 1945 adalah ....
  - A. menetapkan wilayah Indonesia terdiri atas delapan propinsi
  - B. mengesahkan Undang-Undang Dasar 1945
  - C. pembentukan Komite Nasional Daerah
  - D. pembentukan Partai Nasional Indonesia
  
4. Perhatikan rumusan dasar negara berikut!
  - 1) Peri kebangsaan
  - 2) Peri kemanusiaan
  - 3) Peri ketuhanan
  - 4) Peri kerakyatan
  - 5) Kesejahteraan rakyat

Rumusan dasar negara di atas diusulkan dalam sidang pertama BPUPKI oleh ....

  - A. Ir. Soekarno
  - B. Drs. Moh. Hatta
  - C. Prof. Dr. Soepomo
  - D. Mr. Muhammad Yamin

5. Cinta tanah air merupakan sikap yang harus dimiliki bangsa Indonesia. Lambang sila Pancasila sesuai perilaku dan sikap yang diterapkan adalah ....



6. Novi dan Zahra adalah teman bermain di lingkungan tempat tinggalnya. Suatu hari ketika Novi sedang berjalan-jalan di lingkungan sekitar, dia bertemu dengan orang tua Zahra. Sikap Novi sebaiknya ....

- A. pura-pura tidak melihat
- B. menunggu mereka menyapa
- C. menyapa mereka dengan sopan santun
- D. tidak memedulikan

7. Aturan dibuat untuk mengatur kehidupan bersosial dan bermasyarakat. Tanpa adanya peraturan, orang-orang akan bertindak sesuka hati dan keadaan masyarakat pun akan kacau. Salah satu manfaatnya adalah ....

- A. turut menciptakan lingkungan yang tertib dan teratur
- B. ikut serta dalam memelihara keindahan
- C. menjaga keamanan diri dan orang lain
- D. menjaga kehidupan anggota masyarakat lainnya

8. Peserta didik memiliki kewajiban yang harus dilaksanakan. Berikut merupakan bentuk pelaksanaan kewajiban di lingkungan sekolah adalah ....

- A. melaksanakan nasihat orang tua
- B. melaksanakan piket kelas
- C. membantu ibu menyirami tanaman
- D. membantu adik mengerjakan tugas

9. Perhatikan beberapa pernyataan berikut.

1)	Menerima ilmu dan pengajaran dari guru
2)	Menggunakan fasilitas di sekolah
3)	Melaksanakan ibadah sesuai agama yang di anut
4)	Membantu orang lain yang membutuhkan bantuan

Berdasarkan pernyataan hak peserta didik dilingkungan sekolah ditunjukkan oleh angka ....

- A. 1) dan 2)
- B. 1) dan 3)
- C. 2) dan 3)
- D. 3) dan 4)

10. Ina merupakan peserta didik yang berprestasi. Dia selalu dibanggakan oleh kedua orang tuanya. Namun suatu hari Ina menghabiskan uang saku dari orang tuanya. Uang itu digunakan untuk membeli barang yang dia inginkan tanpa sepengetahuan kedua orang tuanya. Sebenarnya, Ina tidak membutuhkan barang itu. Ketika kedua orang tuanya tahu, Ina diberikan hukuman dengan dikurangi uang sakunya. Ina mendapat hukuman karena ....

- A. bertanggung jawab atas belajarnya
- B. melaksanakan kewajibannya dengan baik
- C. tidak bertanggung jawab dengan haknya
- D. tidak mendapatkan hak dari kedua orang tuanya

11. Rina selalu menjaga ketenangan saat kegiatan belajar mengajar berlangsung. Namun, temannya ada yang suka gaduh, bahkan saat ulangan berlangsung. Hal itu membuat Rina kesal. Kewajiban Rina sebagai peserta didik adalah ....

- A. menegur temannya untuk tidak gaduh karena sedang proses pembelajaran
- B. mendinginkan dan tetap fokus dengan pekerjaan dia sendiri
- C. bersabar karena mereka semua adalah teman Rina
- D. menegur dengan kasar temannya yang membuat gaduh

12. Peserta didik dapat berperan serta dalam melestarikan dan melindungi fauna Indonesia. Cara yang dapat dilakukan adalah ....

- A. mendukung kegiatan pemburuan liar
- B. mendukung kegiatan penebangan hutan secara liar
- C. berbagi informasi tentang tempat pelestarian hewan langka
- D. membeli benda-benda yang terbuat dari bagian tubuh hewan langka

13. Perhatikan kegiatan berikut!

- 1) membantu ayah mencuci kendaraan
- 2) mematuhi peraturan yang ada di lingkungan sekitar
- 3) mengikuti kerja bakti desa yang diselenggarakan
- 4) melaksanakan tugas piket kelas

Kegiatan gotong-royong di lingkungan masyarakat ditunjukkan pada angka ....

- A. 1) dan 2)
- B. 1) dan 3)



- C. 2) dan 3)  
D. 2) dan 4)
14. Nia menghargai perbedaan agama yang dianut teman-temannya. Nia juga memberi kesempatan teman yang berbeda agama untuk melaksanakan ibadah. Nia juga menjaga ketenangan saat teman sedang melaksanakan ibadah. Perilaku Nia menunjukkan sikap ....
- A. tanggung jawab kepada Tuhan
  - B. tanggung jawab kepada diri sendiri
  - C. tanggung jawab kepada masyarakat
  - D. tanggung jawab kepada bangsa dan negara
15. Keragaman budaya Indonesia tercermin dalam berbagai aspek kehidupan sehari-hari, seperti seni tari, musik, seni ukir, dan seni batik. Indonesia juga memiliki beragam jenis makanan dan kuliner yang berasal dari seluruh wilayah nusantara, seperti nasi goreng, rendang, sate, gado-gado, dan masih banyak lagi. Pernyataan tersebut mengandung makna ....
- A. keberagaman suku di Indonesia dapat menimbulkan perpecahan
  - B. perbedaan menjadi penghalang untuk mewujudkan persatuan
  - C. perbedaan-perbedaan suku disebabkan oleh letak geografis
  - D. keragaman budaya menambah khasanah kebudayaan masyarakat Indonesia
16. Niva dan keluarga menyukai makanan daerah. Mereka juga senang menggunakan produk-produk dalam negeri. Niva dan keluarga telah melaksanakan sikap sesuai nilai persatuan, yaitu ....
- A. toleransi
  - B. kerja sama
  - C. cinta tanah air
  - D. rela berkorban
17. Perhatikan gambar di bawah ini!



Gambar di atas merupakan tampilan dari MI Islamiyah dalam memperingati hari Sumpah Pemuda dengan mengadakan pentas seni. Murid-murid menampilkan tari-tarian dari berbagai

daerah di Indonesia juga peragaan busana daerah Nusantara. Kegiatan dapat memperkuat . . . dalam bingkai Bhinneka Tunggal Ika.

- A. persatuan
  - B. kemerdekaan
  - C. peringatan
  - D. budaya daerah
18. Keluarga Bapak Anton sedang merayakan hari raya Idulfitri. Mereka berencana membagikan kue kering kepada tetangganya. Kebetulan ada salah satu tetangga yang berbeda agama dengan keluarga Pak Anton. Sikap terbaik Pak Anton kepada tetangga yang berbeda agama adalah . . .
- A. mengucilkan tetangga yang berbeda agama
  - B. memberikan kue kepada tetangga meskipun berbeda agama
  - C. tidak memberikan kue karena berbeda agama
  - D. tidak menyapa tetangga yang berbeda agama
19. Jalan berlubang di Desa Suka Makmur sering menyulitkan warga untuk beraktivitas sehari-hari. Namun, sekarang jalan itu sudah di perbaiki dan beraspal. Warga senang karena kegiatan sehari-hari mereka menjadi nyaman. Pernyataan tersebut membuktikan bahwa persatuan dan kesatuan dapat mewujudkan ....
- A. bertambahnya lapangan pekerjaan
  - B. kemudahan pelayanan kesehatan
  - C. kemudahan dalam beraktivitas sehari-hari
  - D. pemerataan fasilitas masyarakat
20. Persatuan dan kesatuan bangsa memiliki makna yang penting dalam kehidupan masyarakat Indonesia. Di bawah ini yang *bukan* merupakan makna persatuan dan kesatuan bangsa Indonesia adalah ....
- A. memiliki sikap nasionalisme yang tinggi
  - B. menjalin rasa persahabatan dan kekeluargaan
  - C. memiliki sikap acuh tak acuh dan sombong
  - D. rasa persatuan dan kesatuan menjalin rasa kerjasama
21. Menjaga persatuan dan kesatuan dalam masyarakat dapat dilakukan melalui kegiatan ....
- A. melakukan tugas piket kelas bersama
  - B. kerja bakti membersihkan lingkungan desa
  - C. diskusi mengerjakan tugas kelompok di kelas
  - D. bekerja sama membuat majalah dinding kelas bersama

22. Murid kelas 6 MI Al Ikhlas bekerja bakti membersihkan lingkungan sekolah. Mereka bekerja bakti secara berkelompok sesuai pembagian tugas yang diberikan gurunya. Keuntungan yang di dapat kelas 6 melakukan kegiatan kerja bakti tersebut adalah ....
- A. menimbulkan perselisihan antar teman
  - B. kegiatan membersihkan lingkungan sekolah menjadi berat
  - C. kegiatan membersihkan lingkungan sekolah cepat selesai
  - D. mengurangi kepedulian dan toleransi dengan orang lain

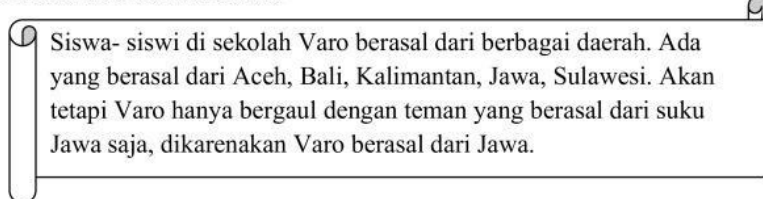
23. Perhatikan tabel berikut!

No	Perilaku dalam masyarakat
1.	membeda-bedakan jenis kelamin dalam hal tanggung jawab
2.	memberi peran yang berbeda dengan memperhatikan jenis kelamin
3.	menghormati orang lain dengan memandang perbedaan jenis kelamin
4.	memperlakukan teman, baik laki-laki maupun perempuan secara adil

Perilaku yang perlu dikembangkan dalam menghormati keberagaman gender ditunjukkan pada nomor ....

- A. (1)
  - B. (2)
  - C. (3)
  - D. (4)
24. Candra dan Dion adalah sahabat yang tinggal di lingkungan yang sama. Mereka tetap menjadi teman yang baik meskipun berbeda agama. Saat hari raya Imlek Dion selalu mengasih Candra angpau. Candra dan Dinda memiliki perayaan hari besar yang berbeda. Hari raya Imlek merupakan hari besar agama. . . .
- A. Budha
  - B. Hindu
  - C. Konghucu
  - D. Islam


25. Perhatikan ilustrasi berikut!



Masalah terkait keragaman yang terdapat pada ilustrasi tersebut yaitu ....

- A. pertentangan
- B. disintegrasi

- C. kedaerahan  
D. konflik
26. Menjaga keutuhan Negara Kesatuan Republik Indonesia merupakan kewajiban dari setiap warga negara. Sikap di bawah ini yang diperlukan dalam menjaga keutuhan NKRI adalah ....
- mengembangkan rasa bangga berbangsa dan bertanah air Indonesia
  - menjalin pertemanan dengan teman yang satu daerah
  - menganggap budaya daerahnya lebih unggul
  - mendahulukan kepentingan pribadi
27. Bhinneka Tunggal Ika adalah semboyan bangsa Indonesia dan menjadi lambang negara yang tertulis pada Garuda Pancasila. Di bawah ini yang merupakan makna dari Bhinneka Tunggal Ika adalah ....
- meskipun tidak berbeda tetapi hakikatnya bangsa Indonesia tetap beragam
  - kita harus menolak keberagaman untuk memperkuat persatuan
  - semua orang harus memiliki budaya yang sama untuk mencapai persatuan
  - meskipun beragam, kita tetap satu dalam satu identitas nasional
28. Perhatikan gambar berikut!



- Berdasarkan gambar, keutuhan wilayah NKRI sangat penting untuk ....
- memperkuat persatuan
  - memperlancar pembangunan
  - mempertahankan keutuhan NKRI dari ancaman luar maupun dalam
  - mempercepat terwujudnya tujuan nasional
29. Perhatikan tabel berikut!

No	Perilaku
1	Bayu menyukai permainan tradisional dari pada game di telepon seluler
2	Ardi mengenakan pakaian adat saat menghadiri acara pernikahan
3	Udin menggunakan bahasa gaul ketika bercakap-cakap



4	Dian lebih bangga menggunakan produk luar negeri dari pada produk dalam negeri
---	--

Perilaku tepat yang menunjukkan upaya melestarikan budaya daerah dilakukan oleh ....

- A. Bayu dan Udin
- B. Ardi dan Udin
- C. Bayu dan Ardi
- D. Udin dan Dian

30. Budaya daerah merupakan budaya yang tumbuh dan berkembang di suatu daerah tertentu yang merupakan warisan dari para pendahulu dari suatu suku yang mendiami suatu daerah. Kebudayaan daerah perlu kita lestarikan. Dari pernyataan di bawah ini, yang *bukan* merupakan manfaat melestarikan daerah adalah ....

- A. pelestarian budaya lokal juga dapat menarik wisatawan asing
- B. pelestarian budaya lokal akan memecah belah bangsa
- C. pelestarian budaya lokal dapat memperkaya kesenian dan kebudayaan nasional
- D. dengan dilestarikan budaya lokal maka nilai-nilai luhur kebudayaan masyarakat ikut terjaga

31. Perhatikan perilaku-perilaku berikut ini!

- (1) mendapatkan nilai dari guru
- (2) memperoleh pengajaran dari guru
- (3) menjaga nama baik sekolah
- (4) membantu guru mengajar

Perilaku yang merupakan kewajiban seseorang pelajar ditunjukkan pada nomor ....

- A. (1)
- B. (2)
- C. (3)
- D. (4)

32. Anak- anak merupakan generasi penerus bangsa. Oleh karenanya, kebutuhan untuk tumbuh dan berkembang dalam kehidupan anak harus diutamakan. Berikut yang *bukan* merupakan hak- hak yang dimiliki oleh anak adalah hak ....

- A. kelangsungan hidup
- B. tumbuh kembang
- C. perlindungan
- D. ekonomi

33. Setiap orang yang menggunakan jalan raya wajib mematuhi peraturan lalu lintas.

Pernyataan di bawah ini yang *bukan* merupakan manfaat yang kita dapatkan jika peraturan lalu lintas di jalankan dengan sungguh –sungguh adalah....

AM\_PPKn\_2023/2024

- A. terhindar dari kecelakaan lalu lintas
  - B. kelancaran di jalan raya dan tidak ada kemacetan
  - C. perjalanan menjadi lancar
  - D. mengurangi tugas polisi lalu lintas
34. Di Desa tempat tinggal Dino sedang diadakan pemilihan kepala desa. Dino bertugas menjaga adiknya di rumah karena ayah dan ibu Dino ikut memilih di Balai Desa. Ayah dan ibu Dino telah mendapatkan haknya sebagai warga negara Indonesia.  
Di bawah ini hak yang diperoleh ayah dan ibu Dino yang benar adalah....
- A. hak mengemukakan pendapat
  - B. hak mendapatkan pendidikan
  - C. hak kebebasan memelihara nilai-nilai budaya
  - D. hak mendapatkan perlindungan hukum
35. Hak dan kewajiban merupakan dua hal yang saling beriringan dan dimiliki oleh semua orang. Dalam menjalani kehidupan kita wajib menghargai hak- hak orang lain atas dasar persamaan hak dan kewajiban. Pelaksanaan hak berikut ini yang menghargai hak orang lain adalah....
- A. melakukan perbuatan yang diskriminasi
  - B. selalu berbuat baik dan menerapkan sopan santun
  - C. memaksakan kehendak kepada orang lain
  - D. mengambil rambutan dari kebun tetangga

## II. ISILAH TITIK-TITIK DI BAWAH INI DENGAN JAWABAN YANG BENAR!

36. Pada tanggal 29 Mei 1945 beliau menyampaikan usul dasar negara dihadapan sidang pleno BPUPKI baik dalam pidato maupun secara tertulis yang disampaikan kepada BPUPKI. Beliau mengemukakan lima calon dasar negara yaitu: Peri Kebangsaan, Peri Kemanusiaan, Peri ke-Tuhanan, Peri Kerakyatan, dan Kesejahteraan Sosial. Tokoh yang dimaksud adalah ....
37. “Kami putra dan putri Indonesia mengaku berbangsa yang satu, bangsa Indonesia” merupakan penggalan isi dari ....
38. Negara Indonesia memiliki berbagai macam suku, adat, ras, budaya dan bahasa yang berbeda-beda. Sebagai pemersatu bangsa salah satunya adalah bahasa Nasional yaitu bahasa ....
39. Perhatikan gambar di bawah ini!



Sebagai warga kita harus ikut dalam kegiatan yang ada di lingkungan sekitar seperti gambar di atas. Kegiatan diatas merupakan kewajiban kita di lingkungan . . .

40. Dian dan keluarga menyukai makanan daerah. Mereka juga senang menggunakan produk-produk dalam negeri. Dian dan keluarga telah melaksanakan sikap sesuai nilai persatuan, yaitu sila ke ....
41. Semua keluarga Pak Tono setiap hari minggu selalu bekerjasama membersihkan rumahnya. Kegiatan yang dilakukan keluarga Pak Tono tersebut merupakan contoh tanggung jawab di lingkungan ....
42. Hak setiap warga negara adalah hak mutlak yang dilakukan oleh warga negara yang baik dalam memajukan negara. Salah satu hak warga negara adalah hak atas pekerjaan dan penghidupan yang layak. Yang berbunyi “Tiap warga negara berhak atas pekerjaan dan penghidupan yang layak bagi kemanusiaan”. Terdapat dalam UUD 45 Pasal ....
43. Sumpah pemuda merupakan kebulatan tekad para pemuda dalam memperjuangkan kemerdekaan Indonesia. Sumpah Pemuda terjadi pada....
44. Paham yang muncul di tengah keutuhan persatuan dan kesatuan bangsa akan mengakibatkan perpecahan. Salah satunya adalah paham yang ingin memisahkan diri dari negara Indonesia untuk mendirikan negara sendiri. Paham tersebut merupakan paham ....
45. Perhatikan Gambar di bawah ini !



Berdasarkan gambar di samping, pekerjaan tersebut cocok dilakukan oleh masyarakat di daerah....

## **II. JAWABLAH SOAL-SOAL BERIKUT DENGAN BENAR !**

46. Pada sidang BPUPKI Ir. Soekarno menjadi salah satu penggagas rumusan dasar negara Indonesia. Sebutkan 3 rumusan dasar negara yang diusulkan oleh Ir. Soekarno!
47. Sebagai seorang siswa kita mempunyai hak yang harus kita terima. Sebutkan 3 hak kita sebagai seorang siswa di lingkungan sekolah!
48. Sebagai makhluk sosial, manusia merupakan anggota masyarakat yang juga memiliki tanggung jawab bagi sesama anggota lainnya. Sebutkan 3 tanggung jawab kita sebagai warga masyarakat!
49. Indonesia terdiri atas masyarakat yang kaya akan keberagaman, keberagaman tersebut membentang dari Sabang hingga Merauke. Oleh karena itu, sangat penting untuk membina persatuan dan kesatuan. Sebutkan 3 sikap yang harus dikembangkan untuk membina persatuan dan kesatuan bangsa!
50. Membina persatuan dan kesatuan bangsa adalah salah satu kewajiban yang harus dilakukan oleh setiap elemen masyarakat. Membina persatuan dan kesatuan banyak manfaatnya. Sebutkan 3 manfaat membina persatuan dan kesatuan bangsa!

AM\_PPKn\_2023/2024

