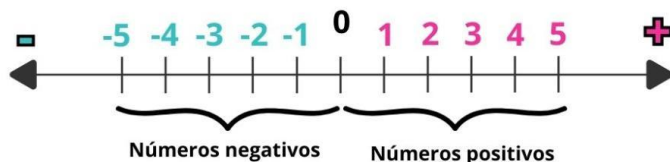


Números enteros

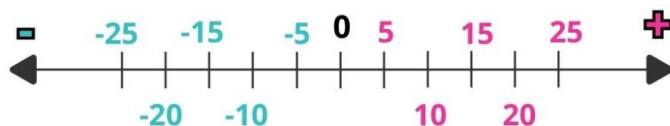
Representación



Los números enteros se representan en la recta numérica. Empezamos marcando el número 0. Este número será la frontera entre los números negativos y los positivos. A la derecha irán los positivos y a la izquierda los negativos



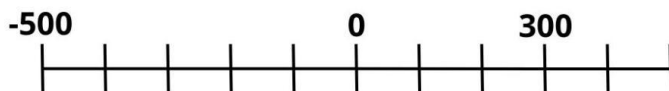
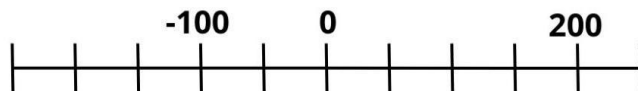
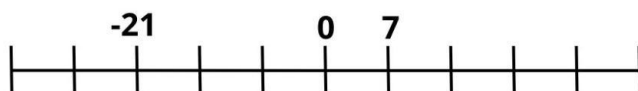
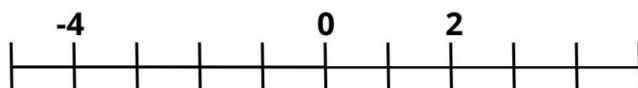
Las señales de la recta numérica pueden equivaler a una unidad, pero también se puede poner que cada señal valga más.



>>>>>>>> ¡A Practicar! >>>>>>>>

Sitúa los números en sus correspondientes lugares

-5 -7 -50 -100 100 3 -28 400 250
14 4 100 150 -250 5 35 200 -35



¡Qué tragedia!



Los ratones han pasado corriendo por encima de la recta.
¿Puedes reordenarla?

