




E-LKPD

Bangun Ruang Bola

Kelas VII



$$V = \frac{4}{3} \pi r^3$$



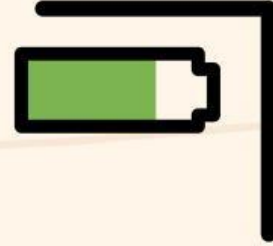

NENTI SILITONGA

 LIVEWORKSHEETS

Video Pembelajaran



Buka Kembali Video Pembelajaran berikut



Sudahkah adik-adik
paham dengan
materi hari ini? jika
sudah kita lanjut ya!!



Soal!

1. Setelah mempelajari bangun ruang bola, Tuliskan definisi bola menurut pendapatmu!

.....

.....

.....

2. Sebuah kelereng diameternya 9 mm. Berapa volumenya ? $\pi = 3,14$ (Ketik hasilnya saja)

.....

