


Nombre:.....

1.- Escribe la hora de cada reloj:


 :

 :

 :

 :

 :

 :

 :

 :

2.- Señala la hora correcta:

¿Qué reloj marca las tres y cuarto de la mañana?


☐

☐

☐

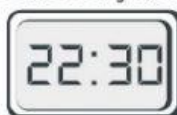
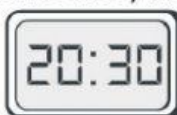
¿Qué reloj marca las siete y cuarto de la tarde?


☐

☐

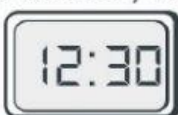
☐

¿Qué reloj marca las diez y media de la noche?


☐

☐

☐

¿Qué reloj marca las doce y media de la noche?


☐

☐

☐

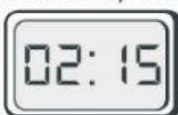
¿Qué reloj marca las seis y cuarto de la mañana?


☐

☐

☐

¿Qué reloj marca las dos y cuarto de la mañana?


☐

☐

☐

3.- Calcula:

¿Cuántos minutos tiene una hora?

100 60 120 10

¿Cuántas horas tiene un día?

20 36 12 24

¿Cuántos minutos tienen 6 horas?

360 1.000 500 600

¿Cuántas medias horas tiene un día?

12 72 48 24

4.- Completa la tabla:

Tiempo de inicio	Tiempo de término	Tiempo transcurrido
3:30 am	8:00 am	
4:15 pm		3 horas y 15 minutos
	2:30 pm	1 hora y 15 minutos
6:30 am	9:45 am	
3:00 pm		4 horas y 30 minutos