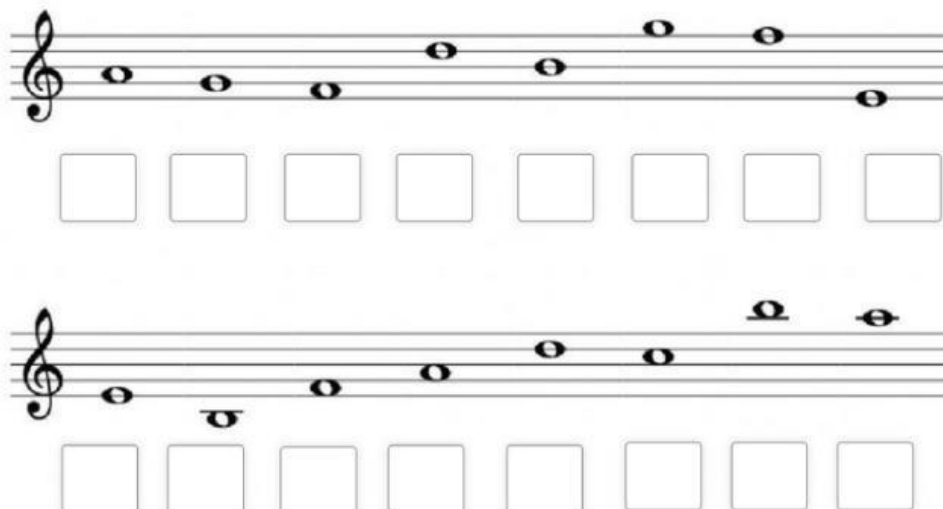


1 Escribe el nombre de las siguientes notas:




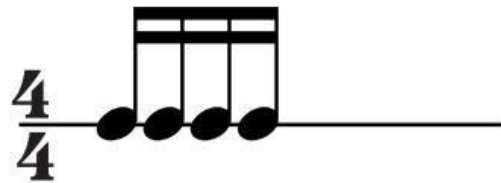


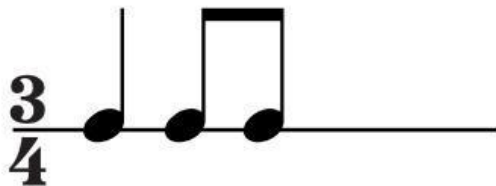
The first staff contains eight notes: a half note on G4, a half note on F4, a half note on E4, a half note on D4, a half note on C4, a half note on B3, a half note on A3, and a half note on G3. Below each note is an empty square box for labeling.

The second staff contains eight notes: a half note on G3, a half note on F3, a half note on E3, a half note on D3, a half note on C3, a half note on B2, a half note on A2, and a half note on G2. Below each note is an empty square box for labeling.

2 Relaciona cada figura con su nombre y silencio:

	redonda	
	semicorchea	
	blanca	
	corchea	
	negra	

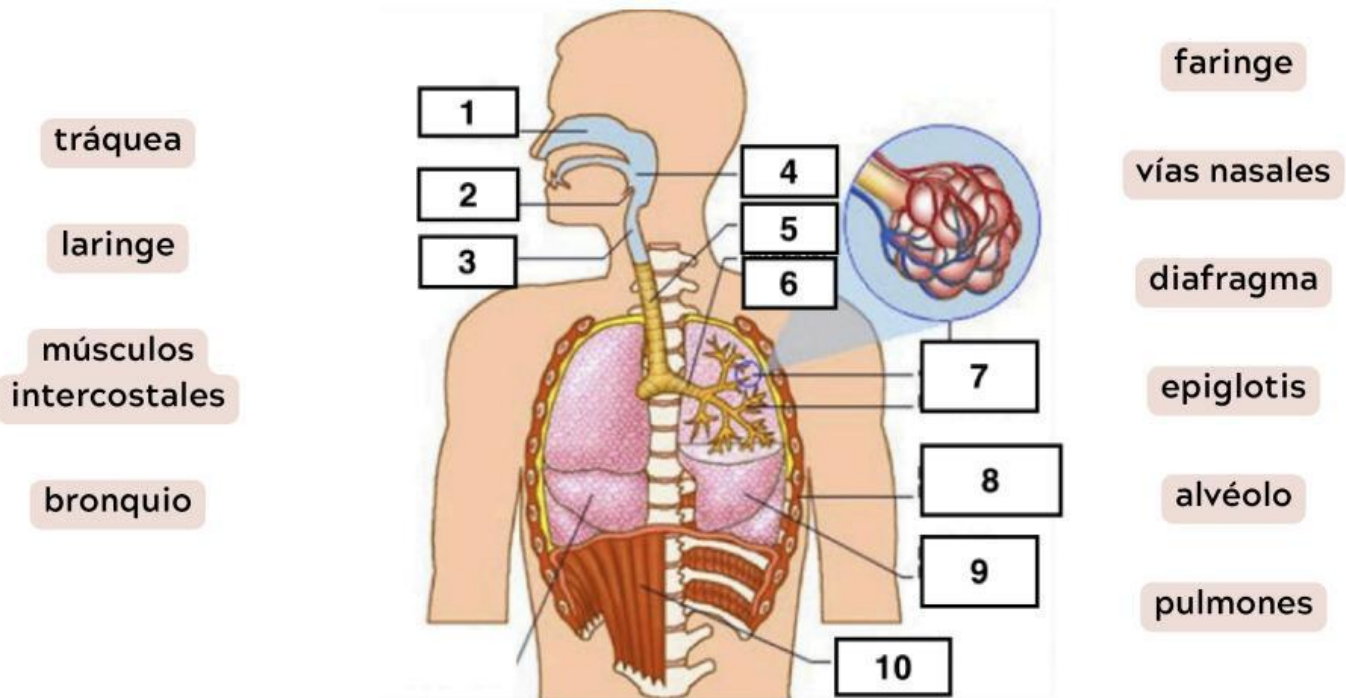
3 Completa los siguientes compases con las figuras que faltan:



4 A continuación tienes las principales embocaduras de los instrumentos de viento. ¿Cuál es cada una?



5 Identifica los elementos de la siguiente imagen:



6 Pon el nombre a los siguientes instrumentos:





7 Completa el siguiente esquema:

