

Nama : _____

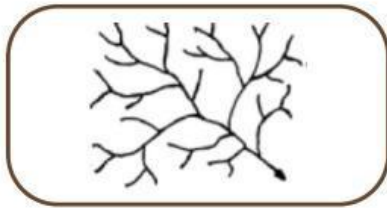
Tanggal : _____

Kelas : _____

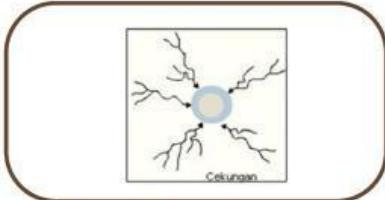
Hari : _____

LKPD HIDROSFER

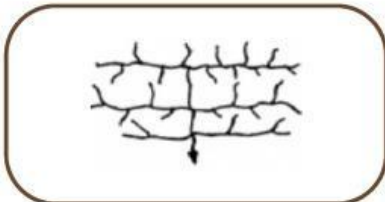
1. Hubungkan gambar dan tulisan berikut sesuai dengan jawaban yang benar !



pola aliran yang menyebar meninggalkan pusatnya yang berbentuk kerucut. Ditemukan di daerah dome



pola aliran yang induk dan anak-anak sungainya membentuk sudut tegak lurus. Ditemukan di daerah lipatan



pola aliran yang membentuk sudut siku-siku. Ditemukan di daerah patahan



pola aliran sungai yang membentuk lingkaran. Ditemukan di daerah dome



pola aliran yang tidak teratur mirip seperti cabang-cabang pohon. Ditemukan di daerah plato



pola aliran yang mengumpul menuju ke pusat atau cekungan. Ditemukan di daerah cekungan

2. Pasangkanlah fungsi sungai dibawah ini dengan gambar yang tersedia !

Menampung air hujan


Sumber kehidupan

Pengendali banjir

Pembangkit tenaga listrik

Tempat olahraga dan wisata

Pusat ekosistem



3. Tuliskan nama dan penjelasan gambar dibawah ini !

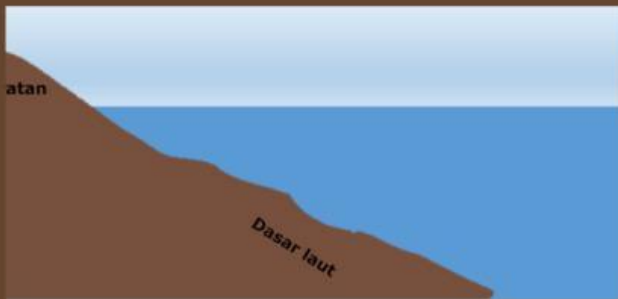
.....
.....

Deskripsikanlah gambar berikut !



Daerah aliran sungai adalah

.....



Zona laut terdiri dari

.....



Daerah tepi pantai tercemar

.....