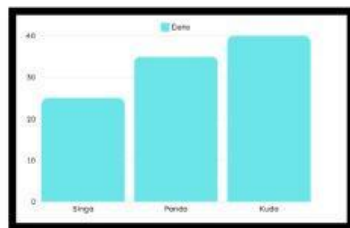


Nama :
Absen :

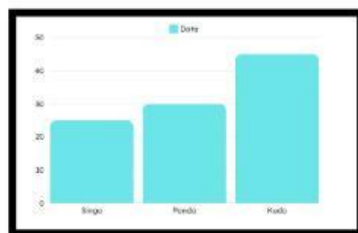
1. Perhatikan data dibawah ini!

Hewan	Jumlah
Singa	25
Panda	30
Kuda	45

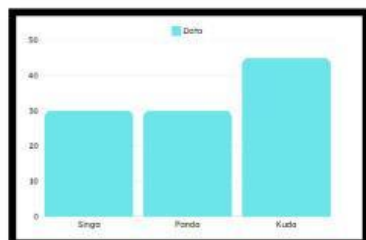
Grafik batang yang sesuai dengan data diatas adalah ...



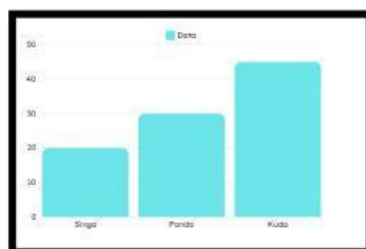
a.



b.

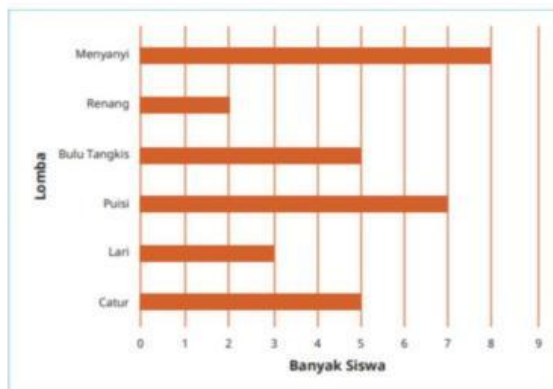


c.



d.

2. Perhatikan data dibawah ini!



Data yang sesuai dengan diagram batang diatas adalah ...

a

Lomba	Banyak Siswa
Menyanyi	8
Renang	4
Bulu Tangkis	5
Puisi	8
Lari	3
Catur	4

b

Lomba	Banyak Siswa
Menyanyi	8
Renang	2
Bulu Tangkis	5
Puisi	7
Lari	3
Catur	5

c

Lomba	Banyak Siswa
Menyanyi	8
Renang	2

Bulu Tangkis	6
Puisi	7
Lari	3
Catur	4

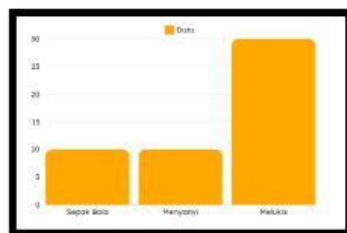
d

Lomba	Banyak Siswa
Menyanyi	8
Renang	2
Bulu Tangkis	8
Puisi	7
Lari	5
Catur	5

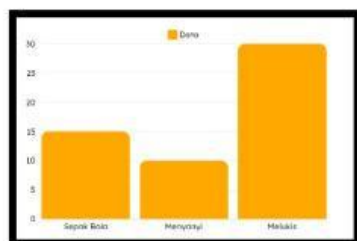
3. Perhatikan data dibawah ini!

Hobi	Jumlah
Sepakbola	15
Menyanyi	10
Melukis	25

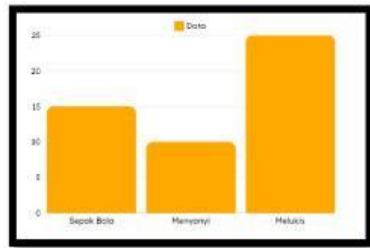
Grafik data yang sesuai dengan data diatas adalah ...



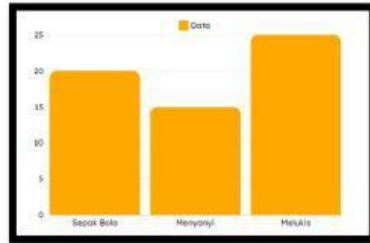
a.



b.



c.



d.

4. Perhatikan data dibawah ini!



Data yang sesuai dengan diagram batang diatas adalah ...

a

Bunga	Banyak Bunga
Anggrek	9
Melati	8
Matahari	3
Sepatu	4
Kertas	8
Mawar	5

b

Bunga	Banyak Bunga
Anggrek	7

Melati	8
Matahari	5
Sepatu	6
Kertas	9
Mawar	5

c

Bunga	Banyak Bunga
Anggrek	8
Melati	8
Matahari	3
Sepatu	4
Kertas	9
Mawar	5

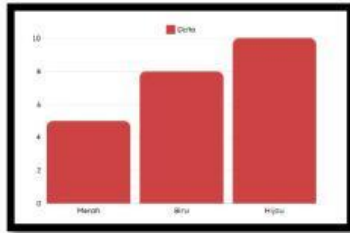
d

Bunga	Banyak Bunga
Anggrek	7
Melati	8
Matahari	3
Sepatu	4
Kertas	9
Mawar	5

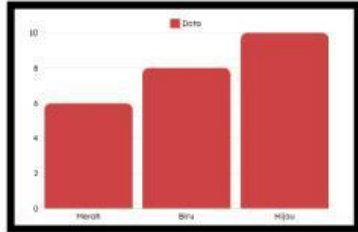
5. Perhatikan data dibawah ini!

Warna Favorite	Jumlah
Merah	5
Biru	8
Hijau	10

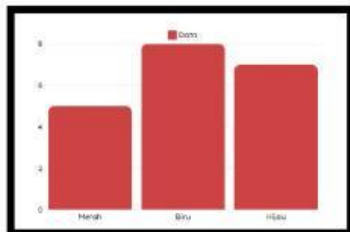
Grafik Data yang sesuai dengan diagram batang diatas adalah ...



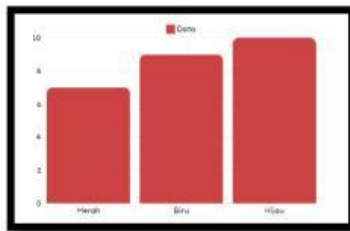
a.



b.



c.



d.