

LKPD

Lembar Kerja Peserta Didik MATEMATIKA

Untuk Kelas I Sekolah Dasar



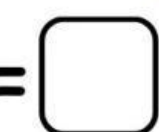
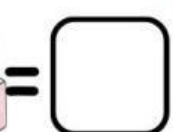
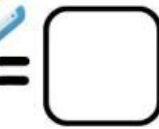

Nama :

Kelas :

Absen :

Ayo Berhitung!

Hitunglah masing-masing gambar yang sesuai dengan jenisnya dan tuliskan hasilnya pada kotak yang tersedia!



Mari Berhitung

Buatlah garis untuk menghubungkan jawaban yang benar

$8 + 13$

23

$9 + 6$

15

$16 + 7$

37

$19 + 18$

21