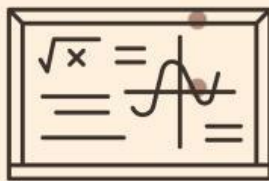


LKPD

Lembar Kerja Peserta Didik

Bab 3 : Perkalian dan Pembagian



Disusun Oleh : Fidella Shafa Anggita

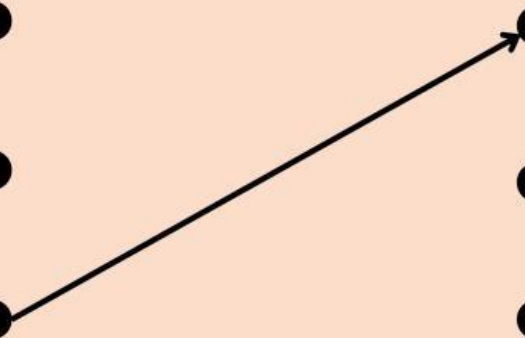
Nama:

Kelas:

Perkalian

Pasangkan dengan jawaban yang tepat

$4 \times 9 =$	●	●	9
$2 \times 7 =$	●	●	24
$5 \times 5 =$	●	●	25
$6 \times 4 =$	●	●	42
$8 \times 9 =$	●	●	45
$6 \times 7 =$	●	●	49
$5 \times 9 =$	●	●	14
$3 \times 3 =$	●	●	32
$8 \times 4 =$	●	●	36
$7 \times 7 =$	●	●	72



Nama:

Kelas:

Perkalian Hasil Sama

Isilah titik-titik tersebut dengan bilangan yang tepat agar keduanya memiliki hasil perkalian yang sama

5	X	4	=	10	X	...
----------	----------	----------	---	-----------	----------	-----

6	X	3	=	9	X	...
----------	----------	----------	---	----------	----------	-----

7	X	8	=	8	X	...
----------	----------	----------	---	----------	----------	-----

2	X	6	=	4	X	...
----------	----------	----------	---	----------	----------	-----

9	X	4	=	6	X	...
----------	----------	----------	---	----------	----------	-----

Nama:

Kelas:

Pembagian

Pasangkan dengan jawaban yang tepat

$36 : 6 =$



7

$18 : 9 =$



4

$27 : 9 =$



7

$32 : 8 =$



6

$21 : 3 =$



9

$81 : 9 =$



3

$63 : 7 =$



8

$54 : 6 =$



8

$42 : 7 =$

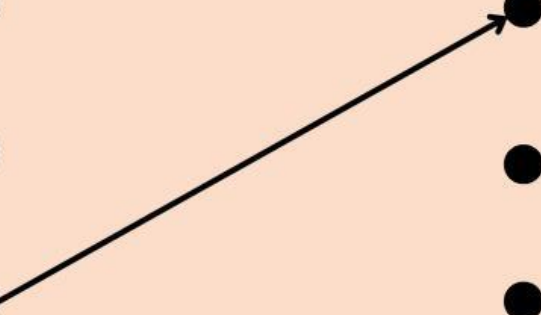


6

$49 : 7 =$



2



Nama:

Kelas:

Pembagian Hasil Sama

Isilah titik-titik tersebut dengan bilangan yang tepat agar keduanya memiliki hasil pembagian yang sama

$$\boxed{24} \div \boxed{4} = \boxed{60} \div \boxed{\dots}$$

$$\boxed{21} \div \boxed{3} = \boxed{49} \div \boxed{\dots}$$

$$\boxed{64} \div \boxed{8} = \boxed{32} \div \boxed{\dots}$$

$$\boxed{12} \div \boxed{6} = \boxed{18} \div \boxed{\dots}$$

$$\boxed{20} \div \boxed{4} = \boxed{30} \div \boxed{\dots}$$