



**KEMENTERIAN AGAMA KABUPATEN MAGETAN
MADRASAH IBTIDAIYAH NURUL HUDA SETUGU
ASESMEN MADRASAH (AM)
TAHUN PELAJARAN 2023/2024**

LEMBAR SOAL		
Mata Pelajaran	:	Pendidikan Pancasila dan kewarganegaraan
Jenjang	:	Madrasah Ibtidaiyah
Hari/Tanggal	:	Rabu 24 April 2024
Waktu	:	09 .30- 11.00

PETUNJUK UMUM
<ol style="list-style-type: none">1. Berdo'a kepada Allah SWT sebelum memulai mengerjakan paket soal2. Isikan identitas Anda ke dalam Lembar Jawaban Ujian Madrasah dengan menggunakan pensil 2B3. Isikan jawaban soal ke dalam Lembar Jawaban sesuai petunjuk4. Tersedia waktu 120 menit untuk mengerjakan soal5. Jumlah soal sebanyak 50 butir yang terdiri dari 35 butir pilihan ganda, 10 butir soal isian singkat, dan 5 butir uraian6. Periksa dan bacalah soal-soal sebelum Anda menjawabnya7. Laporkan kepada pengawas ujian apabila terdapat lembar soal yang kurang jelas, rusak, atau tidak lengkap8. Periksalah pekerjaan Anda sebelum diserahkan kepada pengawas ujian.

I. PILIHLAH SALAH SATU JAWABAN YANG BENAR !

1. Agenda sidang pertama BPUPKI yang dilakukan pada 29-1 Juni 1945 adalah
 - A. perumusan dasar Negara Indonesia
 - B. membentuk panitia perancang undang-undang dasar
 - C. mengesahkan Undang-Undang Dasar 1945
 - D. memilih Ir. Soekarno sebagai presiden dan Drs. Moh. Hatta sebagai wakil presiden

2. Perhatikan hasil sidang berikut!
 - 1) menetapkan berdirinya Komite Nasional Indonesia Pusat
 - 2) pembentukan Komite Nasional
 - 3) pembentukan Partai Nasional Indonesia
 - 4) menetapkan wilayah Indonesia terdiri atas delapan provinsi
 - 5) memilih Ir. Soekarno sebagai presiden dan Drs. Moh. Hatta sebagai wakil presiden

Berdasarkan pernyataan di atas yang termasuk hasil sidang PPKI pada 22 Agustus 1945 ditunjukkan oleh angka

 - A. 1) dan 2)
 - B. 2) dan 3)
 - C. 2) dan 4)
 - D. 4) dan 5)

3. Salah satu tugas Panitia Persiapan Kemerdekaan Indonesia (PPKI) yang dihasilkan pada sidang kedua 19 Agustus 1945 adalah
 - A. membentuk panitia nasional (daerah)
 - B. membentuk Partai Nasional Indonesia
 - C. membentuk Badan Keamanan Rakyat
 - D. membentuk KNIP





4. Perhatikan rumusan dasar negara berikut!
 - 1) Kebangsaan Indonesia
 - 2) Internasionalisme atau peri kemanusiaan
 - 3) Mufakat atau demokrasi
 - 4) Kesejahteraan social
 - 5) Ketuhanan yang berkebudayaan

Rumusan dasar negara di atas diusulkan dalam sidang pertama BPUPKI oleh

 - A. Ir. Soekarno
 - B. Drs. Moh. Hatta

- C. Prof. Dr. Soepomo
- D. Mr. Muhammad Yamin

5. Niko menerapkan sikap hemat dalam kehidupan sehari-hari. Lambang sila Pancasila sesuai perilaku yang diterapkan Niko adalah

- A. 
- B. 
- C. 
- D. 

6. Dina sedang bersepeda ke area persawahan. Di sana ada sungai yang sangat jernih. Namun dia melihat ada seseorang yang membawa beberapa plastik sampah untuk dibuang di sungai tersebut. Tindakan Dina seharusnya

- A. membiarkan karena yang dibuang hanya beberapa sampah
- B. membantu orang itu membuang sampah di sungai
- C. menegur orang itu dengan sopan
- D. tidak peduli

7. Aturan agama mempunyai manfaat dalam kehidupan bermasyarakat, berbangsa, dan bernegara. Salah satu manfaatnya adalah

- A. memberikan semangat kepada umat beragama dan kepercayaan untuk lebih berbahagia
- B. mendorong umat beragama dan kepercayaan untuk hidup merdeka
- C. dapat menyadarkan umat beragama dapat kepercayaan untuk hidup sederhana
- D. mendorong umat beragama dan kepercayaan untuk meningkatkan iman dan taqwa

8. Pengguna jalan memiliki kewajiban untuk menaati aturan lalu lintas. Pelaksanaan kewajiban yang sebaiknya dilakukan oleh pejalan kaki adalah

- A. berjalan kaki di tengah jalan
- B. berjalan kaki sambil bermain ponsel
- C. menyeberang jalan saat lampu menyala merah
- D. menyeberang jalan menggunakan jembatan penyeberangan

9. Perhatikan beberapa pernyataan berikut.

1)	Mendapatkan kondisi lingkungan desa yang aman dan nyaman
2)	Menjalin sosialisasi dengan tetangga sekitar
3)	Mendapat perlindungan dari orang tua

4)	Mendapat bimbingan dari guru
----	------------------------------

Hak peserta didik di lingkungan masyarakat ditunjukkan oleh angka

- A. 1) dan 2)
- B. 1) dan 3)
- C. 2) dan 3)
- D. 3) dan 4)

10. Paman Andi tidak pernah mau membantu tetangga yang mengalami kesulitan. Paman Andi juga tidak pernah mengikuti rapat RT. Akibat dari perilaku Paman Andi adalah

- A. ditegur guru
- B. tidak peduli teman
- C. dikucilkan teman sekelas
- D. menjadi bahan pembicaraan warga

11. Warga negara wajib melaksanakan hak dan kewajibannya. Contoh kewajiban warga negara adalah

- A. mendapatkan pekerjaan
- B. memiliki SIM saat mengendarai kendaraan bermotor
- C. bebas memilih agama yang diakui di Indonesia
- D. memperoleh perlindungan hukum

12. Setiap warga negara Indonesia memiliki hak menikmati kekayaan alam di Indonesia. Pelaksanaan hak tersebut secara bertanggung jawab terwujud dalam tindakan

- A. melakukan pembalakan liar
- B. melakukan perburuan liar di hutan lindung
- C. menerapkan sistem tebang pilih saat menebang pohon
- D. melakukan pembakaran hutan untuk memperluas lahan perkebunan

13. Perhatikan pernyataan berikut.

1)	Membakar sampah dengan jumlah besar
2)	Tebang pilih hutan
3)	Menggunakan energi alternatif
4)	Membuang limbah di sungai

Dari pernyataan di atas, bentuk tanggung jawab menjaga lingkungan ditunjukkan oleh angka

- A. 1) dan 2)
- B. 1) dan 3)
- C. 2) dan 3)
- D. 3) dan 4)

14. Aldo ingin memelihara ayam. Ayah membelikan Aldo seekor ayam sebagai hadiah ulang tahun. Bentuk tanggung jawab yang sebaiknya dilakukan Aldo adalah

- A. memberi makan ayam secara teratur
- B. mengumbar ayam di halaman rumah
- C. membiarkan ayam mencari makan sendiri
- D. membiarkan ayam lepas ke rumah tetangga

15. Provinsi Aceh memiliki tari Saman sebagai kesenian tradisional. Yogyakarta terkenal dengan gudeg sebagai makanan khas. Papua mempunyai rumah adat yang khas yaitu honai.

Kondisi ini menunjukkan bahwa bangsa Indonesia kaya akan

- A. ragam budaya
- B. suku bangsa
- C. gender
- D. ras

16. Perhatikan ilustrasi berikut!

Melalui Badan Nasional Penanggulangan Bencana (BNPB), pemerintah memberikan bantuan kepada masyarakat yang menjadi korban bencana alam di Indonesia.

Nilai persatuan dan kesatuan yang terkandung dalam kebijakan pemerintah tersebut adalah

- A. mengajarkan rasa cinta tanah air
- B. mengembangkan patriotisme dalam masyarakat
- C. menunjukkan kepedulian terhadap rakyat
- D. mengajarkan toleransi sesama manusia

17. Perhatikan gambar di bawah ini!



Gambar di atas merupakan contoh bukti bahwa Indonesia memiliki keberagaman budaya.

Banyak wisatawan asing yang membeli batik guna dijadikan sebagai cinderamata.

Salah satu manfaat dari keberagaman budaya di Indonesia adalah ...

- A. memupuk sikap toleransi
- B. menumbuhkan sikap nasionalisme
- C. sebagai identitas di mata internasional
- D. menjadikan perbedaan sebagai alat pemersatu bangsa

18. Ani dan Ina menganut agama yang berbeda, mereka senang bermain bersama. Saat bermain Ina meminta izin untuk beribadah salat. Sikap Ani sebaiknya ...
- A. mempersilakan Ina beribadah
 - B. melarang Ina untuk beribadah
 - C. memarahi Ina yang sedang beribadah
 - D. membuat gaduh saat Ina beribadah
19. Jembatan di Desa Suka Makmur yang rusak sering menyulitkan warga untuk beraktivitas sehari-hari. Namun, sekarang jembatan itu sudah di perbaiki. Warga senang karena kegiatan sehari-hari mereka menjadi nyaman. Pernyataan tersebut membuktikan bahwa persatuan dan kesatuan dapat mewujudkan
- A. bertambahnya lapangan pekerjaan
 - B. kemudahan pelayanan kesehatan
 - C. kemudahan dalam beraktivitas sehari-hari
 - D. pemerataan fasilitas masyarakat
20. Masyarakat Indonesia terdiri dari keberagaman suku, budaya dan sosial. Walaupun hidup dalam keberagaman, masyarakat Indonesia diikat dengan persatuan dan kesatuan bangsa. Berikut ini yang *bukan* makna persatuan dan kesatuan bangsa adalah
- A. bersedia saling menjaga kerukunan antar suku, agama dan daerah
 - B. membiasakan saling tolong menolong sesama warga negara Indonesia
 - C. mengajak semua orang untuk memakai bahasa daerah di manapun berada
 - D. berusaha saling menghargai antar penduduk
21. Menjaga persatuan dan kesatuan bangsa merupakan tanggung jawab semua warga masyarakat. Yang bukan merupakan perilaku yang dapat menjaga persatuan dan kesatuan bangsa
- A. suka membantu orang lain
 - B. mengikuti kegiatan di masyarakat
 - C. saling menyanyangi anggota keluarga
 - D. menolak hasil musyawarah
22. Radit dan teman-teman melakukan piket kelas. Mereka melakukan tugas sesuai pembagian yang disepakati bersama. Manfaat kegiatan yang dilakukan Radit dan teman-temannya adalah
- A. tugas membersihkan kelas menjadi lebih berat
 - B. menimbulkan perselisihan antar teman
 - C. meningkatkan kerukunan antarteman
 - D. tugas piket kelas akan menjadi lama

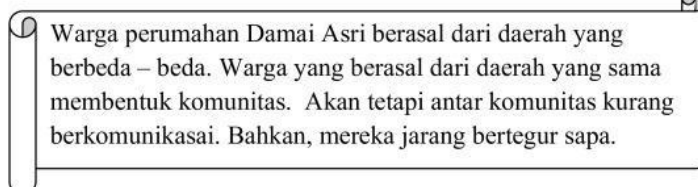
23. Perhatikan tabel berikut!

No	Perilaku dalam masyarakat
1.	mengelola daerah cagar alam
2.	membuat film tentang kebudayaan bangsa
3.	menumbuhkan sikap simpati dan empati
4.	mengoleksi film-film asing di laptop

Perilaku melestarikan budaya daerah dalam keberagaman ditunjukkan pada nomor

- A. 1) dan 2)
 - B. 1) dan 4)
 - C. 2) dan 3)
 - D. 3) dan 4)
24. Sarah dan Dinda adalah sahabat yang tinggal di lingkungan yang sama. Mereka tetap menjadi teman yang baik meskipun berbeda agama. Sarah selalu berbagi gulai kambing saat hari raya Iduladha. Sarah dan Dinda memiliki perayaan hari besar yang berbeda. Hari raya Iduladha merupakan hari besar agama
- A. Budha
 - B. Hindu
 - C. Katolik
 - D. Islam

25. Perhatikan ilustrasi berikut!



Kondisi pada ilustrasi tersebut dapat menimbulkan

- A. konflik
 - B. persatuan
 - C. kesenjangan
 - D. kecemburuan sosial
26. Menjaga keutuhan Negara Kesatuan Republik Indonesia merupakan kewajiban dari setiap warga negara. Sikap di bawah ini yang diperlukan dalam menjaga keutuhan NKRI adalah
- A. membolos sekolah

- B. melanggar aturan sekolah
- C. membedakan teman dalam pergaulan
- D. memelihara kerukunan dengan sesama warga

27. Lambang Negara Indonesia adalah Garuda Pancasila dengan semboyan Bhinneka Tunggal Ika.

Makna semboyan tersebut adalah

- A. meskipun berbeda-beda tetapi hakikatnya bangsa Indonesia tetap satu kesatuan
- B. meskipun berbeda-beda tetapi hakikatnya bangsa Indonesia tetap beragama
- C. meskipun tidak berbeda tetapi hakikatnya bangsa Indonesia tetap beragama
- D. meskipun tidak berbeda tetapi pada hakikatnya bangsa Indonesia tetap satu kesatuan

28. Perhatikan gambar berikut!



Aktivitas pada gambar berkaitan dengan pentingnya menjaga keutuhan wilayah NKRI, yaitu

....

- A. memperkuat persatuan
- B. menggunakan produk-produk import
- C. menciptakan keamanan dalam negeri
- D. mempercepat terwujudnya tujuan nasional

29. Perhatikan tabel berikut!

No	Perilaku
1	Andi menyukai game di telepon seluler dari pada permainan tradisional
2	Doni mengenakan pakaian adat saat menghadiri acara pernikahan
3	Udin menggunakan bahasa gaul ketika bercakap-cakap
4	Aris lebih bangga menggunakan produk dalam negeri

Perilaku tepat yang menunjukkan upaya melestarikan budaya daerah dilakukan oleh

- A. Andi dan Doni
- B. Doni dan Aris
- C. Udin dan Aris
- D. Udin dan Doni

30. Budaya daerah merupakan kebudayaan yang tumbuh dan berkembang di suatu daerah tertentu, yang merupakan warisan dari para pendahulu yang mendiami suatu daerah. Kebudayaan daerah harus senantiasa kita lestarikan. Salah satu manfaat melestarikan budaya daerah adalah
- A. tumbuhnya sikap individualisme
 - B. berkembangnya rasa cinta tanah air
 - C. selesainya kasus klaim budaya
 - D. munculnya budaya baru dalam masyarakat
31. Perhatikan perilaku-perilaku berikut ini!
- (1) Belajar dengan giat.
 - (2) Mentaati peraturan di sekolah.
 - (3) Menjaga nama baik sekolah.
 - (4) Membantu guru mengajar
- Perilaku yang *bukan* merupakan kewajiban seseorang pelajar ditunjukkan pada nomor
- A. (1)
 - B. (2)
 - C. (3)
 - D. (4)
32. Hak anak adalah bagian dari hak asasi manusia yang wajib dijamin, dilindungi, dan dipenuhi oleh orang tua sebagai lingkungan yang utama dan pertama. Berikut yang merupakan hak- hak yang dimiliki oleh anak adalah hak
- A. kelangsungan hidup
 - B. ekonomi
 - C. politik
 - D. peradilan
33. Saat guru menjelaskan di depan kelas, Ina sibuk mengganggu Lili yang duduk disampingnya. Dampak dari perilaku Ina tersebut di kelas adalah....
- A. keamanan lingkungan akan terjaga
 - B. mendorong terciptanya kegiatan masyarakat
 - C. mendorong terciptanya situasi aman dan tentram
 - D. akan ada hak orang lain yang tidak terpenuhi
34. Di desa Suka Maju ibu-ibu PKK mendapatkan pelatihan membuat. Melalui pelatihan membuat diharapkan masyarakat khususnya ibu-ibu PKK bisa menciptakan lapangan pekerjaan demi meningkatkan kesejahteraan keluarga dan masyarakat.
- Di bawah ini hak yang diperoleh ibu-ibu PKK sebagai warga Negara adalah
- A. hak pekerjaan dan penghidupan yang layak
 - B. hak mendapatkan pendidikan
 - C. hak kebebasan memelihara nilai-nilai budaya

D. hak mendapatkan perlindungan hukum

35. Hak dan kewajiban merupakan dua hal yang dimiliki tiap-tiap individu. Dalam menjalani kehidupan kita wajib menghargai hak- hak orang lain atas dasar persamaan hak dan kewajiban. Pelaksanaan hak berikut ini yang menghargai hak orang lain adalah....
- A. mematikan radio ketika teman sedang berdoa
 - B. menyanyi dengan suara yang keras ketika teman sedang belajar
 - C. menanam tanaman di pekarangan tetangga
 - D. menggambil mangga dari kebun tetangga

II. ISILAH TITIK-TITIK DI BAWAH INI DENGAN JAWABAN YANG BENAR!

36. Beliau merupakan salah satu tokoh perumus dasar negara. Beliau juga menjabat sebagai ketua PPKI. Tokoh yang dimaksud adalah
37. Sumpah pemuda diikrarkan oleh para pemuda Indonesia dalam kongres pemuda II di Jakarta pada tanggal 28 Oktober 1928. Dalam isi rumusan Sumpah Pemuda tersebut terkandung nilai utama, yaitu satu nusa (tanah air), satu bangsa, dan
38. Sebuah bangunan memiliki fondasi agar dapat berdiri kokoh. Negara juga membutuhkan dasar negara sebagai fondasi berdirinya negara. Dasar negara Indonesia tersebut, yaitu....
39. Perhatikan gambar di bawah ini!



Gambar diatas merupakan salah satu bentuk kegiatan sesuai dengan nilai-nilai Pancasila, sebagai siswa harus dilaksanakan dengan penuh . . .

40. Cinta tanah air merupakan sikap yang harus dimiliki bangsa Indonesia. Sikap tersebut sesuai nilai sila Pancasila, yaitu sila
41. Seorang anak berkewajiban mematuhi peraturan yang berlaku, tidak mengganggu adik saat bermain dan harus senantiasa menjaga dan menyayangnya. Merupakan contoh sikap tanggung jawab di lingkungan
42. Salah satu hak warga negara adalah hak atas pekerjaan dan penghidupan yang layak. Yang berbunyi “Tiap warga negara berhak atas pekerjaan dan penghidupan yang layak bagi kemanusiaan”. Terdapat dalam UUD 45 Pasal
43. Sumpah Pemuda menyatukan para pemuda dari seluruh rakyat Indonesia untuk menjadi bangsa yang berdaulat dan bersatu. Peristiwa sumpah pemuda terjadi pada tanggal....

44. Untuk menjaga keutuhan kesatuan dan persatuan bangsa, ada beberapa sikap yang harus dihindari. Salah satunya adalah paham yang ingin memisahkan diri dari negara Indonesia untuk mendirikan negara sendiri. Paham tersebut merupakan paham

45. Perhatikan Gambar di bawah ini !



Berdasarkan gambar tersebut, pekerjaan tersebut cocok dilakukan oleh masyarakat di daerah....

II. JAWABLAH SOAL-SOAL BERIKUT DENGAN BENAR !

46. Pada sidang BPUPKI 31 Mei 1945, Prof. Dr. Soepomo mengajukan usulan dasar negara untuk Indonesia merdeka. Sebutkan 3 dasar negara yang diusulkan oleh Prof. Dr. Soepomo!
47. Sebagai seorang siswa tentu mempunyai kewajiban.
Sebutkan 3 kewajiban sebagai seorang siswa di lingkungan sekolah!
48. Agar hubungan baik dalam kehidupan masyarakat terjaga, setiap anggota masyarakat hendaknya sadar akan tanggung jawabnya sebagai warga masyarakat.
Sebutkan 3 tanggung jawab kita sebagai warga masyarakat!
49. Persatuan dan kesatuan merupakan hal yang sangat penting bagi Bangsa Indonesia. Banyak tindakan yang dapat dilakukan untuk membina persatuan dan kesatuan.
Sebutkan 3 sikap yang harus dikembangkan untuk membina persatuan dan kesatuan bangsa!
50. Sikap membina persatuan dan kesatuan bangsa harus dibangun oleh berbagai pihak. Membina persatuan dan kesatuan NKRI banyak manfaatnya.
Sebutkan 3 manfaat membina persatuan dan kesatuan bangsa!