

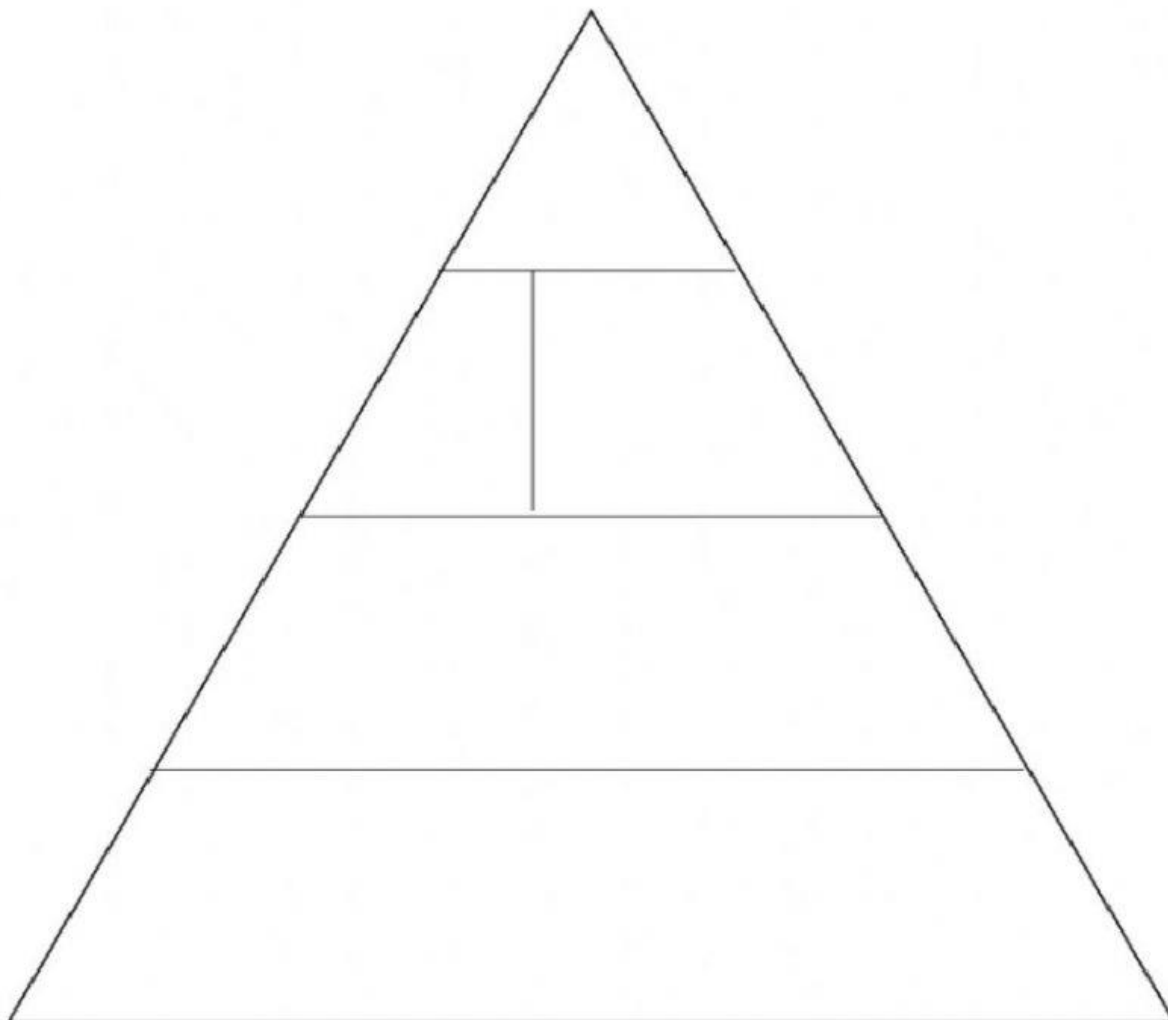


SOALAN 3.2 KEPENTINGAN GIZI SEIMBANG (BUKU TEKS M/S 53)

Pilih jawapan yang tepat.




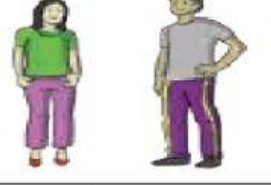

1. Apakah maksud gizi seimbang?

2. Lengkapi piramid makanan di bawah berdasarkan piramid makanan yang ditambah baik (2020).



Pilih jawapan yang betul.

3. Faktor-faktor yang mempengaruhi keperluan kalori (Buku teks muka surat 54)

<p>Saiz badan Orang yang mempunyai saiz badan yang _____ perlu mengambil kuantiti makanan yang lebih _____ kerana mereka memerlukan lebih _____ tenaga berbanding dengan orang yang mempunyai saiz badan yang _____.</p>	
<p>Umur Kanak-kanak dan remaja memerlukan karbohidrat yang lebih _____ untuk tenaga dan protein untuk pertumbuhan kerana mereka sedang _____ dan lebih aktif berbanding dengan orang dewasa.</p>	
<p>Pekerjaan Petani, buruh dan nelayan memerlukan lebih _____ tenaga kerana mereka melakukan kerja _____. Oleh itu, keperluan gizi mereka adalah lebih _____ berbanding dengan orang yang bekerja di pejabat.</p>	
<p>Jantina Secara umumnya, lelaki _____ berotot dan melakukan aktiviti yang lebih _____. Oleh itu, mereka memerlukan kuantiti makanan yang lebih _____ daripada perempuan.</p>	
<p>Keadaan kesihatan Orang yang sakit adalah _____ dan memerlukan sajian makanan yang lebih sesuai dengan keadaan kesihatannya.</p>	
<p>Iklim Orang yang tinggal di negara beriklim _____ lebih cepat kehilangan haba ke persekitaran berbanding dengan orang yang tinggal di negara beriklim _____. Oleh itu, mereka memerlukan kuantiti makanan yang lebih _____ untuk mengekalkan suhu badan.</p>	