

NAMA : .....

NOMOR : .....

KELAS : .....



# LEMBAR KERJA PESERTA DIDIK (LKPD) Perkalian dan Pembagian



Disusun oleh :  
Desta Puspa Aulia  
K7122081  
4G



Nama : \_\_\_\_\_

Tanggal : \_\_\_\_\_

Kelas : \_\_\_\_\_

Nilai : \_\_\_\_\_

## Perkalian Dengan Buah Apel

Jawab soal soal di bawah ini dengan benar !

$$8 \times 4 =$$



$$9 \times 5 =$$



$$6 \times 2 =$$



$$7 \times 3 =$$



$$9 \times 7 =$$



$$6 \times 6 =$$



$$8 \times 8 =$$






$$6 \times 8 =$$






# Pembagian Dengan Buah Apel

Jawab soal soal di bawah ini dengan benar !




$10 : 5 =$




$6 : 3 =$




$9 : 3 =$




$10 : 2 =$




$8 : 2 =$

$15 : 3 =$

$20 : 2 =$

$20 : 5 =$

