

LKPD

# MATEMATIKA

## Bangun Datar

$d = \pi r^2$

$a^2 + b^2 = c^2$

# BANGUN DATAR

Sebutkan nama bangun di bawah ini!

1

2

3

4

5


6

NAMA :

KELAS :

# BANGUN DATAR

BERIKAN NOMOR URUT PADA GAMBAR BERIKUT  
MULAI DARI YANG TERBESAR



Urutan....




Urutan....

# BANGUN DATAR

BERIKAN NOMOR URUT PADA GAMBAR BERIKUT  
MULAI DARI YANG TERBESAR



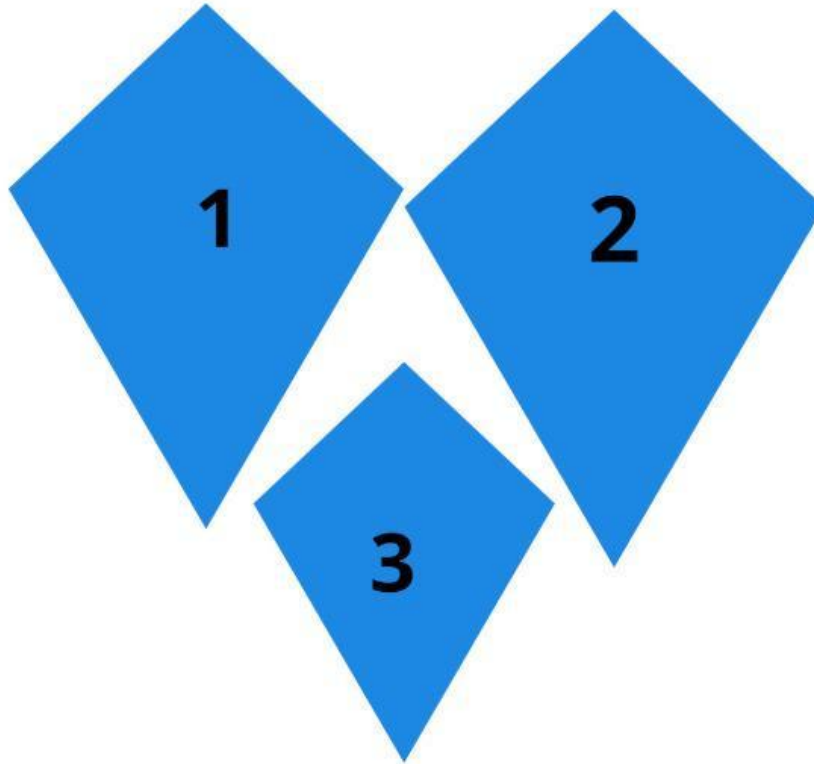
Urutan....




Urutan....

# BANGUN DATAR

BERIKAN NOMOR URUT PADA GAMBAR BERIKUT  
MULAI DARI YANG TERBESAR



Urutan....



Urutan....