

# ESCUELA ROGELIO FERNÁNDEZ GÜELL



Primera Prueba escrita de Ciencias

Prof. Gloriana Castro Gutiérrez

I Semestre, segundo grado

Tiempo estimado: 80 minutos

Sección: 2-3

Valor: 37 puntos / Porcentaje 10%

Fecha: lunes 22 de abril de 2024

Nombre: \_\_\_\_\_

Hora de inicio: \_\_\_\_\_ Hora de finalización: \_\_\_\_\_

Firma del encargado legal: \_\_\_\_\_

Puntos obtenidos: \_\_\_\_\_

Porcentaje obtenido: \_\_\_\_\_

Calificación: \_\_\_\_\_

## INSTRUCCIONES GENERALES

- Escriba con letra clara. Cuide su ortografía y aseo.
- Para contestar la prueba utilice lápiz de grafito.
- En caso de error en la selección única pase una cruz (+) sobre la equis (X) de tal manera que forme un asterisco (\*), y a la par anote la palabra **NO**.
- Revise que el examen consta de **8 páginas** identificadas con los ítems: **Selección de Respuesta, Correspondencia y Respuesta corta**.

### Selección de Respuesta

**Valor 16 puntos** (Cada acierto vale 1 punto).

Escriba equis (X) dentro del paréntesis que presenta la opción correcta.

1. Lea la siguiente información

Durante esta etapa se crece, se juega y se asiste a la escuela.

La información anterior hace referencia a un cambio en la etapa del desarrollo humano llamada

- ( ) infancia.
- ( ) madurez.
- ( ) adolescencia.

2. Lea la siguiente información

El cuerpo se alarga más, experimenta cambios y ya no juega como en la etapa anterior.

La información anterior hace referencia a un cambio en la etapa del desarrollo humano llamada

- ( ) infancia.
- ( ) ancianidad.
- ( ) adolescencia.

3. Lea la siguiente información

En esta etapa la piel se arruga y el cabello se vuelve blanco.

La información anterior hace referencia a un cambio en la etapa del desarrollo humano llamada

- ( ) infancia.
- ( ) madurez.
- ( ) ancianidad.


4. Lea la siguiente información

Son la manera en que las personas se desenvuelven frente a otros y cómo se llevan con otros.

La información anterior hace referencia al concepto llamado

- ( ) etnia.
- ( ) melanina.
- ( ) relaciones humanas.

5. Observe las siguientes imágenes



El caso en que **se cumple una norma de convivencia** se encuentra en la opción

- (   ) 1.
- (   ) 2.
- (   ) 3.

6. Observe las siguientes imágenes



Una situación que **afecta la buena convivencia de una familia** se encuentra en la opción

- (   ) 1.
- (   ) 2.
- (   ) 3.

7. Lea la siguiente información

Utilizar los aparatos electrónicos con las manos secas y bajo la supervisión de un adulto.



La información anterior hace referencia a un **consejo para prevenir**

- (   ) conflictos.
- (   ) accidentes.
- (   ) enfermedades.


8. Observe las siguientes imágenes



¿Cuál dibujo representa una medida de **prevención de accidentes en la comunidad**?

- (   ) 1.
- (   ) 2.
- (   ) 3.

9. Observe las siguientes imágenes



¿Cuál dibujo representa una **medida de prevención de enfermedades**?

- (   ) 1.
- (   ) 2.
- (   ) 3.

10. Un **objeto de peligro** para los niños y niñas en la cocina corresponde a

- (   ) cuchillo.
- (   ) cucharra.
- (   ) servilleta.

11. Una situación **que ayuda a la disminución de enfermedades** corresponde a

- (   ) Tocar lugares contaminados.
- (   ) Estornudar sin taparse la boca.
- (   ) Lavar las frutas antes de consumirlas.



12. Una situación **que ayuda a la disminución de accidentes** corresponde a

- (    ) No fijarse antes de cruzar la carretera.
- (    ) Comer despacio para evitar atragantamiento.
- (    ) Utilizar los aparatos eléctricos con las manos mojadas.

13. Una situación **que perjudica la salud** corresponde a

- (    ) Tocar juguetes de niños.
- (    ) Lavar las frutas antes de consumirlas.
- (    ) Tomar medicamentos sin supervisión de un adulto.

14. Al **órgano más extenso del cuerpo humano** se le denomina

- (    ) piel.
- (    ) sudor.
- (    ) melanina.

15. A la **sustancia que le da el color a la piel** se le denomina

- (    ) poros.
- (    ) sudor.
- (    ) melanina.

16. Lea la siguiente información

Es un grupo de personas que tienen similitudes raciales  
(color de piel, tipo de cabello, entre otros).

La información anterior hace referencia al término denominado

- (    ) sudor.
- (    ) etnia.
- (    ) melanina.

## Correspondencia

**Valor 5 puntos** (Cada acierto vale 1 punto).

1. En la columna A se presentan las definiciones de las distintas etapas del desarrollo humano. En la columna B el nombre de cada una de esas etapas. Haga coincidir, el nombre con la definición, colocando dentro del paréntesis el número que corresponde. Cada respuesta se utiliza una vez.

### Columna A

- Está entre los 30 años y los 65 años.



- Comienza de los 12 a los 18 años de edad.



- Ocurre de los 65 años de edad en adelante.



- Comienza desde que las personas nacen hasta más o menos los 12 años.



- Se extiende desde los 18 a los 30 años de edad.



### Columna B

( ) 1. Infancia.

( ) 2. Adolescencia.

( ) 3. Juventud.

( ) 4. Madurez.

( ) 5. Ancianidad.

## **Respuesta corta**

**Valor 16 puntos** (Cada acierto vale 1 punto).

Responda en forma clara y ordenada lo que se le solicita a continuación.

1. Escriba en la columna de la derecha, **sí** o **no**, según corresponda en cuanto a las diferencias étnicas en la población costarricense. (**Valor 4 puntos**)

- a. Los principales grupos étnicos de Costa Rica son: mestizos, mulatos, indígenas, afro costarricenses y asiáticos. \_\_\_\_\_
- b. Sin importar el color de piel, todas las personas tienen los mismos derechos y responsabilidades. \_\_\_\_\_
- c. Todas las personas tienen el mismo color de piel. \_\_\_\_\_
- d. Todas las personas son diferentes. \_\_\_\_\_

2. Escriba **3 acciones que ayudan a mantener la piel saludable**. (**Valor 3 puntos**)

- a. \_\_\_\_\_
- b. \_\_\_\_\_
- c. \_\_\_\_\_

3. Escriba tres **normas de convivencia** que permiten mantener las buenas relaciones entre personas en la escuela. (**Valor 3 puntos**)

- a. \_\_\_\_\_
- b. \_\_\_\_\_
- c. \_\_\_\_\_

4. Escriba tres funciones de la piel, tomando de referencia las imágenes que se le proporcionan. (Valor 3 puntos, 1 punto cada acierto)



a. \_\_\_\_\_



b. \_\_\_\_\_




c. \_\_\_\_\_

5. Escriba en la columna de la derecha, **el nombre de las instituciones que trabajan para el cuidado de la salud de las personas**, según la imagen correspondiente. (Valor 3 puntos)



a.

\_\_\_\_\_



b.

\_\_\_\_\_



c.

\_\_\_\_\_