

WAKTU DAN DURASI

Lembar Kerja Peserta Didik
Matematika Kelas 2 Bab 3 Volume 1



Oleh: Westu Sedyo Kinasih

Video Materi

Simaklah video tentang materi waktu dan durasi ini untuk menambah pemahamanmu!



Waktu dan Durasi

Setelah penjelasan materi oleh guru dan penayangan video, jelaskan apa saja yang kamu ketahui tentang waktu dan durasi!

Nama: _____

Tanggal: _____

Tunjukkan Waktu yang Telah Berlalu


Bersiaplah untuk memecahkan masalah ini dan menunjukkan waktu akhir setiap aktivitas dengan menggambar jarum jam menggunakan alat gambar Live Worksheet!

1

Pelajaran berenang Elianna memakan waktu 1 jam dan 20 menit. Jika dia mulai pukul 16:00, jam berapa berakhir dia akan selesai?

Jam	Menit
+	

Tunjukkan jawaban lengkapmu di sini.




00:00 PAGI/SIANG/
MALAM/SIANG

2

Sky dan Ava menyelesaikan pertandingan basket mereka pada pukul 11:55, setelah bermain selama 25 menit. Jam berapa mereka mulai bermain?

Jam	Menit
+	

Tunjukkan jawaban lengkapmu di sini.



00:00 PAGI/SIANG/
MALAM/SIANG

Nama: _____

Tanggal: _____

Kelas: _____

Jam berapa?

Seret dan lepas waktu tertulis ke jam yang sesuai.



Jam enam

Pukul lima kurang 10 menit



Jam dua belas

Pukul dua kurang tiga puluh menit



Jam lima

Pukul delapan lebih 20 menit



Pukul dua belas lebih dua puluh lima menit

Pukul delapan

Jam empat




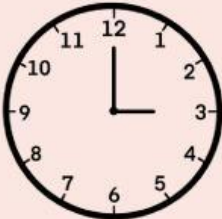








Name: _____

Date: _____

Waktu

Lihatlah waktu pada jam dinding dan pilih opsi di sampingnya dengan tepat!

 <p>Pukul dua</p> <p>Pukul dua belas</p>	 <p>Pukul delapan</p> <p>Pukul sembilan</p>
 <p>Pukul sebelas</p> <p>Pukul sepuluh</p>	 <p>Pukul tiga</p> <p>Pukul tujuh</p>
 <p>Pukul lima</p> <p>Pukul empat</p>	 <p>Pukul sembilan</p> <p>Pukul delapan</p>
 <p>Pukul tujuh</p> <p>Pukul enam</p>	 <p>Pukul lima</p> <p>Pukul enam</p>
 <p>Pukul satu</p> <p>Pukul empat</p>	 <p>Pukul lima</p> <p>Pukul sembilan</p>

Nama :
Kelas :



Hubungkan!

Hubungkan pasangan yang tepat dengan sebuah garis!

1 tahun

48 jam

60 detik

3600 detik

14 hari

12 bulan

180 menit

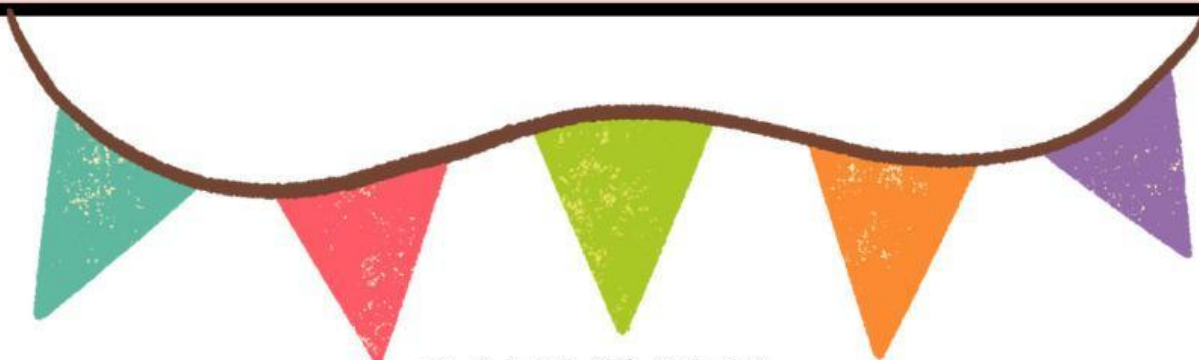
3 jam

2 hari

1 menit

1 jam

2 minggu



CARI KATA

WAKTU DAN DURASI

s	n	s	j	a	m	k	d	k	l	x
e	s	n	w	k	d	e	t	i	k	m
p	s	i	a	n	g	p	p	g	d	e
e	g	y	k	t	b	w	a	a	r	n
r	b	t	t	p	u	q	k	g	d	i
e	n	a	u	n	l	p	u	g	i	t
m	h	h	a	n	a	l	o	g	g	p
p	z	u	c	v	n	g	d	r	i	k
a	i	n	g	g	u	i	u	g	t	f
t	a	k	a	l	b	x	a	k	a	k
s	e	t	e	n	g	a	h	f	l	t



JAM BERAPA?

Tulis waktu yang ditunjukkan pada jam analog!



:



:



:



:



:



:



:



:



:

Jam berapa?

Lihatlah jarum jam. Tulis waktu yang benar di bawah setiap jam!



Pukul setengah tujuh

Pukul lima kurang 30 menit

Pukul 16.30

Pukul sebelas lebih 30 menit

Pukul 13.30

Pukul sepuluh kurang 30 menit





Latihan Soal

Nama Siswa:

Nomor absen:

Berapa lama waktu antara pukul 01.00 sampai 04.00 sore?

Pukul berapakah 3 jam setelah pukul 11.00 pagi?

Pukul berapakah 2 jam sebelum pukul 01.00 siang?

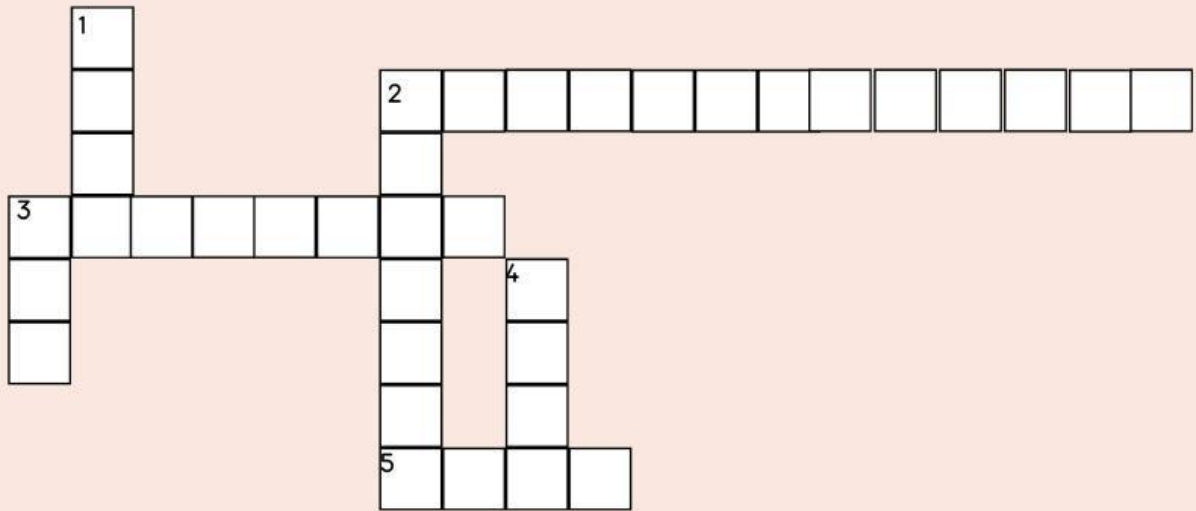
Berapa lama waktu antara pukul 9 lebih 20 menit pagi sampai dengan pukul 10 lebih 10 menit pagi?

Yuli berbelanja dengan ibunya. Mereka meninggalkan rumah pada pukul 02.55 siang. Setelah berbelanja, mereka kembali ke rumah dan tiba pukul 04.57 sore. Berapa lama mereka pergi?



Teka Teki Silang

Isilah kotak yang telah disediakan sesuai dengan soal yang ada di bawah!



Mendatar



2. 1 hari = ... jam

3. Durasi waktu jarum pendek berputar sekali adalah ... jam

5. 60 menit = ...jam



Menurun



1. Durasi waktu jarum panjang berputar sekali putar adalah ... jam

2. Tengah hari sama dengan pukul ... siang

3. Jarum pendek dalam sehari berputar sebanyak ... kali

4. Durasi waktu untuk jarum panjang berpindah satu skala pada jam disebut dengan...



Time

