

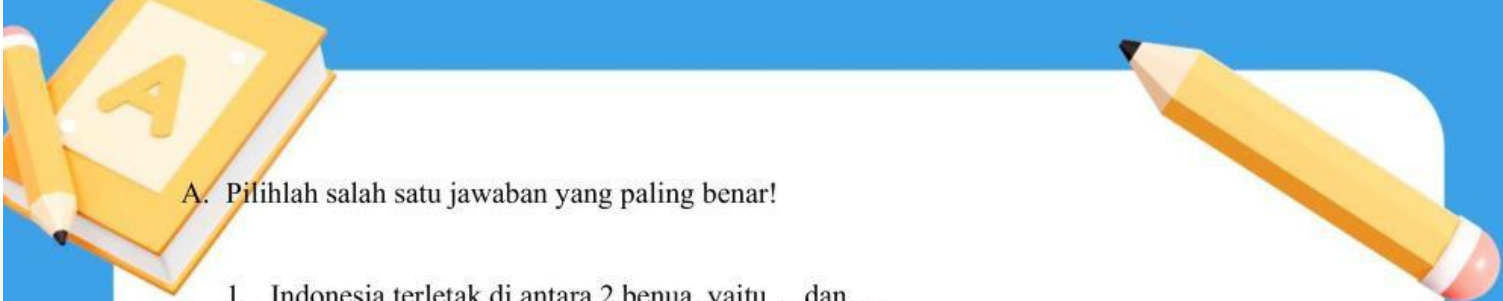
LKPD

LEMBAR KERJA PESERTA DIDIK

Makna NKRI

Untuk Kelas IV Semester 2







A. Pilihlah salah satu jawaban yang paling benar!

1. Indonesia terletak di antara 2 benua, yaitu....dan....
 - a. benua Afrika dan benua Australia
 - b. benua Asia dan benua Antartika
 - c. benua Asia dan benua Australia
 - d. benua Eropa dan benua Australia

 2. Indonesia merupakan negara yang terdiri dari ribuan pulau sehingga dikenal negara kepulauan. Seperti yang dinyatakan tegas dalam UUD RI 1945 pasal....
 - a. 25B
 - b. 25A
 - c. 26B
 - d. 26A

 3. Sistem pemerintahan yang berlaku di Indonesia yaitu....
 - a. republik
 - b. presidential
 - c. kepulauan
- 



d. kesatuan

4. Indonesia memiliki dasar Negara sebagai pandangan hidup dalam berbangsa dan bernegara. Dasar negara Indonesia yaitu....

a. garuda pancasila

b. pancasila

c. bhineka Tunggal ika

d. bendera merah putih

5. Pahlawan nasional yang mengetik naskah proklamasi yaitu.....

a. Sayuti Melik

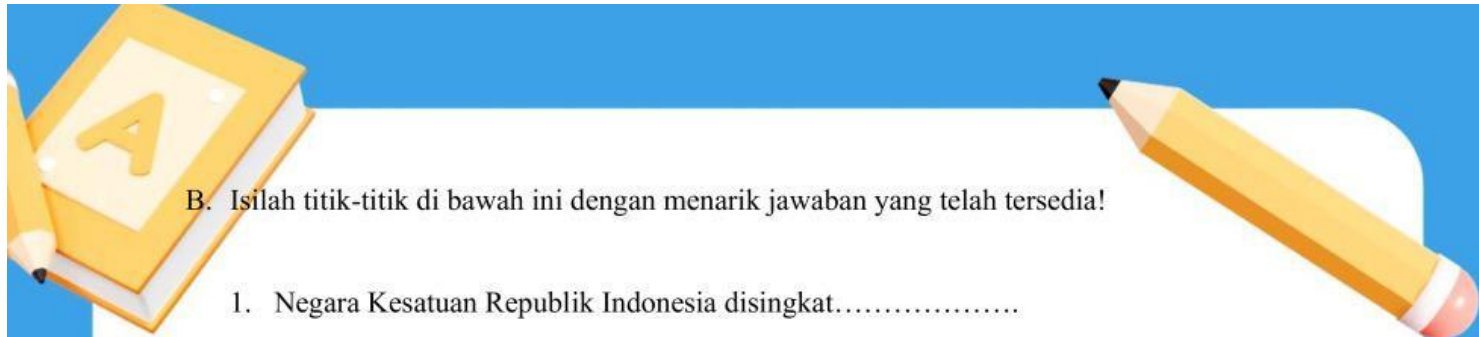
b. Ir. Soekarno

c. Moh. Hatta

d. Agus Salim



A B C



B. Isilah titik-titik di bawah ini dengan menarik jawaban yang telah tersedia!

1. Negara Kesatuan Republik Indonesia disingkat.....
2. Cinta tanah air merupakan pengamalan dan wujud sila ke.....Pancasila
3. Bentuk pemerintahan Indonesia yaitu.....
4. Negara Indonesia dipimpin oleh.....
5. Indonesia merdeka ditandai dengan peristiwa.....

Presiden

tiga

NKRI

Republik

Proklamasi