

WAKTU DAN DURASI

Lembar Kerja Peserta Didik



Oleh: Westu Sedyo Kinasih

Nama: _____

Tanggal: _____

Tunjukkan Waktu yang Telah Berlalu


Bersiaplah untuk memecahkan masalah ini dan menunjukkan waktu akhir setiap aktivitas dengan menggambar jarum jam menggunakan alat gambar Canva!

1

Pelajaran berenang Elianna memakan waktu 1 jam dan 20 menit. Jika dia mulai pukul 16:00, jam berapa berakhir dia akan selesai?

Jam	Menit
+	

Tunjukkan jawaban lengkapmu di sini.



00:00 PAGI/SIANG/
MALAM/SIANG

2

Sky dan Ava menyelesaikan pertandingan basket mereka pada pukul 11:55, setelah bermain selama 25 menit. Jam berapa mereka mulai bermain?

Jam	Menit

Tunjukkan jawaban lengkapmu di sini.



00:00 PAGI/SIANG/
MALAM/SIANG

Name: _____

Date: _____

Class: _____

What time is it?

Drag and drop the written times to their corresponding clocks.



Pukul enam

Pukul lima kurang 10 menit



Pukul dua belas

Pukul dua kurang tiga puluh menit



Pukul lima

Pukul delapan lebih 20 menit



Pukul dua belas lebih dua puluh lima menit

Pukul delapan

Pukul empat



Name: _____

Date: _____

Class: _____

Jam berapa?

Drag and drop the written times to their corresponding clocks.



Pukul enam

Pukul lima kurang 10 menit



Pukul dua belas

Pukul dua kurang tiga puluh menit



Pukul lima

Pukul delapan lebih 20 menit



Pukul dua belas lebih dua puluh lima menit

Pukul delapan

Pukul empat













Name: _____

Date: _____

Waktu

Lihatlah waktu pada jam dinding dan pilih opsi di sampingnya dengan tepat!

 <div>Pukul dua</div> <div>Pukul dua belas</div>	 <div>Pukul delapan</div> <div>Pukul sembilan</div>
 <div>Pukul sebelas</div> <div>Pukul sepuluh</div>	 <div>Pukul tiga</div> <div>Pukul tujuh</div>
 <div>Pukul lima</div> <div>Pukul empat</div>	 <div>Pukul sembilan</div> <div>Pukul delapan</div>
 <div>Pukul tujuh</div> <div>Pukul enam</div>	 <div>Pukul lima</div> <div>Pukul enam</div>
 <div>Pukul satu</div> <div>Pukul empat</div>	 <div>Pukul lima</div> <div>Pukul sembilan</div>

Nama :
Kelas :



Hubungkan!

Hubungkan pasangan yang tepat dengan sebuah garis.

1 tahun

48 jam

60 detik

3600 detik

14 hari

12 bulan

180 menit

3 jam

2 hari

1 menit

1 jam

2 minggu



CARI KATA

WAKTU DAN DURASI

j	a	m	c	s	j	k	d	k	l	x
g	s	n	w	k	d	e	t	i	k	m
g	s	i	a	n	g	h	p	g	d	e
e	g	y	k	t	b	w	u	a	r	n
p	b	t	t	p	u	q	k	m	d	i
e	n	a	u	n	l	p	u	g	i	t
r	h	h	a	n	a	l	o	g	g	p
x	z	u	c	v	n	g	d	r	i	k
m	i	n	g	g	u	i	u	g	t	f
h	a	k	a	l	b	x	a	k	a	k
s	e	t	e	n	g	a	h	f	l	t

JAM BERAPA

Tulis waktu yang ditunjukkan pada jam analog! :




:



:



:



:



:



:



:



:



:

What Time Is It?

Look at the hands of the clock. Write the correct time below each clock.



Pukul setengah tujuh

Pukul lima kurang 30 menit

Pukul 04.30

Pukul sebelas lebih 30 menit

Pukul 13.30

Pukul sepuluh kurang 30 menit



Latihan Soal

Nama Guru:

Kelas:

Berapa lama waktu antara pukul 01.00 sampai 04.00 sore?

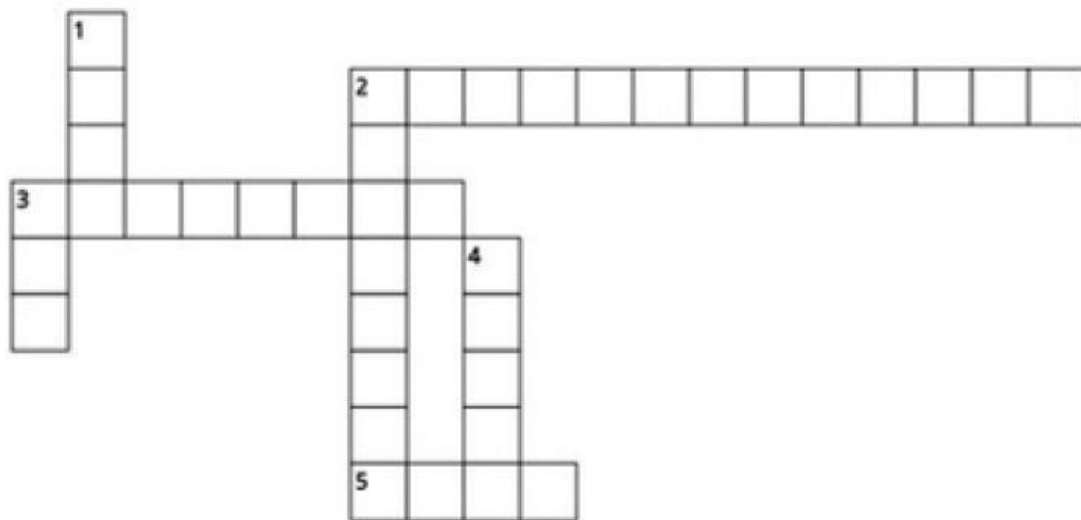
Pukul berapakah 3 jam setelah pukul 11.00 pagi?

Pukul berapakah 2 jam sebelum pukul 01.00 siang?

Berapa lama waktu antara pukul 9 lebih 20 menit pagi sampai dengan pukul 10 lebih 10 menit pagi?

Yuli berbelanja dengan ibunya. Mereka meninggalkan rumah pada pukul 02.55 siang. Setelah berbelanja, mereka kembali ke rumah dan tiba pukul 04.57 sore. Berapa lama mereka pergi?

Waktu dan Durasi Kelas 2 Kurikulum Merdeka



Across

- 2. 1 hari = ... jam
- 3. Durasi waktu jarum pendek berputar sekali adalah ... jam
- 5. 60 menit = ... jam

Down

- 1. Durasi waktu jarum panjang berputar sekali putar adalah ... jam
- 2. Tengah hari sama dengan pukul ... siang
- 3. Jarum pendek dalam sehari berputar sebanyak ... kali
- 4. Durasi waktu untuk jarum panjang berpindah satu skala pada jam disebut dengan ...

Time

